


SCIENCES NUMÉRIQUES ET TECHNOLOGIE



BROCHURE « ÉLÈVES »

© Pascal Brachet
<https://www.xmlmath.net/>

Version 1.3 Février 2022



Vous êtes libre de reproduire, distribuer, communiquer et adapter l'œuvre selon les conditions suivantes :

- Vous n'avez pas le droit d'utiliser cette œuvre à des fins commerciales.
- Si vous modifiez, transformez ou adaptez cette œuvre, vous n'avez le droit de distribuer votre création que sous une licence identique ou similaire à celle-ci.

Cette brochure a été réalisée avec le système de composition \LaTeX et l'éditeur \TeX MAKER .

https://www.xmlmath.net/texmaker/index_fr.html

Sommaire

1 Algorithmique - Initiation à python	5		
1. Structures de base en langage naturel	5		
1) Variables et affectations	5		
2) Instructions conditionnelles	6		
3) Boucles	7		
4) Fonctions	9		
2. Initiation à python	10		
1) Introduction	10		
2) Équivalences entre langage naturel et python	10		
3) Application	15		
4) Autres fonctionnalités utiles de python	16		
5) Tester des scripts python en ligne	16		
2 Représentation numérique et traitement des données	17		
1. Le système binaire	17		
2. Les unités en informatique	18		
3. Représentation numérique des caractères et des textes	19		
4. Représentation matricielle	20		
1) Généralités	20		
2) Somme, différence et multiplication par un nombre	20		
3) Multiplication de deux matrices	20		
5. Représentation numérique des images	24		
1) Exemple de codage d'une image en noir et blanc	24		
2) Exemple de codage d'une image en niveaux de gris	24		
3) Exemple de codage d'une image en couleur	25		
4) Définition, résolution, profondeur d'une image	25		
5) Compression	26		
6) Formats, métadonnées	27		
6. De l'analogique vers le numérique - systèmes embarqués	27		
1) Généralités	27		
		2) Exemple : numérisation d'un son	27
		7. La représentation de textes enrichis	28
		1) Exemple avec le langage du web : le HTML	28
		8. Trier des données numériques	30
		1) 1 ^{re} étape : comment insérer un nouvel élément dans une liste triée?	30
		2) Le principe du tri par insertion	30
		9. Organisation des données	31
		10. Le problème des données personnelles	32
		3 Les graphes au service des systèmes numériques	33
		1. Les graphes non orientés	33
		1) Généralités	33
		2) Chaines	36
		3) Sous-graphe complet	37
		4) Coloration d'un graphe	38
		5) Graphes pondérés	40
		6) Chaîne de poids minimal - Algorithme de Dijkstra	40
		2. Les graphes orientés	45
		4 Compléments	49
		1. Les moteurs de recherche	49
		1) Principe	49
		2) Détermination du classement des résultats	50
		2. Parcours Eulériens	51
		3. Numération hexadécimale	52
		1) Conversion binaire - hexadécimal	52
		2) Conversion hexadécimal - décimal	52
		3) Le codage des couleurs dans les pages Web	53
		4. Compléments sur le HTML	53

1)	Retour à la ligne en html	53	1)	Vocabulaire de base	56
2)	Listes en html	54	2)	Le chiffre de César	56
3)	Caractères spéciaux	54	3)	Le chiffre de Vigenère	57
4)	Complément sur les styles de texte en html	54	7.	Graphes probabilistes	58
5.	Exemple de table de routage	56	8.	Les métiers du numérique	61
6.	Un peu de cryptographie	56	5 Révisions		62

Algorithmique - Initiation à python

1. Structures de base en langage naturel

1) Variables et affectations

Les variables en algorithmique

- Les variables algorithmiques peuvent servir à stocker des données de différents types, mais nous nous contenterons ici d'utiliser des variables du type NOMBRE.
- La valeur d'une variable peut changer au fil des instructions de l'algorithme.
- Les opérations sur les variables s'effectuent ligne après ligne et les unes après les autres.
- Quand une ligne du type « mavariable ← un calcul », on effectue d'abord le calcul et on stocke ensuite le résultat dans mavariable.

► Exercice n°1

On considère l'algorithme suivant :

```
Variables: x,y,z
1: DEBUT_ALGORITHME
2: | x ← 2
3: | y ← 3
4: | z ← x+y
5: FIN_ALGORITHME
```

Après exécution de l'algorithme : la variable x contient la valeur : ;

la variable y contient la valeur : ; la variable z contient la valeur :

► Exercice n°2

On considère l'algorithme suivant :

```
Variables: x
1: DEBUT_ALGORITHME
2: | x ← 2
3: | x ← x+1
4: FIN_ALGORITHME
```

Après exécution de l'algorithme, la variable x contient la valeur :

► Exercice n°3

Ajoutons la ligne « x ← 4*x » à la fin du code précédent. Ce qui donne :

```
Variables: x
1: DEBUT_ALGORITHME
2: | x ← 2
3: | x ← x+1
4: | x ← 4*x
5: FIN_ALGORITHME
```

Après exécution de l'algorithme, la variable x contient la valeur :

► Exercice n°4

On considère l'algorithme suivant :

```
Variables: A,B,C
1: DEBUT_ALGORITHME
2: | A ← 5
3: | B ← 3
4: | C ← A+B
5: | B ← B+A
6: | A ← C
7: FIN_ALGORITHME
```

Après exécution de l'algorithme : la variable A contient la valeur : ;

la variable B contient la valeur :

la variable C contient la valeur :

► Exercice n°5

On considère l'algorithme suivant :

```
Variables: x,y,z
1: DEBUT_ALGORITHME
2:   LIRE x
3:   y ← x-2
4:   z ← -3*y-4
5:   AFFICHER z
6: FIN_ALGORITHME
```

On cherche maintenant à obtenir un algorithme équivalent sans utiliser la variable y. Compléter la ligne 3 dans l'algorithme ci-dessous pour qu'il réponde au problème.

```
Variables: x,z
1: DEBUT_ALGORITHME
2:   LIRE x
3:   z ← .....
4:   AFFICHER z
5: FIN_ALGORITHME
```

2) Instructions conditionnelles

— SI...ALORS...SINON —

Comme nous l'avons vu ci-dessus, un algorithme permet d'exécuter une liste d'instructions les unes à la suite des autres. Mais on peut aussi demander à un algorithme de n'exécuter des instructions que si une certaine condition est remplie. Cela se fait grâce à au bloc d'instructions SI . . . ALORS :

```
SI...ALORS
...
FIN_SI
```

Il est aussi possible d'indiquer en plus à l'algorithme de traiter le cas où la condition n'est pas vérifiée. On obtient alors la structure suivante :

```
SI...ALORS
...
FIN_SI
SINON
...
FIN_SINON
```

► Exercice n°6

On cherche à créer un algorithme qui demande un nombre à l'utilisateur et qui affiche la racine carrée de ce nombre s'il est positif. Compléter la ligne 3 dans l'algorithme ci-dessous pour qu'il réponde au problème.

```
Variables: x,racine
1: DEBUT_ALGORITHME
2:   LIRE x
3:   SI (.....) ALORS
4:     racine ←  $\sqrt{x}$ 
5:     AFFICHER racine
6:   FIN_SI
7: FIN_ALGORITHME
```

► Exercice n°7

On cherche à créer un algorithme qui demande à l'utilisateur d'entrer deux nombres (stockés dans les variables x et y) et qui affiche le plus grand des deux. Compléter les ligne 5 et 8 dans l'algorithme ci-dessous pour qu'il réponde au problème.

```
Variables: x,y
1: DEBUT_ALGORITHME
2:   LIRE x
3:   LIRE y
4:   SI (x>y) ALORS
5:     AFFICHER .....
6:   FIN_SI
7:   SINON
8:     AFFICHER .....
9:   FIN_SINON
10: FIN_ALGORITHME
```

► Exercice n°8

On considère l'algorithme suivant :

```
Variables: A,B
1: DEBUT_ALGORITHME
2:   A ← 1
3:   B ← 3
4:   SI (A>0) ALORS
5:     A ← A+1
6:   FIN_SI
7:   SI (B>4) ALORS
8:     B ← B-1
9:   FIN_SI
10: FIN_ALGORITHME
```

Après exécution de l'algorithme :

- La variable A contient la valeur :
- La variable B contient la valeur :

► Exercice n°9

On cherche à concevoir un algorithme correspondant au problème suivant :

- on demande à l'utilisateur d'entrer un nombre (représenté par la variable x)
- si le nombre entré est différent de 1, l'algorithme doit stocker dans une variable y la valeur de $1/(x-1)$ et afficher la valeur de y (note : la condition x différent de 1 s'exprime avec le code $x \neq 1$). On ne demande pas de traiter le cas contraire.

Compléter l'algorithme ci-dessous pour qu'il réponde au problème.

```
Variables: x,y
1: DEBUT_ALGORITHME
2:   LIRE .....
3:   SI (.....) ALORS
4:     ..... ← .....
5:   AFFICHER .....
6:   FIN_SI
7: FIN_ALGORITHME
```

3) Boucles

Boucles POUR...DE...A

- Les boucles permettent de répéter des instructions autant de fois que l'on souhaite.

- Lorsqu'on connaît par avance le nombre de fois que l'on veut répéter les instructions, on utilise une boucle du type POUR...DE...A dont la structure est la suivante :

```
POUR...ALLANT_DE...A...
...
FIN_POUR
```

- Exemple : l'algorithme ci-dessous permet d'afficher la racine carrée de tous les entiers de 1 jusqu'à 50.

```
Variables: n et racine
1: DEBUT_ALGORITHME
2:   POUR n ALLANT_DE 1 A 50
3:     racine ←  $\sqrt{n}$ 
4:     AFFICHER racine
5:   FIN_POUR
6: FIN_ALGORITHME
```

La variable n est appelée « compteur de la boucle ».

- Remarques :
 - La variable servant de compteur pour la boucle doit être du type NOMBRE et doit être déclarée préalablement (comme toutes les variables).
 - Par défaut, cette variable est automatiquement augmentée de 1 à chaque fois.
 - On peut utiliser la valeur du compteur pour faire des calculs à l'intérieur de la boucle, mais les instructions comprises entre POUR et FIN_POUR ne doivent en aucun cas modifier la valeur de la variable qui sert de compteur.

► Exercice n°10

On cherche à concevoir un algorithme qui affiche, grâce à une boucle POUR...DE...A, les résultats des calculs suivants : $8*1$; $8*2$; $8*3$; $8*4$; ... jusqu'à $8*10$.

La variable n sert de compteur à la boucle et la variable produit sert à stocker et afficher les résultats. Compléter les lignes 2 et 3 dans l'algorithme ci-dessous pour qu'il réponde au problème :

```
Variables: n,produit
1: DEBUT_ALGORITHME
2:   POUR n ALLANT_DE .... A .....
3:     produit ← .....
4:     AFFICHER produit
5:   FIN_POUR
6: FIN_ALGORITHME
```

► Exercice n°11

On considère l'algorithme suivant :

```
Variables: n, somme
1: DEBUT_ALGORITHME
2:   somme ← 0
3:   POUR n ALLANT_DE 1 A 100
4:     somme ← somme+n
5:   FIN_POUR
6:   AFFICHER somme
7: FIN_ALGORITHME
```

Compléter les phrases suivantes :

- Après exécution de la ligne 2, la variable `somme` contient la valeur :
- Lorsque le compteur `n` de la boucle vaut 1 et après exécution du calcul ligne 4, la variable `somme` vaut :
- Lorsque le compteur `n` de la boucle vaut 2 et après exécution du calcul ligne 4, la variable `somme` vaut :

Que permet de calculer cet algorithme ?

► Exercice n°12

Compléter les lignes 3 et 4 de l'algorithme ci-dessous pour qu'il permette de calculer la somme $5^2 + 6^2 + 7^2 + \dots + 24^2 + 25^2$.

```
Variables: n, somme
1: DEBUT_ALGORITHME
2:   somme ← 0
3:   POUR n ALLANT_DE .... A .....
4:     somme ← somme+.....
5:   FIN_POUR
6:   AFFICHER somme
7: FIN_ALGORITHME
```

Boucles TANT QUE...

- Il n'est pas toujours possible de connaître par avance le nombre de répétitions nécessaires à un calcul. Dans ce cas là, il est possible d'avoir recours à la structure TANT QUE... qui se présente de la façon suivante :

```
TANT_QUE...FAIRE
...
FIN_TANT_QUE
```

Cette structure de boucle permet de répéter une série d'instructions (comprises entre TANT_QUE...FAIRE et FIN_TANT_QUE) tant qu'une certaine condition est vérifiée.

- Exemple : Comment savoir ce qu'il reste si on enlève 25 autant de fois que l'on peut au nombre 583 ? Pour cela on utilise une variable `n`, qui contient 583 au début, à laquelle on enlève 25 tant que c'est possible, c'est à dire tant que `n` est supérieur ou égal à 25.

```
Variables: n
1: DEBUT_ALGORITHME
2:   n ← 583
3:   TANT_QUE (n>=25) FAIRE
4:     n ← n-25
5:   FIN_TANT_QUE
6:   AFFICHER n
7: FIN_ALGORITHME
```

- Remarques :

- Si la condition du TANT QUE... est fausse dès le début, les instructions entre TANT_QUE...FAIRE et FIN_TANT_QUE ne sont jamais exécutées (la structure TANT QUE ne sert alors strictement à rien).
- Il est indispensable de s'assurer que la condition du TANT QUE... finisse par être vérifiée (le code entre TANT_QUE...FAIRE et FIN_TANT_QUE doit rendre vraie la condition tôt ou tard), sans quoi l'algorithme ne pourra pas fonctionner.

► Exercice n°13

On cherche à connaître le plus petit entier `N` tel que 2^N soit supérieur ou égal à 10000. Pour résoudre ce problème de façon algorithmique :

- On utilise une variable `N` à laquelle on donne au début la valeur 1.
- On augmente de 1 la valeur de `N` tant que 2^N n'est pas supérieur ou égal à 10000.

Une structure TANT QUE est particulièrement adaptée à ce genre de problème car on ne sait pas a priori combien de calculs seront nécessaires.

Compléter les lignes 3 et 4 de l'algorithme ci-dessous pour qu'il réponde au problème :

```
Variables: N
1: DEBUT_ALGORITHME
2:   N ← 1
3:   TANT_QUE (2^N < 10000) FAIRE
4:     N ← .....
5:   FIN_TANT_QUE
6:   AFFICHER N
7: FIN_ALGORITHME
```


► Exercice n°14

Un individu a emprunté à un ami une somme de 2500 euros (prêt sans intérêts). Pour rembourser son ami, il prévoit de lui remettre 110 euros par mois. Mais comme cela ne correspond pas à un nombre pile de mois, il se demande quel sera le montant à rembourser le dernier mois.

Compléter la ligne 3 dans l'algorithme ci-dessous pour qu'il réponde au problème :

```
Variables: montant
1: DEBUT_ALGORITHME
2:   montant ← 2500
3:   TANT_QUE (.....) FAIRE
4:     montant ← montant-110
5:   FIN_TANT_QUE
6:   AFFICHER montant
7: FIN_ALGORITHME
```

► Exercice n°15

On considère le problème suivant :

- On lance une balle d'une hauteur initiale de 300 cm.
- On suppose qu'à chaque rebond, la balle perd 10% de sa hauteur (la hauteur est donc multipliée par 0.9 à chaque rebond).
- On cherche à savoir le nombre de rebonds nécessaire pour que la hauteur de la balle soit inférieure ou égale à 10 cm.

Compléter les lignes 4 et 6 de l'algorithme ci-dessous pour qu'il réponde au problème.

```
Variables: nombre, hauteur
1: DEBUT_ALGORITHME
2:   nombre_rebonds ← 0
3:   hauteur ← 300
4:   TANT_QUE (hauteur.....) FAIRE
5:     nombre_rebonds ← nombre_rebonds+1
6:     hauteur ← .....
7:   FIN_TANT_QUE
8:   AFFICHER nombre_rebonds
9: FIN_ALGORITHME
```

4) Fonctions

Les fonctions en algorithmique

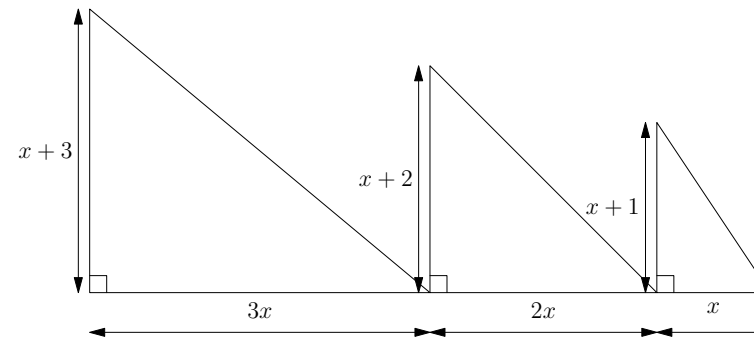
Pour éviter de répéter certaines instructions, on peut utiliser une fonction, c'est à dire un bloc d'instructions qui ne sera exécuté que quand on l'appelle. Une fonction dépend en général d'un ou plusieurs paramètres et retourne une valeur dépendant de ces paramètres.

```
FONCTION mafonction(paramètres...)
DEBUT_FONCTION
...
RETOURNER...
FIN_FONCTION
```

Utiliser une fonction en algorithmique n'a d'intérêt que si on l'appelle plusieurs fois.

► Exercice n°16

On cherche à élaborer un algorithme qui donne en fonction de x la somme des hypoténuses des trois triangles rectangles de la figure ci-dessous :



Pour cela, on va utiliser une fonction hypo qui renvoie l'hypoténuse d'un triangle rectangle dont les côtés de l'angle droit sont a et b .

Compléter les lignes 3 et 7 pour que l'algorithme réponde au problème posé :

```
Variables: x
1: FONCTION hypo(a,b)
2: DEBUT_FONCTION
3:   Retourner .....
4: FIN_FONCTION
5: DEBUT_ALGORITHME
6:   Lire x
7:   AFFICHER hypo(3*x,x+3)+hypo(2*x,x+2)+hypo(.....,.....)
8: FIN_ALGORITHME
```

2. Initiation à python

1) Introduction

Langage informatique

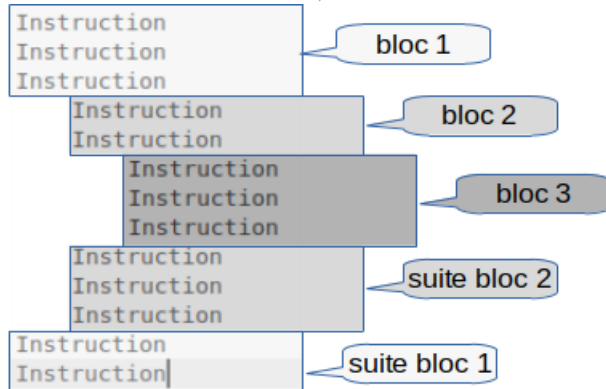
Un langage informatique permet de traduire un algorithme en une série d'instructions compréhensibles et exécutables par un ordinateur. Pour cela, les instructions écrites dans le langage informatique doivent respecter des spécificités et notamment une syntaxe plus précise et plus compliquée que celle d'un langage naturel.

Quelques principes de base à propos du langage python

- Par défaut, le langage python n'inclut pas bon nombre de fonctions mathématiques. C'est pour cela que certains scripts python commenceront par l'instruction suivante qui indique à python de charger les fonctions mathématiques standard :

```
from math import*
```

- Les débuts et fins de bloc d'instructions se marquent en langage python par un décalage horizontal (appelé indentation) et pas par des instructions particulières. Il faut donc faire très attention en python à ce que les instructions d'un même bloc soient écrites avec le même décalage horizontal par rapport à ce qui précède et suit ce bloc (on dit que ces instructions doivent avoir la même indentation).



2) Équivalences entre langage naturel et python

Affectation d'une valeur à une variable x

Langage naturel	Équivalent en python
x ← valeur	x = valeur

Lire la valeur d'une variable x entrée au clavier

Si x est un entier (et si l'algorithme ne manipule que des entiers) :

Langage naturel	Équivalent en python
LIRE x	x = int(input("x?"))

Si x est un réel :

Langage naturel	Équivalent en python
LIRE x	x = float(input("x?"))

Si on a besoin d'entrer une valeur résultant d'un calcul mathématique (fraction, racine carrée...) :

Langage naturel	Équivalent en python
LIRE x	from math import* x = eval(input("x?"))

Afficher la valeur d'une variable x

Langage naturel	Équivalent en python
AFFICHER x	print(x)

Afficher un message

Langage naturel	Équivalent en python
AFFICHER "Message"	print("message")

Les opérations mathématiques de base

Langage naturel	Équivalent en python
resultat ← a+b	from math import* resultat=a+b
resultat ← a-b	resultat=a-b
resultat ← a × b	resultat=a*b
resultat ← $\frac{a}{b}$	resultat=a/b
resultat ← a ²	resultat=a**2
resultat ← \sqrt{a}	resultat=sqrt(a)

Pour a et b entiers	Équivalent en python
reste de la division euclidienne de a par b	a%b
quotient de la division euclidienne de a par b	a//b

► **Exercice n°17**

Compléter le code du script python ci-dessous pour qu'il corresponde à l'algorithme en langage naturel.

Langage naturel	Équivalent en python
LIRE distance	distance=float(input("distance?"))
LIRE temps	temps=.....
vitesse ← $\frac{\text{distance}}{\text{temps}}$	vitesse=.....
AFFICHER vitesse	print(vitesse)

► **Exercice n°18**

Compléter le script python ci-dessous pour qu'il affiche la valeur de la diagonale d'un rectangle après avoir entré sa largeur et sa longueur :

Script python
<pre>from math import* largeur=float(input("largeur?")) longueur=..... diagonale=..... print(.....)</pre>

Instructions conditionnelles

• Avec un SI...ALORS

Langage naturel
<p>Instructions précédant le bloc si...alors</p> <p>SI condition ALORS</p> <p style="padding-left: 20px;">Instructions exécutées si la condition est vérifiée</p> <p>.....</p> <p>FIN_SI</p> <p>Instructions suivant le bloc si...alors</p>

Équivalent en python
<p>Instructions précédant le bloc si...alors</p> <pre>if condition:</pre> <p style="padding-left: 20px;">Instructions exécutées si la condition est vérifiée</p> <p>.....</p> <p>Instructions suivant le bloc si...alors</p> <p style="text-align: right;">Toutes les instructions décalées (indentées) qui suivent la ligne du if seront exécutées si la condition est vérifiée</p>

► **Exemple :**

Langage naturel	Équivalent en python
<p>LIRE x</p> <p>SI x>0 ALORS</p> <p style="padding-left: 20px;">AFFICHER "x est strictement positif"</p> <p>FIN_SI</p> <p>AFFICHER "son opposé est"</p> <p>AFFICHER -x</p>	<pre>x=float(input("x?")) if x>0: print("x est strictement positif") print("son opposé est",-x)</pre>

• Avec un SI...ALORS...SINON

Langage naturel
<p>Instructions précédant le bloc si...alors...sinon</p> <p>SI condition ALORS</p> <p style="padding-left: 20px;">Instructions exécutées si la condition est vérifiée</p> <p>.....</p> <p>SINON</p> <p style="padding-left: 20px;">Instructions exécutées si la condition n'est pas vérifiée</p> <p>.....</p> <p>FIN_SI</p> <p>Instructions suivant le bloc si...alors...sinon</p>

Équivalent en python
<p>Instructions précédant le bloc si...alors...sinon</p> <pre>if condition:</pre> <p style="padding-left: 20px;">Instructions exécutées si la condition est vérifiée</p> <p>.....</p> <pre>else:</pre> <p style="padding-left: 20px;">Instructions exécutées si la condition n'est pas vérifiée</p> <p>.....</p> <p>Instructions suivant le bloc si...alors...sinon</p> <p style="text-align: right;">Toutes les instructions décalées (indentées) qui suivent la ligne du else seront exécutées si la condition n'est pas vérifiée</p>

• Syntaxe python pour les conditions

Situation	Syntaxe python correspondante
Si a égal à b (a et b entiers)	if a==b:
Si a est différent de b (a et b entiers)	if a!=b:
Si a est strictement supérieur à b	if a>b:
Si a est strictement inférieur à b	if a<b:
Si a est inférieur ou égal à b	if a<=b:
Si a est supérieur ou égal à b	if a>=b:

Cas particulier de la comparaison de deux réels de type float (qui ne sont pas représentés de façon exacte en informatique) :

Situation mathématique	Syntaxe pour python (>=3.5)
Si a égal à b (a et b flottants)	from math import*
Si a est différent de b (a et b flottants)	if isclose(a,b):
	if not(isclose(a,b)):

► Exercice n°19

Compléter le code du script python ci-dessous pour qu'il corresponde à l'algorithme en langage naturel.

Langage naturel	Équivalent en python
LIRE age	age=int(input("age?"))
SI age>=18 ALORS
AFFICHER "majeur"
FIN_SI

► Exercice n°20

Parmi les quatre scripts python ci-dessous, déterminer le seul valide indiquant le plus grand de deux entiers.

Script 1	Script 2
a=int(input("a?")) b=int(input("b?")) if a>b print("le plus grand est a") else: print("le plus grand est b")	a=int(input("a?")) b=int(input("b?")) if a>b: print("le plus grand est b") else: print("le plus grand est a")
Script 3	Script 4
a=int(input("a?")) b=int(input("b?")) if a>b: print("le plus grand est a") else: print("le plus grand est b")	a=int(input("a?")) b=int(input("b?")) if a>b: print("le plus grand est a") else: print("le plus grand est b")

• Opérateurs ET/OU/CONTRAIRE dans les conditions

Situation	Syntaxe python correspondante
Si condition1 OU condition2	if condition1 or condition2:
Si condition1 ET condition2	if condition1 and condition2:
Si CONTRAIRE(condition)	if not(condition):

► Remarque : or, and et not doivent être en minuscules

► Exemple :

Langage naturel	Équivalent en python
LIRE x	x=float(input("x?"))
SI x>0 ET x<1 ALORS	if x>0 and x<1:
AFFICHER "x est dans]0;1["	print("x est dans]0;1[")
FIN_SI	

► Exercice n°21

On considère l'expression $A(x) = \frac{1}{(x-1)\sqrt{x}}$ où x est un réel.

Compléter le code du script python ci-dessous pour qu'il corresponde à l'algorithme en langage naturel.

Langage naturel	Équivalent en python
LIRE x	from math import*
SI x>0 ET x≠1 ALORS	x=.....
AFFICHER "A(x) existe"	if.....
SINON
AFFICHER "A(x) n'existe pas"	else:
FIN_SI

Boucles POUR...DE...A

• Rappel : ces boucles permettent de répéter des instructions un certain nombre (connu par avance) de fois.

Langage naturel
Instructions précédant le bloc pour...de...a
POUR i ALLANT_DE 1 A 10
Instructions qui seront répétées 10 fois
.....
FIN_POUR
Instructions suivant le bloc pour...de...a

Équivalent en python

ATTENTION : il faut ajouter 1 par rapport au langage naturel. range(1,11) indique tous les entiers entre 1 compris et 11 exclu.

Le : est indispensable

Instructions précédant le bloc pour...de...a

```
for i in range(1,11):
```

Instructions qui seront répétées 10 fois

.....

Instructions suivant le bloc pour...de...a

Toutes les instructions décalées (indentées) qui suivent la ligne du for seront exécutées le nombre de fois voulu

► **Exemple :**

Langage naturel	Équivalent en python
POUR i ALLANT_DE 1 A 10 AFFICHER 7×i FIN_POUR AFFICHER "script terminé"	for i in range(1,11): print(7*i) print("script terminé")

► **Exercice n°22**

Compléter le code du script python ci-dessous pour qu'il corresponde à l'algorithme en langage naturel dont le but est de calculer la somme $1 + 2 + 3 + \dots + 99 + 100$.

Langage naturel	Équivalent en python
somme ← 0 POUR i ALLANT_DE 1 A 100 somme ← somme+i FIN_POUR AFFICHER somme	somme=0 for i somme=..... print(somme)

► **Exercice n°23**

Parmi les quatre scripts python ci-dessous, déterminer le seul valide qui permet de calculer la somme $\sqrt{1} + \sqrt{2} + \sqrt{3} + \dots + \sqrt{49} + \sqrt{50}$.

Script 1	Script 2
from math import* somme=0 for i in range(1,51) somme=somme+sqrt(i) print(somme)	from math import* somme=0 for i in range(1,51): somme=somme+sqrt(i) print(somme)

Script 3	Script 4
from math import* somme=0 for i in range(1,50): somme=somme+sqrt(i) print(somme)	from math import* somme=0 for i in range(1,51): somme=somme+sqrt(i) print(somme)

Boucles TANT QUE

- Rappel : ces boucles permettent de répéter des instructions tant qu'une certaine condition est vérifiée. La condition en question s'exprime en python de la même façon qu'avec un if.

Langage naturel

Instructions précédant le bloc tant que

TANT_QUE condition FAIRE

Instructions qui seront répétées tant que la condition sera vérifiée

.....

FIN_TANT_QUE

Instructions suivant le bloc tant que

Équivalent en python

Le : est indispensable

Instructions précédant le bloc tant que

```
while condition:
```

Instructions qui seront répétées tant que la condition sera vérifiée

.....

Instructions suivant le bloc tant que

Toutes les instructions décalées (indentées) qui suivent la ligne du while seront répétées tant que la condition sera vérifiée

► **Exemple :**

Script permettant de déterminer le premier entier dont le cube dépasse 5000.

Langage naturel	Équivalent en python
n ← 0 TANT_QUE n ³ < 5000 FAIRE n ← n+1 FIN_TANT_QUE AFFICHER n	n=0 while n**3<5000: n=n+1 print(n)

► **Exercice n°24**

Compléter le code du script python ci-dessous pour qu'il corresponde à l'algorithme en langage naturel dont le but est de déterminer le premier entier n tel que le produit $1 \times 2 \times 3 \times \dots \times n$ dépasse 10000 .

Langage naturel	Équivalent en python
<pre>n ← 1 produit ← 1 TANT_QUE produit<10000 FAIRE n ← n+1 produit ← produit × n FIN_TANT_QUE AFFICHER n</pre>	<pre>n=1 produit=1 while n=..... produit=..... print(n)</pre>

► **Exercice n°25**

Parmi les quatre scripts python ci-dessous, déterminer le seul valide indiquant le plus petit entier n tel que $0,9^n \leq 0.001$

Script 1	Script 2
<pre>n=0 while 0.9**n<=0.001: n=n+1 print(n)</pre>	<pre>n=0 while 0.9**n>0.001: n=n+1 print(n)</pre>
Script 3	Script 4
<pre>n=0 while 0.9**n<=0.001 n=n+1 print(n)</pre>	<pre>n=0 while 0.9**n>0.001: n=n+1 print(n)</pre>

Les fonctions en programmation

• Rappel : une fonction en programmation est un bloc d'instructions qui ne sera exécuté que quand on l'appelle. Une fonction dépend en général d'un ou plusieurs paramètres et retourne une valeur dépendant de ces paramètres. L'utilisation d'une fonction n'a en général d'intérêt que si on l'appelle plusieurs fois.

Langage naturel
<pre>FONCTION mafonction(paramètres séparés par des virgules) DEBUT_FONCTION Instructions RETOURNER... FIN_FONCTION</pre>

Équivalent en python
<pre>def mafonction(paramètres séparés par des virgules): Instructions return...</pre> <p>Le : est indispensable</p> <p>Toutes les instructions définissant la fonction doivent être décalées (indentées)</p>

► **Exemple :**

Un cycliste et un piéton se déplacent à une vitesse respective de $18 \text{ km} \cdot \text{h}^{-1}$ et $6 \text{ km} \cdot \text{h}^{-1}$. Ce script donne le nombre de kilomètres parcourus par le cycliste et le piéton durant un même temps t (en heures).

Langage naturel	Équivalent en python
<pre>FONCTION distance(vitesse,temps) DEBUT_FONCTION RETOURNER vitesse × temps FIN_FONCTION DEBUT_ALGORITHME LIRE t AFFICHER distance(42,t) AFFICHER distance(6,t) FIN_ALGORITHME</pre>	<pre>def distance(vitesse,temps): return vitesse*temps t=float(input("t?")) print(distance(42,t)) print(distance(6,t))</pre>

► **Exercice n°26**

La formule de conversion entre la valeur d'une température en degrés fahrenheit et sa valeur en degrés celsius est la suivante :

$$\text{degrés Celsius} = \frac{5 \times (\text{degrés Fahrenheit}) - 160}{9}$$

Compléter le code du script python ci-dessous pour qu'il donne la valeur en degrés celsius d'une température de 100 et de 200 degrés fahrenheit.

Script python
<pre>def celsius(fahrenheit): return print(celsius(100)) print(.....)</pre>

3) Application

► Exercice n°27

Compléter le code du script python ci-dessous pour qu'il corresponde à l'algorithme en langage naturel.

Langage naturel	Équivalent en python
POUR i ALLANT_DE 1 A 100 AFFICHER i^3 FIN_POUR	for i print(.....)

► Exercice n°28

Que fait ce script python ?

```

Script python
from math import*
i=0
while i*sqrt(i)<500:
    i=i+1
print(i)
    
```

Réponse :

► Exercice n°29

La valeur d'une voiture était de 20 000 euros en 2018. On suppose qu'elle est multipliée par 0,9 chaque année. Compléter le script python ci-dessous pour qu'il indique la première année à partir de laquelle la valeur de la voiture sera inférieure ou égale à 12 000 euros.

```

Script python
annee=2018
valeur=20000
while .....
    valeur=valeur*0.9
    annee=annee+1
print(annee)
    
```

► Exercice n°30

Un ticket de tramway coûte 1 euro sans abonnement. Avec un abonnement annuel de 30 euros, le ticket ne coûte plus que 0,75 euros. Déterminer parmi les quatre scripts python ci-dessous le seul valide qui affiche, après avoir entré le nombre de tickets achetés n , si prendre un abonnement est rentable :

Script 1	Script 2
<pre> n=int(input("n?")) if 30+0.75*n<n: print("abonnement rentable") else: print("abonnement pas rentable") </pre>	<pre> n=int(input("n?")) if 30+0.75*n<n: print("abonnement rentable") else: print("abonnement pas rentable") </pre>
Script 3	Script 4
<pre> n=int(input("n?")) if 30+0.75*n<n: print("abonnement rentable") else: print("abonnement pas rentable") </pre>	<pre> n=int(input("n?")) if 30+0.75*n>n: print("abonnement rentable") else: print("abonnement pas rentable") </pre>

► Exercice n°31

Durant une année un individu a acheté n DVD valant 15 euros pièce et p livres valant 22 euros pièce. Compléter le script python ci-dessous pour qu'il indique si cet individu a dépensé plus de 300 euros en dvd et livres ou non :

```

Script python
def depense_totale(n,p):
    return .....

n=int(input("nombre de dvd?"))
p=int(input("nombre de livres?"))
if depense_totale(n,p).....
    print("plus de 300 euros")
else:
    print("pas plus de 300 euros")
    
```

► Exercice n°32

Un automobiliste roule à $90 \text{ km} \cdot \text{h}^{-1}$ pendant 2 heures, puis roule à $120 \text{ km} \cdot \text{h}^{-1}$. Compléter le script python ci-dessous pour qu'il indique le nombre de kilomètres parcourus en fonction du temps de parcours exprimé en heures :

```

Script python
def distance(temps):
    if temps<=2:
        return .....
    else:
        return .....

t=float(input("temps?"))
print (distance(t))
    
```

4) Autres fonctionnalités utiles de python

Chaines de caractères

On peut affecter à une variable une chaîne de caractères en l'encadrant simplement par des guillemets. Exemple : `a="blabla"`

Situation (a et b : chaines)	Syntaxe python
mettre b au bout de a	<code>a+b</code>
connaître la longueur de a	<code>len(a)</code>
récupérer le $(i+1)^{i\text{ème}}$ caractère de a	<code>a[i]</code>

Exemple :

Code python	Résultat
<pre>a="bon" b="jour" print(a+b) print(len(a)) print(a[0]) print(b[3])</pre>	<pre>bonjour 3 b r</pre>

Les listes

On peut affecter à une variable une liste de nombres (ou de chaînes de caractères) en les encadrant par des crochets et en les séparant par des virgules. Exemple : `a=[1,3,5,7]`

► **Remarque :** en python, on commence à compter les éléments d'une liste à partir de la position 0. Par exemple, si `a=[1,3,5,7]` :

- le premier élément de la liste est `a[0]` (position 0) qui vaut donc 1 ;
- le deuxième élément de la liste est `a[1]` (position 1) qui vaut donc 3 ;
- etc.
- le dernier terme de la liste est `a[3]` (position 3) qui vaut donc 7 ;

Donc le terme à la position i d'une liste correspond à son $(i+1)^{i\text{ème}}$ terme

Situation (a : liste)	Syntaxe python
connaître le nombre d'éléments de a	<code>len(a)</code>
récupérer le terme de a à la position i	<code>a[i]</code>
ajouter l'élément e à la liste a	<code>a.append(e)</code>
supprimer le terme de a à la position i	<code>del a[i]</code>
insère l'élément e à la position i	<code>a.insert(i,e)</code>

► **Exemple :**

Code python	Résultat
<pre>a=[1,3,5,7] print(len(a)) print(a[3]) a.append(9) print(a) del a[1] print(a) a.insert(1,12) print(a)</pre>	<pre>4 7 [1, 3, 5, 7, 9] [1, 5, 7, 9] [1, 12, 5, 7, 9]</pre>

Nombres pseudo aléatoires avec python

En ajoutant au début d'un script l'instruction suivante, on indique à python de charger des outils qui permettent de simuler le hasard :

```
from random import*
```

L'instruction `randint(a,b)` (avec a et b entiers) permet alors de tirer au hasard un entier compris entre a et b (a et b inclus).

5) Tester des scripts python en ligne

Il est possible d'exécuter des scripts python depuis un navigateur sans aucune installation, ni inscription, ni connexion préalable à l'adresse suivante :

https://www.xmlmath.net/SNT/python_en_ligne.html

Représentation numérique et traitement des données

1. Le système binaire

• Pour compter, les êtres humains utilisent habituellement depuis quelques siècles le *système décimal* (ou *système de base 10*) qui comporte 10 chiffres que l'on compose pour pouvoir écrire n'importe quel entier.

Ainsi :

- Le nombre *sept cent cinquante-trois* s'écrit 753 en système décimal car

$$\boxed{7} \times 10^2 + \boxed{5} \times 10 + \boxed{3} \text{ donne bien sept cent cinquante-trois.}$$

- Le nombre *huit mille quatre cent cinquante-six* s'écrit 8456 en système décimal car

$$\boxed{8} \times 10^3 + \boxed{4} \times 10^2 + \boxed{5} \times 10 + \boxed{6} \text{ donne bien huit mille quatre cent cinquante-six.}$$

• L'informatique utilise des courants électriques, des aimantations, des rayons lumineux... Chacun de ces phénomènes physiques ne met en jeu deux états possibles : tension nulle ou tension non nulle pour les circuits électroniques ; aimantation dans un sens ou dans l'autre pour les disques durs ; lumière ou absence de lumière pour la lecture optique des CD, DVD... Il suffit donc de deux chiffres pour traduire ces deux états. La représentation des données en informatique se base donc depuis le début sur un *système de base 2*, appelé *système binaire*, qui n'utilise que les chiffres 0 et 1. Les chiffres (0 ou 1) qui composent un nombre écrit en système binaire s'appellent des *bits*.

Ainsi :

- Le nombre binaire 101 (comportant donc 3 bits) correspond au nombre décimal car $\boxed{1} \times 2^2 + \boxed{0} \times 2 + \boxed{1} = \dots$

- Le nombre binaire 110101 (comportant donc 6 bits) correspond au nombre décimal car $\boxed{1} \times 2^5 + \boxed{1} \times 2^4 + \boxed{0} \times 2^3 + \boxed{1} \times 2^2 + \boxed{0} \times 2 + \boxed{1} = \dots$

► Exercice n°33

1. Donner l'écriture en système décimal du nombre binaire 110.

Réponse :

2. Donner l'écriture en système décimal du nombre binaire 1110001.

Réponse :

3. Donner l'écriture en système binaire du nombre 3.

Réponse :

4. Donner l'écriture en système binaire du nombre 18.

Réponse :

5. Quel est le plus grand nombre, en système décimal, que l'on peut obtenir à partir d'un nombre binaire formé de 8 bits ?

Réponse :

.....

► Exercice n°34

1. Donner l'écriture en système décimal du nombre binaire 11.

Réponse :

2. Donner l'écriture en système décimal du nombre binaire 111.

Réponse :

3. Donner le résultat, en système décimal, de la somme et du produit des deux nombres précédents, puis convertir les résultats en écriture binaire :

Somme en système décimal :

Somme convertie en écriture binaire :

Produit en système décimal :

Produit converti en écriture binaire :

2. Les unités en informatique

L'octet

En informatique, l'unité d'information de base est un nombre binaire composé de 8 bits et appelé *octet* (*byte* en anglais).

A partir des octets s'est construit historiquement et de façon un peu confuse un double système d'unités basé l'un sur les traditionnelles puissances de 10 et l'autre sur des puissances de 2. Cela a conduit à introduire deux notations différentes pour les multiples d'octets (mais la confusion demeure souvent présente) :

Avec des puissances de 10

- 1 ko (kiloctet) : 1000 octets (10^3)
- 1 Mo (mégaoctet) : 1 million d'octets (10^6)
- 1 Go (gigaoctet) : 1 milliard d'octets (10^9)

Avec des puissances de 2

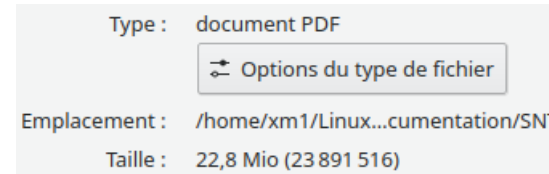
- 1 kio (kibiocet) : 1024 octets (2^{10})
- 1 Mio (mébioctet) : 1048576 octets (2^{20})
- 1 Gio (gibiocet) : 1073741824 octets (2^{30})

► Exercice n°35

1. Un fabricant annonce une capacité de stockage de 128 Go sur un smartphone. Combien de Gio cela représente-t-il ?

Réponse :

2. D'après la capture d'écran des propriétés d'un fichier ci-dessous, vérifier que la taille du fichier donnée en Mio est exacte et donner la taille en Mo.



Réponse :

► Exercice n°36

Compléter le script python ci-dessous pour que la fonction `conversion` retourne la taille en Kio et préciser ce qu'affichera alors le script une fois exécuté.

```

Script python
def conversion(tailleko):
    return .....

print(conversion(250))

```

Adresse IP - Protocole TCP-IP

- Dès qu'un appareil se connecte à un réseau (local ou directement à Internet), il se voit attribuer un numéro unique appelé *adresse IP* qui permet de l'identifier de façon unique sur le réseau et de permettre ainsi les échanges de données entre tous les systèmes connectés au réseau (ordinateurs, serveurs, téléphones portables etc...)
 - L'adresse IP ne dépend pas du matériel : c'est un simple identifiant de réseau qui n'est pas forcément fixe. Sur Internet, elle permet cependant à n'importe quel site de connaître le fournisseur d'accès (FAI), la région et le pays d'origine d'un internaute. Par contre, dans les pays démocratiques, il faut une décision de justice ou administrative pour qu'un fournisseur d'accès à internet dévoile le nom et les coordonnées d'un internaute à partir de son adresse IP. Un VPN (« virtual private network ») permet de masquer son adresse IP et sa localisation, mais cela ralentit la connexion internet et nécessite un prestataire qui fournisse un service de qualité et de confiance (souvent payant).
- Pour que deux systèmes connectés (ordinateurs, serveurs, etc.) sur internet puissent échanger des données et communiquer entre eux, ils doivent respecter un certain « langage » de communication appelé *TCP/IP* qui se composent :
 - du protocole *TCP* (pour « ») qui se charge de récupérer les données à envoyer, de les fractionner en paquets et de trouver le moyen de les envoyer au bon destinataire;
 - du protocole *IP* (pour « ») qui s'occupe de la localisation du destinataire à partir de son adresse IP lors de l'envoi des paquets TCP.

► **Exercice n°37**

1. Les adresses IP classiques (norme IPv4) sont composées de quatre nombres compris entre 0 et 255 séparés par un point. Exemple : 204.35.129.3.

Combien d'octets cela représente-t-il?

Combien d'adresses IP différentes cette norme IPv4 permet-elle d'utiliser?

2. Pour faire face à la pénurie d'adresses IPv4, une nouvelle norme, appelée IPv6 a été établie afin de remplacer progressivement les anciennes adresses IPv4. Les adresses IPv6 sont basées sur 128 bits.

Combien d'octets cela représente-t-il?

Combien d'adresses IP différentes cette norme IPv6 permet-elle d'utiliser?

— **Adresse MAC** —

Les matériels connectés possèdent aussi un autre identifiant, l'adresse MAC (pour « »), qui à la différence de l'adresse IP, sert à identifier de façon unique le matériel (sa carte réseau) et non pas une connexion. Cet identifiant est fixe et existe que le matériel soit connecté ou non. Il permet, entre autres, d'interdire ou d'autoriser l'accès de certains matériels au réseau.

► **Exercice n°38**

Une adresse MAC est codée sur l'équivalent de 6 octets. Combien d'adresses MAC différentes sont possibles?

► **Exercice n°39**

À son domicile, le téléphone portable d'un individu est connecté à internet via le wifi de sa box internet. Quand il sort de son domicile et que la connexion à internet utilise le réseau 4G de son opérateur, quelle adresse change? L'adresse IP ou l'adresse MAC?

► **Exercice n°40**

Les débits de transfert de données sont souvent exprimés en MégaBits (1 million de bits) par seconde. Un individu souhaite transférer un morceau de musique de 7,5 Mio via une connexion bluetooth au débit de 2 MégaBits par seconde. Combien de temps cela prendra-t-il?

Réponse :

3. Représentation numérique des caractères et des textes

Pour représenter un caractère, on lui attribue un nombre. Un texte simple devient alors une liste de nombres que les systèmes numériques peuvent alors traiter en données binaire. Il existe plusieurs manières de coder numériquement un texte : c'est ce qu'on appelle définir l'encodage du texte.

— **Le code ASCII** —

Un des plus anciens et classiques encodage de texte est l'ASCII (« American Standard Code for Information Interchange ») qui permet de coder jusqu'à 128 caractères standards (ne nécessitant donc que 7 bits, même si dans les faits on utilise un octet complet pour des raisons pratiques). Extrait du code ASCII :

Caractères	!	"	#	\$	%	&	'	()	*	+	,	-	.	/	0	1	2	
Code	32	33	34	35	36	37	38	39	40	41	42	43	44	45	46	47	48	49	50

Caractères	3	4	5	6	7	8	9	:	;	;	=	;	?	@	A	B	C	D	E
Code	51	52	53	54	55	56	57	58	59	60	61	62	63	64	65	66	67	68	69

Caractères	F	G	H	I	J	K	L	M	N	O	P	Q	R	S	T	U	V	W	X
Code	70	71	72	73	74	75	76	77	78	79	80	81	82	83	84	85	86	87	88

Caractères	Y	Z	[\]	^	_	'	a	b	c	d	e	f	g	h	i	j	k
Code	89	90	91	92	93	94	95	96	97	98	99	100	101	102	103	104	105	106	107

Caractères	l	m	n	o	p	q	r	s	t	u	v	w	x	y	z	{	—	}	~
Code	108	109	110	111	112	113	114	115	116	117	118	119	120	121	122	123	124	125	126

Ainsi le caractère A est codé par le nombre 65 qui donne en binaire 1000001.

► **Exercice n°41**

1. Donner la liste des trois nombres permettant de coder en ASCII le texte *SNT*.

Réponse :

2. Donner la représentation en binaire de ces 3 nombres

Réponse :

.....

.....

► **Exercice n°42**

En comptant un octet par caractère, combien de caractères peut contenir un texte pesant 56 kio encodé en ASCII?

Réponse :

► **Remarques :**

- En python, l'instruction `ord('A')` permet de retrouver le code *ASCII* du caractère A et inversement, l'instruction `chr(65)` permet de retrouver le caractère A à partir de son code *ASCII*.
- L'encodage *ASCII* ne permettant pas de coder les lettres accentuées et tous les caractères spéciaux des différentes langues, il a été créé ensuite d'autres encodages adaptés à chaque type de langue (l'encodage *ISO-8859-1* pour le français, par exemple), mais on se retrouvait alors avec une multitude d'encodages que les systèmes numériques devaient pouvoir traiter. Pour éviter cet inconvénient, il a été décidé dans les années 90, de définir un encodage plus universel permettant de contenir les caractères de toutes les langues tout en étant compatible avec l'*ASCII* : l'*unicode* (dont la variante la plus connue et utilisée, notamment sur le web, est l'*UTF-8* et qui a vocation à devenir le standard).

4. Représentation matricielle

1) Généralités

Les matrices

- Une matrice est un tableau de nombres.

Exemple : $A = \begin{pmatrix} 1 & 2 \\ 3 & -5 \\ 4 & 1 \end{pmatrix}$

- Si la matrice comporte n lignes et p colonnes, on dit que la matrice est de dimension
- Les nombres du tableau sont appelés de la matrice.

► **Remarques :**

- Une matrice ne comportant qu'une seule ligne est appelée
- Une matrice ne comportant qu'une seule colonne est appelée
- Une matrice comportant autant de lignes que de colonnes est appelée

2) Somme, différence et multiplication par un nombre

- Pour ajouter deux matrices de même dimension, il suffit d'ajouter les coefficients. Exemples :

• si $A = \begin{pmatrix} 1 & 4 \\ 2 & -1 \\ -3 & 2 \end{pmatrix}$ et $B = \begin{pmatrix} 5 & -2 \\ 4 & 5 \\ 1 & -3 \end{pmatrix}$ alors $A + B = \begin{pmatrix} \dots & \dots \\ \dots & \dots \\ \dots & \dots \end{pmatrix}$

• si $A = \begin{pmatrix} 1 & -2 & 4 \\ -7 & 8 & 2 \end{pmatrix}$ et $B = \begin{pmatrix} 5 & 4 & -3 \\ 1 & -2 & 5 \end{pmatrix}$ alors $A + B = \begin{pmatrix} \dots & \dots & \dots \\ \dots & \dots & \dots \end{pmatrix}$

- Pour soustraire deux matrices de même dimension, il suffit de soustraire les coefficients. Exemples :

• si $A = \begin{pmatrix} 5 & 1 \\ -2 & 4 \end{pmatrix}$ et $B = \begin{pmatrix} 2 & 6 \\ -1 & -3 \end{pmatrix}$ alors $A - B = \begin{pmatrix} \dots & \dots \\ \dots & \dots \end{pmatrix}$

• si $A = \begin{pmatrix} 10 & 2 & -5 \\ 8 & 4 & 1 \end{pmatrix}$ et $B = \begin{pmatrix} 6 & -3 & 1 \\ 0 & 1 & 10 \end{pmatrix}$ alors $A - B = \begin{pmatrix} \dots & \dots & \dots \\ \dots & \dots & \dots \end{pmatrix}$

- Pour multiplier une matrice par un nombre, il suffit de multiplier les coefficients de la matrice par ce nombre. Exemple :

• si $A = \begin{pmatrix} 6 & 14 \\ -5 & 1 \\ 3 & -5 \end{pmatrix}$ alors $3A = \begin{pmatrix} \dots & \dots \\ \dots & \dots \\ \dots & \dots \end{pmatrix}$

3) Multiplication de deux matrices

Multiplication d'une matrice ligne par une matrice colonne

Multiplier une matrice ligne par une matrice colonne ayant le même nombre de coefficients donne un nombre que l'on obtient en appliquant le principe suivant (appelé « mouvement tournant ») :

$$\begin{pmatrix} a & b \end{pmatrix} \begin{pmatrix} x \\ y \end{pmatrix} = ax + by \quad ; \quad \begin{pmatrix} a & b & c \end{pmatrix} \begin{pmatrix} x \\ y \\ z \end{pmatrix} = ax + by + cz$$

► **Exemples :**

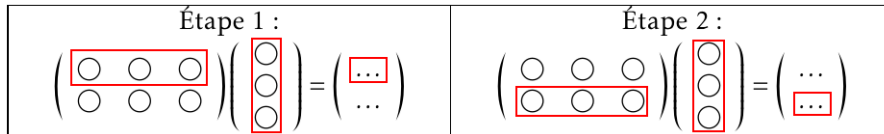
• $\begin{pmatrix} 4 & 5 \end{pmatrix} \begin{pmatrix} 2 \\ 3 \end{pmatrix} = \dots$

• $\begin{pmatrix} 3 & 2 & 4 \end{pmatrix} \begin{pmatrix} 5 \\ -1 \\ 2 \end{pmatrix} = \dots$

► **Remarque :** la multiplication de deux matrices n'est possible que si les dimensions des matrices permettent le « mouvement tournant ».

Multiplication d'une matrice par une matrice colonne

On multiplie chaque ligne de la première matrice par la matrice colonne comme au paragraphe précédent et on place les résultats les uns sous les autres (dans une matrice colonne).

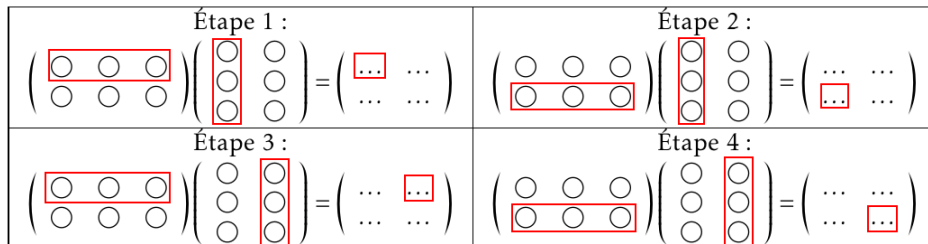


► Exemples :

- $\begin{pmatrix} 6 & 5 & 7 \\ 1 & -5 & 2 \end{pmatrix} \begin{pmatrix} 2 \\ 3 \\ 4 \end{pmatrix} = \begin{pmatrix} \dots \\ \dots \end{pmatrix}$
- $\begin{pmatrix} 2 & -3 \\ -1 & -5 \\ 7 & -4 \end{pmatrix} \begin{pmatrix} 2 \\ 5 \end{pmatrix} = \begin{pmatrix} \dots \\ \dots \\ \dots \end{pmatrix}$
- $\begin{pmatrix} -2 & 1 & 7 \\ 8 & -3 & 4 \end{pmatrix} \begin{pmatrix} -1 \\ 2 \\ 3 \end{pmatrix} = \begin{pmatrix} \dots \\ \dots \end{pmatrix}$
- $\begin{pmatrix} 1 & 0 & 2 \\ 3 & -1 & 4 \\ -2 & 1 & 0 \end{pmatrix} \begin{pmatrix} 8 \\ 1 \\ -2 \end{pmatrix} = \begin{pmatrix} \dots \\ \dots \\ \dots \end{pmatrix}$

Cas général

Le produit d'une matrice A par une matrice B lorsqu'elle est possible est la matrice notée AB obtenue en multipliant A par chaque colonne de B .



► Exemples :

- $\begin{pmatrix} 1 & 5 & -2 \\ 3 & 2 & 4 \end{pmatrix} \begin{pmatrix} 4 & 1 \\ 7 & 5 \\ 8 & 8 \end{pmatrix} = \begin{pmatrix} \dots & \dots \\ \dots & \dots \end{pmatrix}$

- $\begin{pmatrix} 1 & 4 \\ 2 & 0 \\ -3 & 1 \end{pmatrix} \begin{pmatrix} 5 & 2 \\ 3 & 1 \end{pmatrix} = \begin{pmatrix} \dots & \dots \\ \dots & \dots \\ \dots & \dots \end{pmatrix}$
- $\begin{pmatrix} 2 & -1 \\ -3 & 4 \end{pmatrix} \begin{pmatrix} 3 & 0 & -2 \\ 1 & 3 & 5 \end{pmatrix} = \begin{pmatrix} \dots & \dots & \dots \\ \dots & \dots & \dots \end{pmatrix}$
- $\begin{pmatrix} 1 & 5 \\ 3 & -1 \end{pmatrix} \begin{pmatrix} 3 & 2 \\ 4 & 6 \end{pmatrix} = \begin{pmatrix} \dots & \dots \\ \dots & \dots \end{pmatrix}$
- $\begin{pmatrix} 1 & -2 & 1 \\ 0 & 4 & 1 \\ 2 & 1 & -3 \end{pmatrix} \begin{pmatrix} 2 & 1 & -4 \\ 5 & 8 & 1 \\ -3 & 1 & 0 \end{pmatrix} = \begin{pmatrix} \dots & \dots & \dots \\ \dots & \dots & \dots \\ \dots & \dots & \dots \end{pmatrix}$

► **Remarque :** lorsque les dimensions le permettent, les opérations sur les matrices respectent les règles standards de distributivité sauf qu'en général, $AB \neq BA$.

Puissance d'une matrice carrée

Si A est une matrice carrée, le produit AA est noté A^2 , le produit AAA est noté A^3 , etc...

► Exemple :

- Si $A = \begin{pmatrix} 2 & 0 \\ 1 & -3 \end{pmatrix}$ alors $A^2 = AA = \begin{pmatrix} 2 & 0 \\ 1 & -3 \end{pmatrix} \begin{pmatrix} 2 & 0 \\ 1 & -3 \end{pmatrix} = \begin{pmatrix} \dots & \dots \\ \dots & \dots \end{pmatrix}$
- et $A^3 = AA^2 = \begin{pmatrix} 2 & 0 \\ 1 & -3 \end{pmatrix} \begin{pmatrix} \dots & \dots \\ \dots & \dots \end{pmatrix} = \begin{pmatrix} \dots & \dots \\ \dots & \dots \end{pmatrix}$

► Exercice n°43

Compléter la matrice manquante dans les cas suivants :

- a) $\begin{pmatrix} 1 & 2 & 6 \\ 9 & -1 & 2 \end{pmatrix} + \begin{pmatrix} 5 & 6 & -3 \\ 1 & -1 & 7 \end{pmatrix} = \begin{pmatrix} \dots & \dots & \dots \\ \dots & \dots & \dots \end{pmatrix}$
- b) $\begin{pmatrix} 9 & 1 & 2 \\ 1 & -4 & 1 \\ 2 & 1 & 7 \end{pmatrix} - \begin{pmatrix} 0 & -1 & 4 \\ 6 & -3 & 1 \\ 1 & -1 & 0 \end{pmatrix} = \begin{pmatrix} \dots & \dots & \dots \\ \dots & \dots & \dots \\ \dots & \dots & \dots \end{pmatrix}$
- c) $3 \begin{pmatrix} 0 & -4 & 2 \\ 1 & 6 & 0 \\ 5 & -3 & 8 \end{pmatrix} - 2 \begin{pmatrix} 1 & -1 & 4 \\ 7 & -5 & -2 \\ 8 & 3 & 7 \end{pmatrix} = \begin{pmatrix} \dots & \dots & \dots \\ \dots & \dots & \dots \\ \dots & \dots & \dots \end{pmatrix}$
- d) $\begin{pmatrix} -2 & 1 \\ 2 & 0 \\ -2 & 3 \end{pmatrix} + \begin{pmatrix} \dots & \dots \\ \dots & \dots \\ \dots & \dots \end{pmatrix} = \begin{pmatrix} 3 & 7 \\ -2 & 1 \\ 5 & -3 \end{pmatrix}$
- e) $2 \begin{pmatrix} \dots & \dots \\ \dots & \dots \end{pmatrix} - \begin{pmatrix} 2 & 4 \\ 1 & 2 \end{pmatrix} = \begin{pmatrix} 1 & -3 \\ -1 & 9 \end{pmatrix}$

► **Exercice n°44**

a) Si $A = \begin{pmatrix} 1 & 2 & 0 \\ 0 & -1 & 2 \end{pmatrix}$ et $B = \begin{pmatrix} -2 & 1 \\ 2 & 0 \\ -2 & 3 \end{pmatrix}$ alors $AB =$

b) Si $A = \begin{pmatrix} 2 & 4 \\ 1 & 2 \end{pmatrix}$ et $B = \begin{pmatrix} 2 & -6 \\ -1 & 3 \end{pmatrix}$ alors $AB =$

c) Si $A = \begin{pmatrix} 3 & -4 \\ 2 & 1 \end{pmatrix}$ et $B = \begin{pmatrix} 0 & -4 & 1 \\ 5 & -2 & 3 \end{pmatrix}$ alors $AB =$

► **Exercice n°45**

Soit $A = \begin{pmatrix} 2 & -5 & 1 \\ 1 & -2 & 4 \end{pmatrix}$ et $B = \begin{pmatrix} 1 & 3 \\ -1 & 2 \\ 4 & 0 \end{pmatrix}$.

On a $AB = \begin{pmatrix} 2 & -5 & 1 \\ 1 & -2 & 4 \end{pmatrix} \begin{pmatrix} 1 & 3 \\ -1 & 2 \\ 4 & 0 \end{pmatrix} =$

Et $BA = \begin{pmatrix} 1 & 3 \\ -1 & 2 \\ 4 & 0 \end{pmatrix} \begin{pmatrix} 2 & -5 & 1 \\ 1 & -2 & 4 \end{pmatrix} =$

► **Exercice n°46**

Soit $A = \begin{pmatrix} 0 & 1 \\ 0 & 2 \end{pmatrix}$, $B = \begin{pmatrix} 5 & -1 \\ -3 & 2 \end{pmatrix}$ et $C = \begin{pmatrix} 3 & 0 \\ -3 & 2 \end{pmatrix}$.

On a $AB = \begin{pmatrix} 0 & 1 \\ 0 & 2 \end{pmatrix} \begin{pmatrix} 5 & -1 \\ -3 & 2 \end{pmatrix} =$

Et $AC = \begin{pmatrix} 0 & 1 \\ 0 & 2 \end{pmatrix} \begin{pmatrix} 3 & 0 \\ -3 & 2 \end{pmatrix} =$

► **Exercice n°47**

Soit $A = \begin{pmatrix} 0 & 1 & 2 \\ 1 & 0 & 1 \\ 2 & 1 & 0 \end{pmatrix}$. On a $A^2 = \begin{pmatrix} 0 & 1 & 2 \\ 1 & 0 & 1 \\ 2 & 1 & 0 \end{pmatrix} \begin{pmatrix} 0 & 1 & 2 \\ 1 & 0 & 1 \\ 2 & 1 & 0 \end{pmatrix} =$

Et $A^3 = AA^2 = \begin{pmatrix} 0 & 1 & 2 \\ 1 & 0 & 1 \\ 2 & 1 & 0 \end{pmatrix} \begin{pmatrix} \quad \quad \quad \\ \quad \quad \quad \\ \quad \quad \quad \end{pmatrix} = \begin{pmatrix} \quad \quad \quad \\ \quad \quad \quad \\ \quad \quad \quad \end{pmatrix}$

► **Exercice n°48**

On considère les matrices $A = \begin{pmatrix} 3 & 7 \\ 2 & 5 \end{pmatrix}$; $B = \begin{pmatrix} 1 & 2 & 3 \\ 4 & -1 & 1 \end{pmatrix}$ et $C = \begin{pmatrix} 3 & 6 \\ 1 & 2 \end{pmatrix}$.

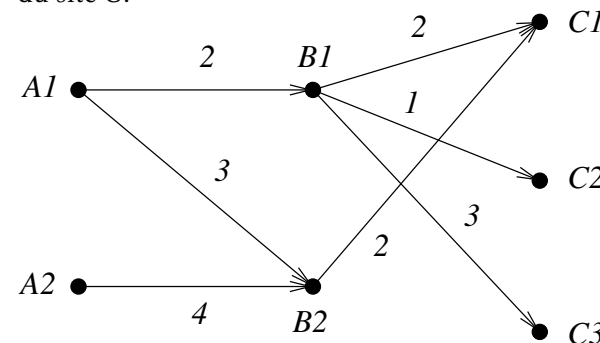
Déterminer si les propositions suivantes sont vraies ou fausses :

- « On peut calculer $A + B$ » .
- « On peut calculer $A + C$ » .
- « On peut calculer AB » .
- « On peut calculer BC » .
- « On a $AB = BA$ » .
- « On a $B^2 = \begin{pmatrix} 1 & 4 & 9 \\ 16 & 1 & 1 \end{pmatrix}$ » .
- « On a $A^2 = \begin{pmatrix} 23 & 56 \\ 16 & 39 \end{pmatrix}$ » .

► **Exercice n°49**

- Un petit site web A contient 2 pages $A1$ et $A2$;
- Un autre petit site web B contient 2 pages $B1$ et $B2$;
- Un dernier site web C contient 3 pages $C1$, $C2$ et $C3$.

Sur le schéma ci-dessous figure le nombre de liens qui pointent des pages du site A vers celles du site B et le nombre de liens qui pointent des pages du site B vers celles du site C .



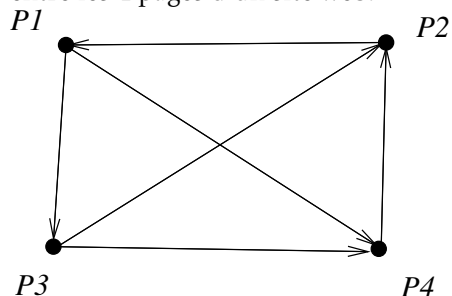
- Indiquer dans les matrices M et N ci-dessous, le nombre de liens qui pointent des pages du site A vers celles du site B et le nombre de liens qui pointent des pages du site B vers celles du site C .

$$M = \begin{matrix} & \begin{matrix} B1 & B2 \end{matrix} \\ \begin{matrix} A1 \\ A2 \end{matrix} & \begin{bmatrix} \cdot & \cdot \\ \cdot & \cdot \end{bmatrix} \end{matrix} \text{ et } N = \begin{matrix} & \begin{matrix} C1 & C2 & C3 \end{matrix} \\ \begin{matrix} B1 \\ B2 \end{matrix} & \begin{bmatrix} \cdot & \cdot & \cdot \\ \cdot & \cdot & \cdot \end{bmatrix} \end{matrix}$$

- Calculer la matrice MN . Que permet-elle de retrouver comme information ?

► **Exercice n°50**

Les flèches dans le schéma ci-dessous indique l'existence d'un lien direct (en un clic) entre les 4 pages d'un site web.



1. Peut-on partir de la page $P1$ et y revenir en cliquant sur deux liens?
2. De combien de façons peut-on aller de la page $P1$ à la page $P2$ en cliquant sur deux liens?
3. De combien de façons peut-on aller de la page $P1$ à la page $P3$ en cliquant sur deux liens?
4. De combien de façons peut-on aller de la page $P1$ à la page $P4$ en cliquant sur deux liens?
5. Construire M , la matrice carrée de dimension 4 de telle façon que le coefficient de la i^e ligne et de la j^e colonne soit égal à 1 s'il y a une flèche de P_i vers P_j et 0 dans le cas contraire.

$$M = \begin{array}{c|cccc} & P1 & P2 & P3 & P4 \\ \hline P1 & \cdot & \cdot & \cdot & \cdot \\ P2 & \cdot & \cdot & \cdot & \cdot \\ P3 & \cdot & \cdot & \cdot & \cdot \\ P4 & \cdot & \cdot & \cdot & \cdot \end{array}$$

6. Calculer M^2 . Que retrouve-t-on à la première ligne de M^2 ?

.....

► **Exercice n°51**

Un journal propose deux formules d'abonnement : une formule « papier » classique notée A et une formule 100% numérique notée B. En 2020 la répartition des abonnés est de 50% pour la formule A et de 50% pour la formule B.

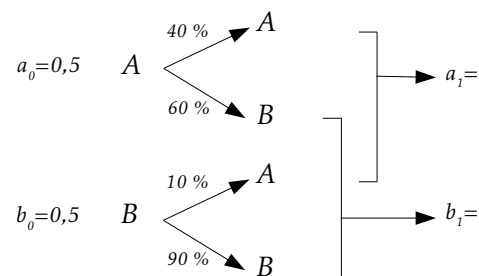
Le journal prévoit que d'une année sur l'autre (à effectif d'abonnés stable) :

- 60% des abonnés à la formule A passeront à la formule B;
- 10% des abonnés à la formule B passeront à la formule A.

On note :

- a_0 la proportion d'abonnés à la formule A en 2020;
- b_0 la proportion d'abonnés à la formule B en 2020;
- a_1 la proportion d'abonnés à la formule A en 2021;
- b_1 la proportion d'abonnés à la formule B en 2021;
- a_2 la proportion d'abonnés à la formule A en 2022;
- b_2 la proportion d'abonnés à la formule B en 2022;
- ainsi de suite...

- a) Indiquer ci-dessous, le calcul de a_1 et b_1 .



- b) En déduire les coefficients à inclure dans la matrice ci-dessous pour que le calcul soit correct :

$$(a_1 \ b_1) = (a_0 \ b_0) \begin{pmatrix} \cdots & \cdots \\ \cdots & \cdots \end{pmatrix}$$

- c) Le mécanisme étant le même d'une année sur l'autre, pour avoir la répartition entre les formules d'abonnement en 2022, il suffit de remultiplier par la même matrice. Compléter le calcul ci-dessous :

$$(a_2 \ b_2) = (a_1 \ b_1) \begin{pmatrix} \cdots & \cdots \\ \cdots & \cdots \end{pmatrix} = (\dots\dots\dots) \begin{pmatrix} \cdots & \cdots \\ \cdots & \cdots \end{pmatrix} = (\dots\dots\dots)$$

- d) On cherche à programmer un script python qui donne l'évolution de la répartition jusqu'en 2030. Expliquer pourquoi seul le script 2 ci-dessous pourra répondre au problème.


```

Script 1
a=0.5
b=0.5
for n in range(1,11):
    a=0.4*a+0.1*b
    b=0.6*a+0.9*b
    print("Année ",2020+n," : a=",a," b=",b)

Script 2
a=0.5
b=0.5
for n in range(1,11):
    a=0.4*a+0.1*b
    b=1-a
    print("Année ",2020+n," : a=",a," b=",b)

```

5. Représentation numérique des images

Pour décrire de façon numérique une image, il existe deux méthodes :

- la représentation dite *vectorielle* où l'on cherche à décrire l'image par les propriétés mathématiques des objets géométriques qu'elle contient (droites, cercles...). L'avantage de cette méthode est de pouvoir agrandir ou réduire autant que l'on veut l'image sans dégrader sa qualité (l'image étant reconstituée à chaque fois d'après les propriétés des objets géométriques), mais cette méthode ne convient que pour les images que l'on peut décrire uniquement à partir de figures géométriques (icônes, images d'illustration...) et est complètement inadaptée aux images photographiques par exemple. Un des formats d'image vectorielle le plus courant est le *svg* (« scalable vector graphic »).
- la représentation dite *matricielle* (ou *bitmap*) obtenue en quadrillant l'image par une grille et en décrivant chaque case, appelée *pixel*, de cette grille. La méthode de description de chaque pixel dépend du type de l'image : en noir et blanc, en nuances de gris ou en couleur.

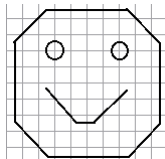



Image matricielle en noir et blanc : on noircit chaque pixel (case du quadrillage) contenant une portion de trait




1) Exemple de codage d'une image en noir et blanc

► **Principe** : Une fois que chaque pixel s'est vu attribué la couleur blanche ou noire, on associe à la grille une matrice de même dimension en attribuant le coefficient 1 à un pixel noir et le coefficient 0 à un pixel blanc. Ainsi, un bit suffit pour coder un pixel.

► Exercice n°52

a) Compléter la matrice de codage associée à l'image ci-dessous :



$$\begin{pmatrix}
 0 & 0 & 1 & 1 & 1 & 1 & 1 & 1 & 0 & 0 \\
 0 & 1 & 0 & 0 & 0 & 0 & 0 & 0 & 1 & 0 \\
 1 & 0 & 1 & 1 & 0 & 0 & 1 & 1 & 0 & 1 \\
 1 & 0 & 1 & 1 & 0 & 0 & 1 & 1 & 0 & 1 \\
 1 & 0 & 0 & 0 & 0 & 0 & 0 & 0 & 0 & 1 \\
 \dots & \dots & \dots & \dots & \dots & \dots & \dots & \dots & \dots & \dots \\
 \dots & \dots & \dots & \dots & \dots & \dots & \dots & \dots & \dots & \dots \\
 \dots & \dots & \dots & \dots & \dots & \dots & \dots & \dots & \dots & \dots \\
 0 & 1 & 0 & 0 & 0 & 0 & 0 & 0 & 1 & 0 \\
 0 & 0 & 1 & 1 & 1 & 1 & 1 & 1 & 0 & 0
 \end{pmatrix}$$

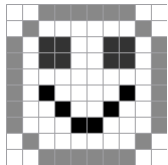
b) Combien de bits sont nécessaires au codage de la matrice de l'image ?

► **Remarque** : Ce type de codage est utilisé par le format d'image *pbm*.

2) Exemple de codage d'une image en niveaux de gris

► **Principe** : En plus du noir et du blanc, on peut utiliser (notamment pour les photos en noir et blanc) diverses nuances de gris. A chaque pixel, on associe cette fois dans la matrice un coefficient compris entre 0 et 255 : 0 pour le noir, 255 pour le blanc et les valeurs intermédiaires pour des gris plus ou moins clairs. Ainsi un octet suffit pour coder un pixel.

► **Exemple** :



$$\begin{pmatrix}
 255 & 255 & 136 & 136 & 136 & 136 & 136 & 136 & 255 & 255 \\
 255 & 136 & 255 & 255 & 255 & 255 & 255 & 255 & 136 & 255 \\
 136 & 255 & 51 & 51 & 255 & 255 & 51 & 51 & 255 & 136 \\
 136 & 255 & 255 & 255 & 255 & 255 & 255 & 255 & 255 & 136 \\
 136 & 255 & 0 & 255 & 255 & 255 & 255 & 0 & 255 & 136 \\
 136 & 255 & 255 & 0 & 255 & 255 & 0 & 255 & 255 & 136 \\
 136 & 255 & 255 & 255 & 0 & 0 & 255 & 255 & 255 & 136 \\
 255 & 136 & 255 & 255 & 255 & 255 & 255 & 255 & 136 & 255 \\
 255 & 255 & 136 & 136 & 136 & 136 & 136 & 136 & 255 & 255
 \end{pmatrix}$$

► Exercice n°53

Combien de bits sont nécessaires au codage de la matrice de l'image de l'exemple ci-dessus?

► **Exercice n°54**

Le codage de la matrice d'une image en niveau de gris nécessite 64 kio.


- a) De combien de pixels est composée l'image?

 b) Sachant que cette image est carrée, quelle est sa largeur en pixels?

► **Remarque :** Ce type de codage est utilisé par le format d'image *pgm* .

► **Exercice n°55**

Ci-dessous figure le négatif de l'image de l'exemple précédent et une partie de la matrice associée :



$$\begin{pmatrix} 0 & 0 & 119 & 119 & 119 & 119 & 119 & 119 & 0 & 0 \\ 0 & 119 & 0 & 0 & 0 & 0 & 0 & 0 & 119 & 0 \\ 119 & 0 & \dots & \dots & 0 & 0 & \dots & \dots & 0 & 119 \\ 119 & 0 & \dots & \dots & 0 & 0 & \dots & \dots & 0 & 119 \\ 119 & 0 & 0 & 0 & 0 & 0 & 0 & 0 & 0 & 119 \\ 119 & 0 & 255 & 0 & 0 & 0 & 0 & 255 & 0 & 119 \\ 119 & 0 & 0 & 255 & 0 & 0 & 255 & 0 & 0 & 119 \\ 119 & 0 & 0 & 0 & 255 & 255 & 0 & 0 & 0 & 119 \\ 0 & 119 & 0 & 0 & 0 & 0 & 0 & 0 & 119 & 0 \\ 0 & 0 & 119 & 119 & 119 & 119 & 119 & 119 & 0 & 0 \end{pmatrix}$$

- a) Par quelle méthode passe-t-on de la matrice de l'image à celle de son négatif?

 b) Compléter la matrice associée au négatif.

3) Exemple de codage d'une image en couleur

► **Principe :** En mélangeant des teintes rouges, vertes et bleues on peut donner à l'œil humain la sensation de recevoir une lumière de n'importe quelle couleur. Une des méthodes pour coder une image en couleur est le système *RVB* qui va associer à chaque pixel une intensité en rouge, en vert et en bleu; ce qui revient à attribuer à chaque image trois matrices : une pour la couleur rouge, une pour la couleur verte et une pour la couleur bleue. Si l'intensité de chaque couleur est représentée par un coefficient compris entre 0 et 255 (c'est à dire par un octet qui équivaut à 8 bits), on dit que l'on a à faire avec une image « 24 bits » ou image en « couleurs vraies ».

► **Remarques :**

- Ce type de codage est utilisé par le format d'image *ppm* .
- En photographie numérique, les intensités rouges, vertes et bleues sont obtenues par des capteurs, appelés *photosites* , couplés avec un filtre dit de *Bayer*

► **Exercice n°56**

- a) Quel est le nombre de couleurs différentes que peut utiliser une image « 24 bits » ?

 b) Combien de Mio sont nécessaires pour coder les intensités de couleur d'une image « 24 bits » carrée d'une largeur de 1024 pixels?

Conversion d'une image couleur en niveaux de gris

Une des méthodes possibles est de calculer l'intensité de gris de chaque pixel en faisant la moyenne des intensités rouges, vertes et bleues, ce qui revient à effectuer le calcul matriciel : $G = \frac{1}{3}(R + V + B)$ (où *R*, *V* et *B* représentent les matrices des intensités en couleur rouge, verte et bleue et *G* représente la matrice des nuances de gris).

► **Exercice n°57**

Retrouver les valeurs de *A*, *B*, *C*, *D* et *E* dans les matrices ci-dessous, pour que cela corresponde à la conversion d'une image couleur carrée de 3 pixels en niveau de gris.

$$R = \begin{pmatrix} 128 & 32 & 3 \\ 0 & 64 & 200 \\ \boxed{D} & 85 & 56 \end{pmatrix}; V = \begin{pmatrix} 42 & 0 & 42 \\ 180 & 11 & 81 \\ 24 & 65 & 0 \end{pmatrix}; B = \begin{pmatrix} 70 & 7 & \boxed{E} \\ 21 & 0 & 55 \\ 40 & 54 & 136 \end{pmatrix}$$

$$G = \begin{pmatrix} \boxed{A} & 13 & 59 \\ 67 & \boxed{B} & 112 \\ 91 & \boxed{C} & 64 \end{pmatrix}$$

4) Définition, résolution, profondeur d'une image

Vocabulaire sur les images numériques

- La *définition* d'une image décrit le nombre de pixels qui la composent et s'écrit de la façon suivante : (nombre de pixels en largeur) × (nombre de pixels en hauteur)

- La *résolution* d'une image décrit le nombre de pixels par unité de longueur et permet de mesurer son degré de détail. Elle s'exprime en *dpi* pour « dots per inch » car l'unité de longueur utilisée dans les systèmes numériques est le *pouce* anglo-saxon qui vaut 2,54 cm.
- La *profondeur de couleur* d'une image est définie par le nombre de bits utilisés pour représenter chaque pixel.

► **Exercice n°58**

- a) Quelle est la résolution d'une photographie numérisée de définition 2100×2100 imprimée sur une feuille carrée de côté 17,78 cm?

- b) Quelle est la taille en pixels d'une photographie numérisée à la résolution de 400 dpi et imprimée sur une feuille carrée de côté 21,59 cm?

- c) Retrouver la largeur et la hauteur en cm d'un écran d'un téléphone portable sachant que la notice indique que cet écran a une résolution de 523 dpi pour une définition de 1440 x 2960 pixels.
 Quelle est la longueur en pouces de la diagonale de cet écran?

- d) À quelle résolution maximale peut-on prendre en photo dans un musée un tableau de 5 mètres par 5 mètres avec un appareil numérique possédant un capteur de 16 millions de pixels?

- e) Quelle est la profondeur de couleur d'une image noire et blanc?
- f) Quelle est la profondeur de couleur d'une image en 256 nuances de gris?

► **Remarque :**

La valeur standard de la résolution d'un écran d'ordinateur est de 72 dpi et on estime que pour scanner ou imprimer un document graphique avec une qualité standard, il faut une résolution de 300 dpi.


5) Compression

Les méthodes de codage d'images vues précédemment impliquent de donner une information chiffrée pour chaque pixel, ce qui génère des fichiers d'images dont la taille en octets devient vite importante. Des méthodes de *compression* permettent de réduire cette taille en permettant aux fichiers de prendre moins de place sur un périphérique de stockage et de faciliter son transfert sur Internet. On distingue deux types de compression :

- la compression *sans perte* qui permet de retrouver l'intégralité des données d'origine;
- la compression *avec perte* qui réduit la taille du fichier en supprimant des informations non indispensables (par exemple des nuances que l'oeil humain peut à peine remarquer).

Une des méthodes les plus simples de compression sans perte pour des images en noir et blanc est le système de codage *RLE* (« Run Length Encoding ») qui consiste à compter le nombre de pixels blancs et noirs qui se suivent plutôt que d'attribuer un 0 ou un 1 à chaque pixel.

► **Exemple avec l'image ci-dessous :**



- La 1^{re} ligne contient 2 pixels blancs, 1 pixel noir et 2 pixels blancs. Elle est donc représentée en système RLE par la suite « 2,1,2 » plutôt que par « 0,0,1,1,00 » (il y a donc réduction du nombre d'informations chiffrées nécessaires);
- La 2^e ligne contient 1 pixels blanc, 3 pixels noirs et 1 pixel blanc. Elle est donc représentée en système RLE par la suite « 1,3,1 »;
- La 3^e ligne commence par 1 pixel noir suivi de 3 pixels blancs et d'un pixel blanc. Mais comme il faut toujours commencer le codage par le nombre de pixels blancs, cette ligne est représentée en système RLE par la suite « 0,1,3,1 ».

► **Exercice n°59**

Donner le code RLE des deux dernières lignes de l'image de l'exemple.

► **Exercice n°60**

1. Reconstituer l'image en noir et blanc ci-dessous d'après le code RLE de chaque ligne qui est indiqué :

							2,4
							1,4,1
							0,3,3
							4,1,1
							0,1,3,2
							0,6

2. Combien de nombres sont nécessaires pour coder l'image avec le système RLE?

6) Formats, métadonnées

Les formats d'image pbm, pgm et ppm vus auparavant sont parmi les plus simples et plus faciles à lire, mais ne sont pas optimisés en taille de fichier généré et ne sont pas les plus courants.

D'autres formats d'images matricielles sont disponibles et sont beaucoup plus utilisés : ils se distinguent par la manière dont les données sont rangées et sont compressées (la compression pouvant se faire avec ou sans perte d'information).

Formats d'images usuels :

format	compression	profondeur de couleurs	utilité
RAW	oui sans perte	14 bits	photo
JPEG			photo
GIF			web
PNG			web
TIFF			numérisation
AVIF			web

Par ailleurs, pour les photographies numériques, l'appareil enregistre en plus des informations matricielles sur les pixels, d'autres données supplémentaires appelées *métadonnées* qui peuvent contenir

Ces métadonnées peuvent être consultées (et modifiées) via les propriétés de l'image fournies par le système et/ou les logiciels graphiques. Le format le plus utilisé pour ces métadonnées est l'*EXIF*

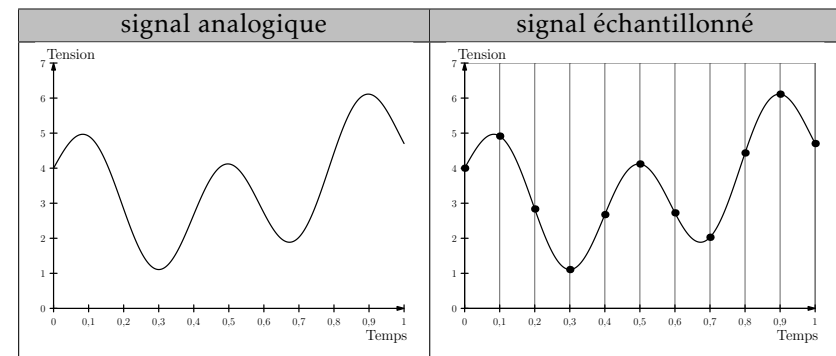
6. De l'analogique vers le numérique - systèmes embarqués

1) Généralités

De nombreux systèmes informatiques ne comportent ni clavier, ni écran : on parle alors de *systèmes embarqués*. Ces unités informatiques reçoivent en entrée des données fournies par des capteurs qui mesurent des grandeurs physiques (intensité lumineuse, intensité sonore, etc.) converties en général sous la forme d'une tension électrique qui varie de façon continue en fonction du temps : c'est ce qu'on appelle un

Or pour que ces données puissent être traités par un processeur informatique, elles doivent être, c'est à dire converties en une liste finie de nombres exprimés en binaire.

Une des méthodes pour faire cela consiste à ne lire la valeur du signal continu qu'à certains instants : c'est ce qu'on appelle un signal.



2) Exemple : numérisation d'un son

Un son est une variation de la pression de l'air au cours du temps que l'on peut capter et convertir en signal électrique continu. Pour numériser un tel signal, une carte son du type « 44 kHz - 16 bits » va mesurer et quantifier la valeur du signal, avec un nombre sur 16 bits, 44 000 fois par seconde.

► **Exercice n°61**

Une carte son « 44 kHz - 16 bits » enregistre un son pendant 10 minutes. Quelle serait la taille, en Mio, du fichier généré s'il n'était pas compressé?

.....

 ▶ Remarque : les formats de fichiers musicaux contiennent souvent aussi, comme les formats de fichiers pour les images, des métadonnées qui indiquent les auteurs, le titre du morceau, l'album, etc...

7. La représentation de textes enrichis

Les textes en ASCII ou en unicode sont des textes bruts sans aucune mise en forme, ni structure. Ils servent notamment aux programmeurs qui les écrivent et les modifient avec des

En dehors la programmation, des textes structurés avec une mise en forme dotée de titres, de paragraphes, d'extraits en gras ou en italiques, etc. sont souvent nécessaires. Ces textes enrichis peuvent être mis au point en bureautique avec des mais sont aussi présents dans les pages web.

1) Exemple avec le langage du web : le HTML

Le langage qui permet créer les pages web s'appelle le *HTML* (pour « HyperText Markup Language ») et est basé sur l'utilisation de *balises* : le principe consiste à encadrer le texte entre deux balises : `<balise>...</balise>` (une balise « ouvrante » et une balise « fermante » avec un /). Quand une page web est chargée par le navigateur, celui-ci interprète le code html de la page et affiche alors la page avec tous les enrichissements de forme indiqués par les balises.

Quelques balises de base

<code>...</code>	mettre en gras
<code><i>...</i></code>	mettre en italique
<code><h1>...</h1></code>	titre principal
<code><h2>...</h2></code>	sous-titre
<code><p>...</p></code>	un paragraphe

Des balises spéciales

- Lien hypertexte (quand on clique, le navigateur affiche la page web dont l'adresse est spécifiée) :
`lycée Palissy`

- Une exception au principe des balises ouvrantes et fermantes est le code pour insérer une image . Il n'y a qu'une seule balise où l'on doit indiquer quelle est l'image à faire apparaître avec le paramètre `src` :
``

Structure minimale d'une page html

Code html	Explication
<pre><html> <head> <meta charset="utf-8"> <title>Titre de la page</title> </head> <body> </body> </html></pre>	<ul style="list-style-type: none"> • Entre les balises <code><head></head></code> se trouve l'en-tête de la page qui n'est pas affiché mais qui sert à paramétrer l'affichage par le navigateur. • <code><meta charset="utf-8"></code> sert à indiquer l'encodage utilisé pour éditer le code html (indispensable) • Entre les balises <code><title></title></code>, se trouve le titre de la page qui sera indiqué par le navigateur. • C'est entre les balises <code><body></body></code> que l'on indique tout le texte enrichi par les balises de base qui sera affiché par le navigateur.

Exemple minimaliste de rendu d'un code html par un navigateur



▶ Exercice n°62

Le code html suivant contient une erreur :

il y a `une erreur` quelque `<i>part<i>`.

Proposer un rectificatif :

► Exercice n°63

Donner le code html pour que le texte Sciences numériques soit affiché par le navigateur avec Sciences en gras et numériques en italique :

► Exercice n°64

Vers quel site pointe le lien dans le code html suivant :

```
Cliquer <a href="http://escroc.com">ici</a> pour mettre à jour vos  
coordonnées bancaires
```

Réponse :

► Exercice n°65

Quel est le nom du fichier de l'image que va afficher le code html suivant :

```
Une photo de vacances : 
```

Réponse :

► **Remarque :** Il est possible de changer le style (police, couleur, etc.) de chaque élément d'une page web via une *feuille de style* au format *css* (« Cascading Style Sheet »). Via un fichier *css*, on peut modifier de façon cohérente le style de l'ensemble de toutes les pages d'un site avec une gestion séparée du contenu (les pages *html*) et de la présentation (le fichier *css*).

Si l'on veut, par exemple, que tous les titres d'un site web soient affichés en rouge, il suffira d'indiquer le code suivant dans la feuille de style *css* du site web :

```
h1 {  
  color: red;  
}
```

À propos du web

Internet est un vaste ensemble de réseaux mondiaux interconnectés qui ne permet pas seulement d'avoir accès aux sites web. Il permet aussi l'échange de fichiers, de mails, la transmission de conversations téléphonique, la diffusion de vidéos, de musique etc....

Le web n'est donc qu'un service parmi d'autres que permet d'utiliser internet.

Quelques spécificités du web

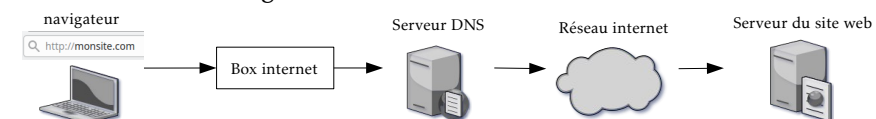
- Les accès à un site web se font à l'aide des protocoles *http* (« hypertext transfert protocol ») et *https* (une version sécurisée où les communications sont chiffrées).
- Un site web est hébergé sur un serveur et est identifié par une adresse IP et peut-être atteint par un navigateur en tapant comme adresse : `http://xxx.xxx.xxx.xxx` où `xxx.xxx.xxx.xxx` serait l'adresse IP du site web.

Mais comme ce n'est ni facile à utiliser ou à retenir comme adresse, le propriétaire d'un site web peut associer un nom à son site en achetant un *nom de domaine*. Dans ce cas là, l'adresse du site devient par exemple : `http://monsite.com`

L'adresse du site est alors, ce qu'on appelle une *url* (« Uniform Ressource Locator ») qui précise le protocole utilisé (*http*) et où se trouve le site à joindre.

Pour faire la correspondance entre le nom de domaine et l'adresse IP, qui elle seule permet de joindre le site, des serveurs spéciaux appelés *DNS* (« Domain Name System ») sont appelés par le fournisseur d'accès à internet dès que l'on entre une adresse dans un navigateur. Ces serveurs *DNS* sont des immenses annuaires qui permettent de dire que tel nom de domaine correspond à telle adresse IP sur tel serveur.

- Schéma résumant (de façon simplifiée) ce qui se passe en tapant une adresse dans un navigateur :



8. Trier des données numériques

Pour pouvoir exploiter des données numériques, une des opérations standards à maîtriser est le tri de ces données. Nous allons voir le principe d'une des méthodes les plus classiques pour cela, qui s'appelle le *tri par insertion*.

1) 1^{re} étape : comment insérer un nouvel élément dans une liste triée?

► **Exemple** : on considère la liste de nombres déjà triés dans l'ordre croissant ci-dessous que l'on appelle `liste_triee`.

<code>liste_triee</code>	1	3	5	7	9
<small>position dans la liste</small>	0	1	2	3	4

Dessous la liste on a fait figurer la position des éléments dans la liste en commençant par 0 comme souvent en informatique.

- Si l'on veut insérer comme nouvel élément le nombre 4 dans la liste en respectant l'ordre croissant, à quelle position faudrait-il l'insérer?
- Si l'on veut insérer comme nouvel élément le nombre 8 dans la liste en respectant l'ordre croissant, à quelle position faudrait-il l'insérer?
- On cherche maintenant un moyen algorithmique (donc automatique) pour savoir à quelle position placer n'importe quel nouveau élément. Pour cela on se place au début de la liste et on va chercher un principe qui répond au problème sous la forme suivante :
tant qu'on est pas à la fin de la liste et que le terme de la liste à la position courante est au nouvel élément que l'on veut insérer, on passe à la position suivante
Compléter la phrase pour que la méthode soit valable.
- On va maintenant pouvoir en déduire une fonction python qui prend en paramètres une liste de nombres déjà triée dans l'ordre croissant et un nouvel élément et qui va retourner une nouvelle liste toujours triée mais à laquelle on a inséré à la bonne place le nouvel élément :

```
def insere(liste_triee,nouvel_element):  
    position=0  
    while (position<len(liste_triee) and liste_triee[position]...nouvel_element):  
        position=position+1  
    liste_triee.insert(position,nouvel_element)  
    return liste_triee
```

Compléter l'inégalité dans la condition de la boucle `while` pour que le code corresponde à la méthode vue à la question précédente.

2) Le principe du tri par insertion

► **Explication du tri par insertion avec un exemple** :

Pour trier cette liste :

`liste_non_triee` 12 3 7 1 9 24 8

- On initialise une nouvelle liste (`liste_triee`) avec comme premier élément celui de la liste à trier :

`liste_non_triee` 12 3 7 1 9 24 8

`liste_triee` 12

- Puis on insère au fur et à mesure dans `liste_triee`, avec la méthode vue au paragraphe précédent, tous les autres termes de la liste à trier. Ainsi, on va insérer, en respectant l'ordre croissant, à `liste_triee` le 3, puis le 7, etc.

Cela donne en python (en affichant toutes les étapes) :

Code python

```
def insere(liste_triee,nouvel_element):  
    position=0  
    while (position<len(liste_triee) and  
liste_triee[position]<nouvel_element):  
        position=position+1  
    liste_triee.insert(position,nouvel_element)  
    return liste_triee  
  
liste_non_triee=[12,3,7,1,9,24,8]  
liste_triee=[liste_non_triee[0]]  
  
for position in range(1,len(liste_non_triee)):  
    insere(liste_triee,liste_non_triee[position])  
    print(liste_triee)
```

Résultat après exécution

```
[3, 12]  
[3, 7, 12]  
[1, 3, 7, 12]  
[1, 3, 7, 9, 12]  
[1, 3, 7, 9, 12, 24]  
[1, 3, 7, 8, 9, 12, 24]
```

► **Exercice n°66**

Quelle modification au code faudrait-il apporter pour n'afficher que le résultat final ?

.....

► **Remarque :** Le principe du tri par insertion est celui qu'on utilise naturellement quand on range des cartes au fur et à mesure qu'elles sont distribuées.

9. Organisation des données

On vient de voir comment trier une donnée simple (une liste d'entiers), mais beaucoup de données en informatique sont en fait composées de plusieurs éléments liés entre eux (nombres, textes, images, sons, etc.) qu'il faut organiser de façon à pouvoir les exploiter et éventuellement les croiser.

— **Info sur les données structurées** —

Pour illustrer le vocabulaire, on va utiliser les données météo suivantes :

Heure	Température °C	Vent km/h
00h	22.4	4
02h	19.9	11
04h	19.2	9

- Les données fournies dans ce tableau constituent ce qu'on appelle en informatique une
- Elle contient trois types de données (dites données) classées par colonnes.
On dit en informatique que l'heure, la température et la vitesse du vent sont des ou de la table.
- Il existe plusieurs formats de fichiers pour enregistrer ce type de table de données. L'un des plus simples (et sommaires) est le format *csv* (« ») qui consiste en un simple fichier texte dont la première ligne contient les intitulés des champs de la table séparés par des virgules et où ensuite chaque ligne contient les valeurs séparées elles aussi par une virgule.

- Ainsi, le fichier *csv* correspondant à l'exemple serait constitué de la façon suivante :

```
Heure,Température °C,Vent km/h
00h,22.4,4
02h,19.9,11
...,...
```

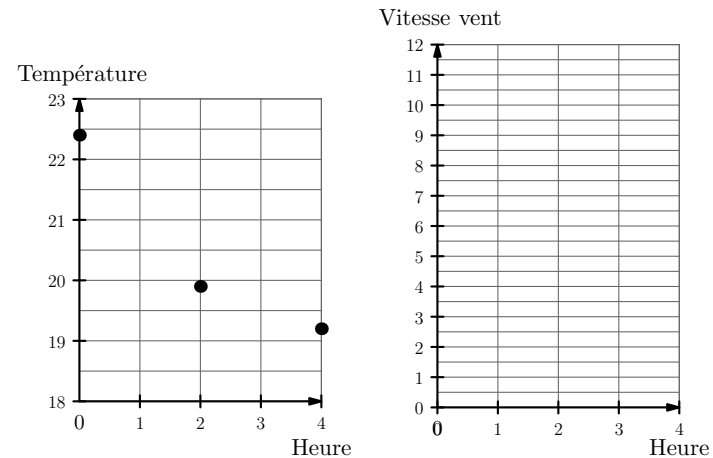
Compléter la dernière ligne du fichier.

- Les algorithmes de tri permettent alors de trier la table de données selon le *champ* que l'on veut.

Ci-dessous, figure la même table que l'exemple mais trié selon un autre champ. Lequel?

Heure	Température °C	Vent km/h
00h	22.4	4
04h	19.2	9
02h	19.9	11

- On peut aussi extraire les données d'une table pour créer des graphiques. Ci-dessous, figurent le graphique complet pour les températures et le repère pour celui de la vitesse du vent :



Rajouter les points pour la vitesse du vent.

10. Le problème des données personnelles

Les réseaux sociaux, les objets connectés (télévisions, voitures, ...) et l'internet des objets (téléphones, tablettes numériques ...) posent des problèmes nouveaux concernant la captation et l'exploitation de données insignifiantes en elles-mêmes mais "« susceptibles de contribuer à un profilage très fin des individus et de produire à leur propos un «savoir» (probabilistique plutôt que de certitude) de leurs propensions personnelles et intimes, de leurs croyances religieuses, de leurs opinions politiques, de leur orientation sexuelle, de leur mode de vie et de bien d'autres aspects de leur vie personnelle et intime »" (Commission Nationale Informatique et Libertés).

C'est pour cela qu'au niveau de l'Union Européenne un règlement a été mis en place auquel doit se soumettre toute organisation publique et privée qui traite des données personnelles (c'est à dire toute information se rapportant à une personne physique identifiée ou identifiable).

Les principales notions de ce règlement (appelé) sont :

- La : une organisation traitant des données personnelles ne doit collecter que celles qui sont au fonctionnement du service qu'elle propose.
- Le : un utilisateur doit donner son consentement pour qu'une organisation collecte une donnée personnelle le concernant.
- La : un utilisateur doit être informé de tous les aspects concernant le traitement de ses données personnelles.

► Exercice n°67

Donner des exemples de données personnelles :

.....
.....
.....

— Info sur les « cookies » —

Un cookie est un fichier texte généré par le serveur du site web que l'on visite ou par le serveur d'une application tierce (régie publicitaire, logiciel d'analyse du trafic internet, etc.) et qui est déposé par le navigateur sur l'appareil utilisé (ordinateur, téléphone, etc.).

Les cookies peuvent avoir un rôle technique indispensable en permettant de reconnaître et retrouver les préférences d'un internaute lorsqu'il revient sur un site web, mais ils peuvent aussi servir à « pister » les goûts et les comportements d'un internaute afin de lui proposer ensuite des publicités ciblées. Ainsi, par exemple, lorsqu'on navigue sur plusieurs sites vendant des chaussures, on risque d'être confronté à des publicités sur le thème des chaussures par la suite en raison des données enregistrées dans certains cookies de pistage.

Les graphes au service des systèmes numériques

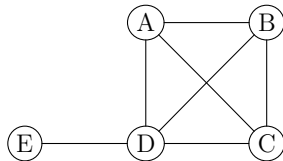
De nombreuses situations dans le monde numérique peuvent être schématisées à l'aide de graphes.

1. Les graphes non orientés

1) Généralités

Un graphe non orienté est un schéma composé de *sommets* dont certains sont reliés par des *arêtes*.

► **Exemple :** Dans le graphe ci-dessous, les sommets A, B, C, D et E représentent des membres d'un réseau social et la présence d'une arête entre deux sommets signifie que les deux membres sont amis sur ce réseau social .



Vocabulaire

- Le nombre total de sommets est appelé *ordre* du graphe.
Avec l'exemple : l'ordre du graphe est égal à
- Deux sommets sont dits *adjacents* s'ils sont reliés par une arête.
Dans le contexte de l'exemple, dire que deux sommets sont adjacents revient à dire que
- Citer dans l'exemple, deux sommets qui ne sont pas adjacents :

- On appelle *degré* d'un sommet le nombre d'arêtes dont le sommet est une extrémité.

Dans le contexte de l'exemple, que signifie le degré d'un sommet?

Avec l'exemple, compléter le tableau suivant :

Sommet	A	B	C	D	E
Degré					

Quelle est la somme des degrés du graphe?

Quel est le nombre d'arêtes du graphe?

Propriété

La somme des degrés d'un graphe est égal à deux fois le nombre d'arêtes. Cette somme ne peut donc être qu'un entier pair.

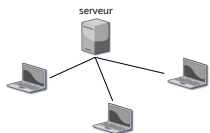
Vocabulaire

Un graphe est dit *complet* si chaque sommet est relié à tous les autres par une arête.

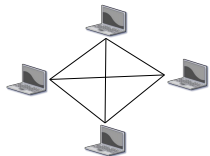
Le graphe de l'exemple est-il complet?

Architectures classiques d'échanges sur un réseau

- Le cas le plus courant : le modèle *client/serveur* :
Le *client* (ordinateur, téléphone, etc...) demande une ressource à un *serveur* (où sont, par exemple, stockés des sites web) qui lui répond en envoyant les données demandées.



- Le modèle *pair-à-pair* (« P2P : peer to peer » an anglais) :
Chaque participant est à la fois client et serveur : chacun met ses ressources matérielles et logicielles au service de tous. Cela peut servir à échanger des fichiers ou faire du calcul distribué.



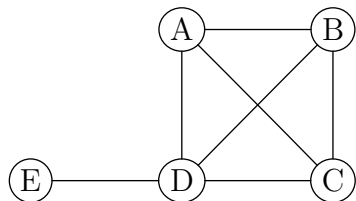
► Exercice n°68

Parmi les deux modèles d'échanges décrits ci-dessus, lequel peut être représenté par un graphe complet?

Vocabulaire

La *matrice d'adjacence* d'un graphe est une matrice carrée de même ordre que celui du graphe où un coefficient 1 indique l'existence d'une arête entre le sommet de la ligne et celui de la colonne (le coefficient est nul dans le cas contraire).

Compléter la matrice d'adjacence du graphe de l'exemple ci-dessous :

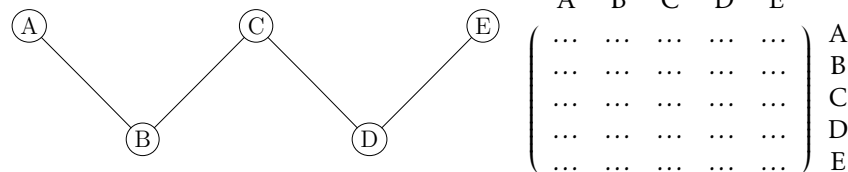


	A	B	C	D	E	
A	0	1	1	1	0	A
B	B
C	C
D	D
E	E

Que retrouve-t-on en effectuant la somme des coefficients de chaque ligne?

► Exercice n°69

a) Compléter la matrice d'adjacence du graphe ci-dessous :



b) Donner l'ordre du graphe :

c) Compléter le tableau suivant :

Sommet	A	B	C	D	E
Degré

► Exercice n°70

Compléter le graphe ci-dessous pour qu'il corresponde à la matrice d'adjacence donnée.



► Exercice n°71

Un graphe possède quatre sommets A, B, C et D et comporte 11 arêtes.

A est de degré 3, B est de degré 4 et C est de degré 5.

Quel est le degré du sommet D?

► Exercice n°72

Un graphe complet est d'ordre 10.

1. Quel est le degré de chacun des sommets?

2. Combien d'arêtes le graphe comporte-t-il?

► **Exercice n°73**

Peut-il exister un graphe d'ordre 6 dont les degrés des sommets sont donnés ci-dessous?

Sommet	A	B	C	D	E	F
Degré	2	4	5	3	4	3

► **Exercice n°74**

Un tournoi d'e-sport réunit 6 joueurs numérotés de 1 à 6 qui doivent s'affronter en duel. Chaque joueur rencontre une fois et une seule les cinq autres.

1. Compléter le graphe ci-dessous dans lequel les sommets représentent les joueurs de façon à ce que les arêtes représentent une rencontre.



2. Quel est le degré de chacun des sommets?

Quel est le nombre total d'arêtes?

Le graphe est-il complet?

3. Sachant que trois assauts peuvent se dérouler en même temps, déterminer un calendrier possible du tournoi. (on pourra s'aider en marquant au fur et à mesure les arêtes correspondantes à une série de trois duels)

.....

.....

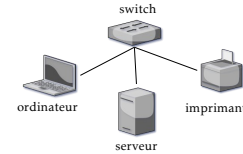
.....

.....

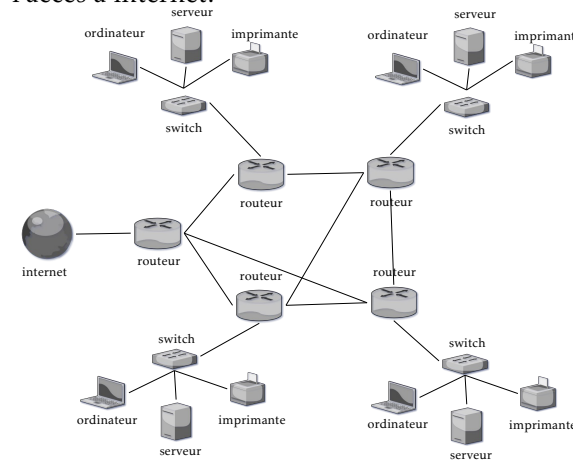
.....

Info sur les réseaux informatiques

- Pour faire communiquer entre eux localement des ordinateurs, des imprimantes, des serveurs, etc. on se sert d'un *switch* qui utilise directement l'identifiant de chaque carte réseau (*l'adresse mac*) pour transmettre les données (sans passer par les adresses IP).



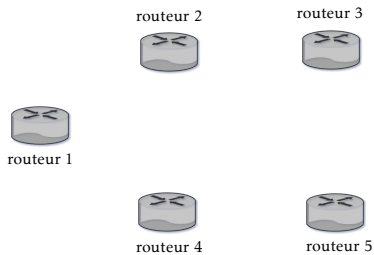
- Alors qu'un *switch* connecte plusieurs périphériques pour créer un réseau local, un *routeur* connecte plusieurs *switchs* et leurs réseaux respectifs pour former un plus grand réseau et sert alors de répartiteur : il dirige le trafic en utilisant les protocoles TCP et IP et choisit l'itinéraire le plus efficace (avec ce qu'on appelle une *table de routage*) pour que les informations, sous forme de paquets de données, arrivent à la bonne destination. Outre la connexion de plusieurs réseaux entre eux, le routeur permet aussi l'accès à internet.



- Les box des fournisseurs d'accès à internet sont à la fois un switch et un routeur avec un modem pour la connexion internet.

► **Exercice n°75**

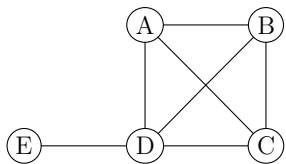
On dispose de 5 routeurs. Est-il possible de relier chacun d'entre eux à trois autres routeurs parmi les 5 ?



.....

2) **Chaines**

Pour illustrer les définitions, on reprend notre exemple des 5 membres d'un réseau social :

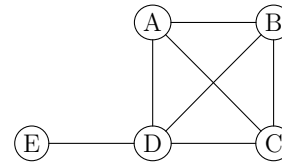


Vocabulaire

- Dans un graphe, une *chaîne* est une liste ordonnée d'arêtes permettant de décrire un chemin reliant deux sommets et on appelle *longueur* de la chaîne le nombre d'arêtes qui la composent.
 Dans l'exemple, E-D-B-C-A-D est une chaîne de longueur
- La *distance* entre deux sommets est le plus petit nombre d'arêtes qu'il faut emprunter pour les joindre.
 Avec l'exemple : la distance entre E et B est égale à

Que cela signifie-t-il dans le contexte de l'exemple :

- L'*excentricité* d'un sommet est la plus grande distance entre ce sommet et les autres sommets.
 Avec l'exemple (rappelé ci-dessous), compléter le tableau ci-dessous pour qu'il indique la distance entre deux sommets et l'excentricité de chaque sommet



Distance	A	B	C	D	E	excentricité
A	0					
B		0				
C			0			
D				0		
E					0	

- Le *diamètre* d'un graphe est la plus grande distance entre deux de ses sommets.
 Pour l'exemple, le diamètre est égal à
- Le *rayon* d'un graphe est la plus petite excentricité de ses sommets.
 Pour l'exemple, le rayon est égal à
- On appelle *centre* d'un graphe tout sommet dont l'excentricité est égale au rayon.
 Pour l'exemple, le(s) centre(s) du graphe est(ont)

Que cela signifie-t-il dans le contexte de l'exemple :

► **Exercice n°76**

Avec l'exemple,

- De combien de façons peut-on passer de D à A,B et C avec une chaîne de longueur 2 ?
- De combien de façons peut-on passer de D à D avec une chaîne de longueur 2 ?
- De combien de façons peut-on passer de D à E avec une chaîne de longueur 2 ?

d) Le carré de la matrice d'adjacence du graphe donne :

$$\begin{matrix} & \begin{matrix} A & B & C & D & E \end{matrix} \\ \begin{pmatrix} 3 & 2 & 2 & 2 & 1 \\ 2 & 3 & 2 & 2 & 1 \\ 2 & 2 & 3 & 2 & 1 \\ 2 & 2 & 2 & 4 & 0 \\ 1 & 1 & 1 & 0 & 1 \end{pmatrix} & \begin{matrix} A \\ B \\ C \\ D \\ E \end{matrix} \end{matrix}$$

Que retrouve-t-on à la ligne de D ?

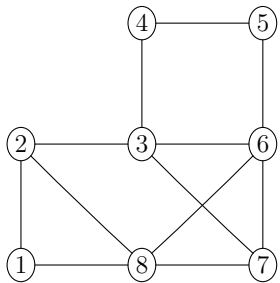
.....

Propriété

Si M est la matrice d'adjacence d'un graphe simple, alors les coefficients de M^n donne le nombre de chaines de longueur n entre le sommet de la ligne et le sommet de la colonne.

► **Exercice n°77**

Huit routeurs sont reliés selon le graphe ci-dessous :



a) Quelle est la distance entre les sommets 1 et 5?

En déduire le nombre minimum de routeurs par lequel doit passer un paquet envoyé du routeur 1 pour arriver au routeur 5 :

b) On note M la matrice associée à ce graphe et on admet que la cinquième ligne de M^3 donne : (1,3,1,4,0,6,3,1). En déduire le nombre de chaines de longueur 3 entre les sommets 5 et 6 :

Parmi ces chaines, lesquelles permettent-elles d'envoyer un paquet de données du routeur 5 au routeur 6 en passant par deux autres routeurs?

.....

c) On souhaite que deux routeurs reliés par une simple arête puisse être identifié sur un plan du réseau par une couleur différente. Justifier qu'il faudra au moins trois couleurs différentes.

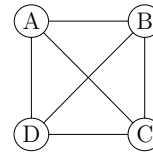
.....

3) Sous-graphe complet

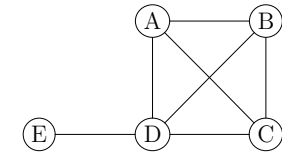
Propriété

Un sous-graphe complet d'un graphe est un extrait du graphe (sommets et arêtes les joignant) dont chaque sommet est relié par une arête à tous les autres.

► Exemple :



est un sous-graphe complet de



► **Exercice n°78**

Un élève souhaiterait inviter à une soirée six de ses camarades de classe (numérotés de 1 à 6), mais uniquement ceux qui sont amis entre eux sur un réseau social afin d'éviter une mauvaise ambiance. Le tableau ci-dessous indique ceux qui ne sont **pas amis** entre eux :

camarade de classe	1	2	3	4	5	6
n'est pas ami avec	2	1,5,6	5	5	2,3,4,6	2,5

a) Représenter cette situation dans le graphe ci-dessous en reliant par une arête les camarades de classe qui **sont amis** entre eux.



b) Combien de camarades au maximum l'élève peut-il inviter sans risque de mauvaise ambiance?


.....
.....

► **Exercice n°79**

Une entreprise dispose de 5 gros serveurs numérotés de 1 à 5 qui nécessitent une bonne climatisation. Pour éviter des problèmes de consommation électrique, ils ne peuvent être utilisés ensemble qu'avec les contraintes suivantes :

- Le serveur 1 peut être utilisé en même temps que le serveur 5;
- Le serveur 2 peut être utilisé en même temps que les serveurs 3, 4 et 5;
- Le serveur 3 peut être utilisé en même temps que le serveur 5;
- Les autres combinaisons ne sont pas possibles.

a) Représenter cette situation par le graphe ci-dessous dans lequel on relie les serveurs pouvant être utilisés ensemble par une arête.



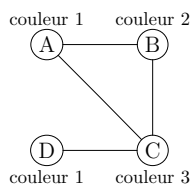
b) Quel est le nombre maximal de serveurs pouvant être utilisés ensemble? Citer ces serveurs.

.....

4) Coloration d'un graphe

Vocabulaire

- La *coloration* d'un graphe consiste à affecter une « couleur » à chacun des sommets de sorte que deux sommets reliés par une arête ne portent pas la même couleur. C'est un moyen de différencier les sommets d'un graphe de façon à ce que deux sommets adjacents ne soient pas dans la même catégorie. *Exemple :*



- Le plus petit nombre de couleurs permettant la coloration d'un graphe est appelé *nombre chromatique*

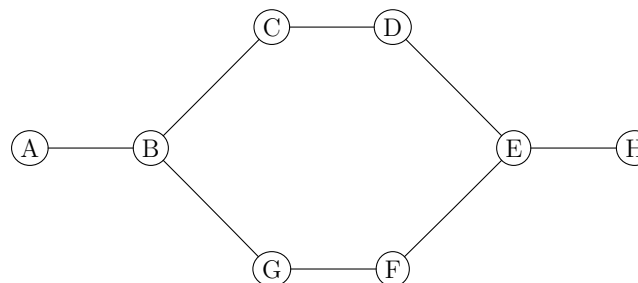
Propriété

- Si le graphe est complet le nombre chromatique est égal
- Si le graphe n'est pas complet alors le nombre chromatique est supérieur ou égal au nombre de sommets nécessaire pour former le sous-graphe complet d'ordre maximal.

Un algorithme de coloration

- On classe dans un tableau les sommets dans l'ordre décroissant de leurs degrés;
- On attribue une nouvelle couleur (par un numéro par exemple) au premier sommet non encore coloré du tableau et la même couleur à chaque sommet non adjacent à un sommet de cette couleur (dans l'ordre du tableau);
- On réitère l'étape précédente jusqu'à ce que tous les sommets se sont vu attribués une couleur.

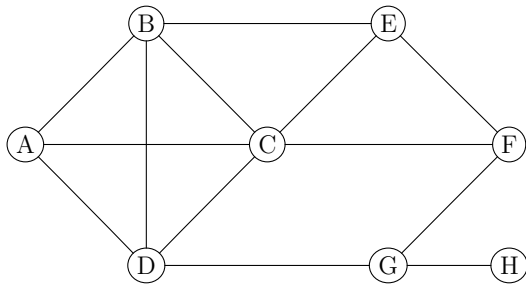
► Exemple :



Sommet	B	E							
Degré	3	3							
Couleur									

► **Exercice n°80**

Dans le graphe suivant, les sommets représentent 8 émetteurs de télécommunication pour la 4G et une arête entre deux sommets signifie que l'on ne peut pas allouer la même fréquence aux deux émetteurs correspondants pour éviter des interférences entre eux à cause de leur proximité. On cherche à minimiser le nombre de fréquences à utiliser.



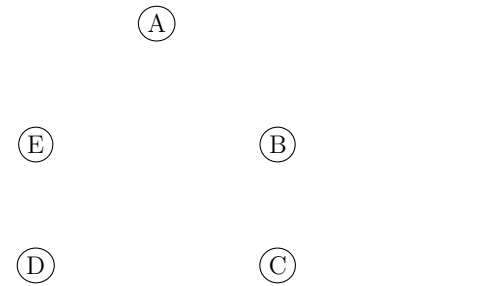
- a) Justifier qu'il faudra au moins 4 fréquences différentes.

 b) Proposer une coloration du graphe en s'aidant du tableau suivant
- | | | | | | | | | |
|---------|--|--|--|--|--|--|--|--|
| Sommet | | | | | | | | |
| Degré | | | | | | | | |
| Couleur | | | | | | | | |
- c) Indiquer alors une répartition des émetteurs pouvant utiliser la même fréquence :

Info sur le « Big Data »

On désigne par le terme « Big Data » les énormes quantités de données numériques générées par l'immensité des individus et objets connectés et les nouveaux moyens qu'il a fallu créer pour y accéder et les analyser. Le « Big Data » peut notamment être utilisé pour développer des technologies d'*intelligence artificielle* (IA) qui nécessitent de gros moyens informatiques.

- **Exercice n°81**
- Dans un laboratoire d'intelligence artificielle comportant 5 machines numérotées de 1 à 5, un analyste doit effectuer cinq tâches notées A,B,C,D et E :
- la tâche A nécessite l'utilisation des machines 1, 3 et 5 ;
 - la tâche B nécessite l'utilisation des machines 1 et 2 ;
 - la tâche C nécessite l'utilisation des machines 2, 3 et 5 ;
 - la tâche D nécessite l'utilisation des machines 2 et 4 ;
 - la tâche E ne nécessite que l'utilisation de la machine 5.
- Chaque tâche requiert le même temps d'exécution d'une heure et une même machine ne peut être utilisée que pour une seule tâche à la fois.
1. Représenter la situation par le graphe ci-dessous ayant pour sommets les cinq tâches et en reliant les tâches ne pouvant pas être exécutées en même temps.

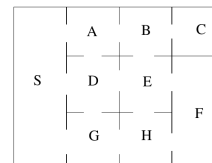


2. Justifier qu'il faudra au moins 3 couleurs différentes pour colorer ce graphe.

 3. Proposer une coloration du graphe en s'aidant du tableau suivant
- | | | | | | |
|---------|--|--|--|--|--|
| Sommet | | | | | |
| Degré | | | | | |
| Couleur | | | | | |
4. En déduire une organisation du travail qui permet de minimiser le temps total nécessaire à l'exécution des cinq tâches.

► **Exercice n°82**

Dans la figure ci-dessous, les lettres S, A, B ... représentent les salles d'un data center et une ouverture représente une porte de communication entre deux salles.



1. Compléter le graphe ci-dessous en traçant une arête pour chaque porte de communication entre deux salles
-

- a) Ce graphe est-il complet?

 b) Quel est l'ordre maximal des sous-graphes complets du graphe?
 c) Quel est le diamètre du graphe?

2. On note M la matrice associée au graphe (avec l'ordre des sommets suivant : S, A, B, C, D, E, F, G et H).

On donne la matrice M^4 :

$$\begin{pmatrix} 18 & 12 & 11 & 2 & 20 & 12 & 6 & 12 & 12 \\ 12 & 20 & 3 & 6 & 11 & 20 & 5 & 18 & 5 \\ 11 & 3 & 16 & 0 & 19 & 3 & 8 & 4 & 12 \\ 2 & 6 & 0 & 3 & 1 & 7 & 1 & 4 & 1 \\ 20 & 11 & 19 & 1 & 31 & 9 & 11 & 12 & 19 \\ 12 & 20 & 3 & 7 & 9 & 28 & 9 & 20 & 9 \\ 6 & 5 & 8 & 1 & 11 & 9 & 9 & 8 & 9 \\ 12 & 18 & 4 & 4 & 12 & 20 & 8 & 20 & 6 \\ 12 & 5 & 12 & 1 & 19 & 9 & 9 & 6 & 17 \end{pmatrix}$$

- a) Combien y-a-t-il de chemins qui, en quatre étapes, partent de D et reviennent à D?
- b) Combien y-a-t-il de chemins qui, en quatre étapes, partent de S et arrivent à C? Citer ces chemins.

- c) Est-il toujours possible de joindre en quatre étapes deux salles quelconques?

3. Le responsable du data center souhaite différencier chaque salle de sa ou ses salles voisines (accessible par une porte) par la couleur de la moquette posée au sol. À l'aide du tableau ci-dessous, proposer une répartition de couleurs qui réponde au problème.

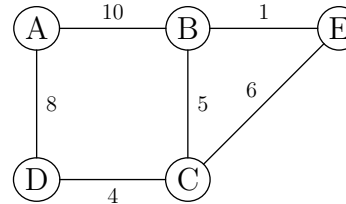
Sommet									
Degré									
Couleur									

5) Graphes pondérés

Vocabulaire

Un *graphe pondéré* est un graphe sur lequel on affecte à chaque arête un coefficient (qui peut représenter une distance, un temps de parcours, un coût etc.). On appelle alors *pois* d'une chaîne la somme des coefficients sur les arêtes qui la composent.

► Exemple de graphe pondéré :



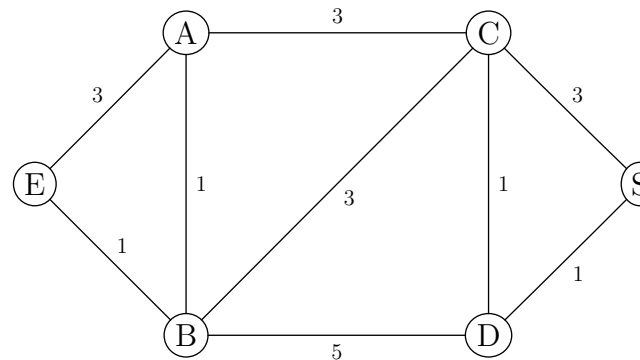
Le poids de la chaîne A-B-C-E est égal à

Le poids de la chaîne A-D-C-E est égal à

6) Chaîne de poids minimal - Algorithme de Dijkstra

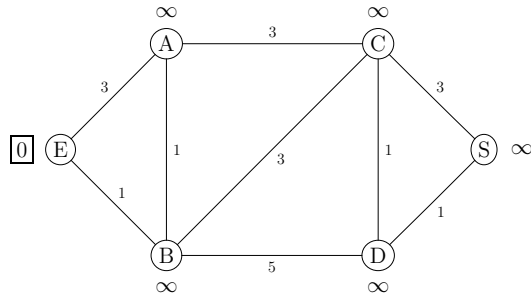
Dans de nombreuses situations modélisées par un graphe pondéré, on est amené à chercher la chaîne reliant deux sommets dont le poids est minimal (recherche de distance minimale, de plus faible coût, etc.). Pour cela une méthode efficace consiste à utiliser l'algorithme de Dijkstra que nous allons détailler avec l'exemple suivant :

► Exemple : recherche de la chaîne de poids minimal du sommet E au sommet S.



• **Étape 1 :**

- On associe le coefficient 0 au sommet de départ E;
- On associe le coefficient ∞ aux autres sommets;
- On sélectionne le sommet de départ E en l'encadrant.

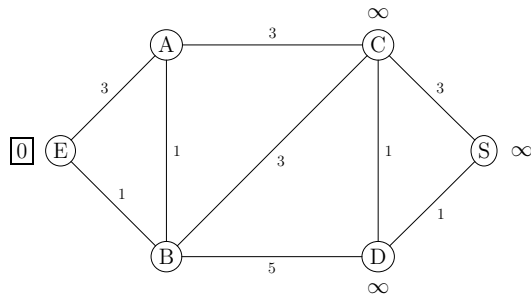


• **Étape 2 :**

- Pour chaque arête sortant de E et qui se termine par un sommet non encore sélectionné, on ajoute le coefficient affecté à E (c'est à dire 0) au poids de l'arête.
- Si le résultat est inférieur au coefficient actuel du sommet auquel aboutit l'arête, on affecte à ce sommet ce résultat comme nouveau coefficient (en précisant de quel sommet il provient).
- On sélectionne alors le sommet dont le coefficient est le plus bas parmi les sommets non encore sélectionnés.

Résultat :

- A passe de « ∞ » à « 3 de E » car $3 < \infty$ » car
- B passe de « ∞ » à « 1 de E » car $1 < \infty$ » car
- On sélectionne le sommet B en l'encadrant.



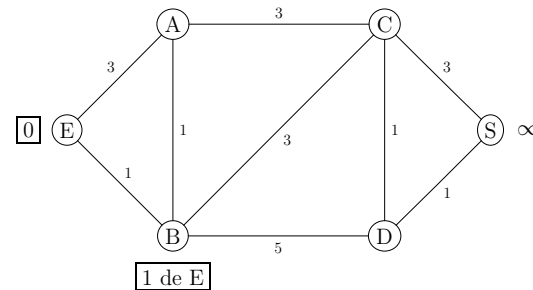
• **Étape 3 :**

- Pour chaque arête sortant de B et qui se termine par un sommet non encore sélectionné, on ajoute le coefficient affecté à B (c'est à dire 1) au poids de l'arête.
- Si le résultat est inférieur au coefficient actuel du sommet auquel aboutit l'arête, on affecte à ce sommet ce résultat comme nouveau coefficient (en précisant de quel sommet il provient).
- On sélectionne alors le sommet dont le coefficient est le plus bas parmi les sommets non encore sélectionnés.

Résultat :

- A passe de « 3 de E » à « 4 de B » car $4 < 3$ » car
- C passe de « ∞ » à « 4 de B » car $4 < \infty$ » car
- D passe de « ∞ » à « 6 de B » car $6 < \infty$ » car
- On sélectionne le sommet C en l'encadrant (car c'est le sommet non

encore sélectionné qui a le coefficient le plus bas).

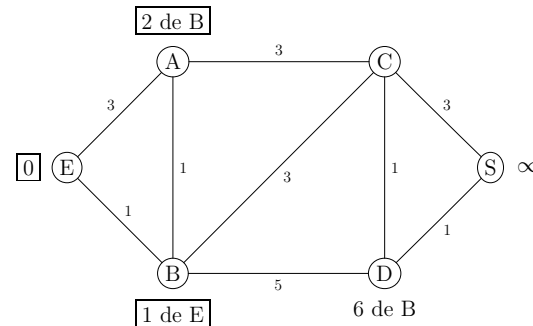


• **Étape 4 :**

- Pour chaque arête sortant de A et qui se termine par un sommet non encore sélectionné, on ajoute le coefficient affecté à A (c'est à dire 4) au poids de l'arête.
- Si le résultat est inférieur au coefficient actuel du sommet auquel aboutit l'arête, on affecte à ce sommet ce résultat comme nouveau coefficient (en précisant de quel sommet il provient).
- On sélectionne alors le sommet dont le coefficient est le plus bas parmi les sommets non encore sélectionnés.

Résultat :

- C reste à « 4 de B » car
- On sélectionne le sommet D en l'encadrant (car c'est le sommet non encore sélectionné qui a le coefficient le plus bas).

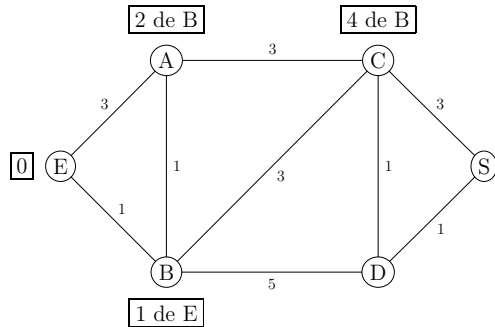


• **Étape 5 :**

- Pour chaque arête sortant de C et qui se termine par un sommet non encore sélectionné, on ajoute le coefficient affecté à C (c'est à dire 4) au poids de l'arête.
- Si le résultat est inférieur au coefficient actuel du sommet auquel aboutit l'arête, on affecte à ce sommet ce résultat comme nouveau coefficient (en précisant de quel sommet il provient).
- On sélectionne alors le sommet dont le coefficient est le plus bas parmi les sommets non encore sélectionnés.

Résultat :

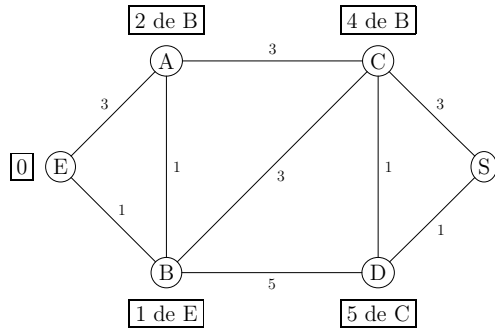
- D passe de « 6 de B » à « 4 de C » car $4 < 6$ » car
- S passe de « ∞ » à « 4 de C » car $4 < \infty$ » car
- On sélectionne le sommet S en l'encadrant (car c'est le sommet non encore sélectionné qui a le coefficient le plus bas).



- **Étape 6 :**
 - Pour chaque arête sortant de D et qui se termine par un sommet non encore sélectionné, on ajoute le coefficient affecté à D (c'est à dire 5) au poids de l'arête.
 - Si le résultat est inférieur au coefficient actuel du sommet auquel aboutit l'arête, on affecte à ce sommet ce résultat comme nouveau coefficient (en précisant de quel sommet il provient).
 - On sélectionne alors le sommet dont le coefficient est le plus bas parmi les sommets non encore sélectionnés.

Résultat :

- S passe de « 7 de C » à « 2 de B » car
- On sélectionne le sommet **B** en l'encadrant.
- Tous les sommets sont ont été sélectionnés : l'algorithme est terminé.



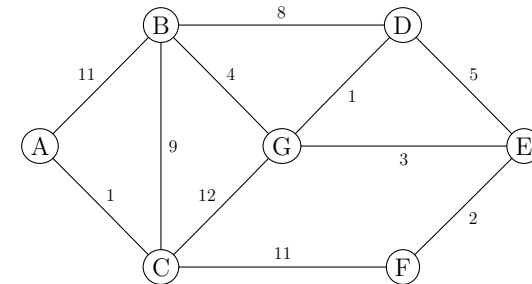
- On détermine alors la chaîne de poids minimal en « remontant » le parcours à partir de S :
 - S vient de **C** ;
 - **C** vient de **D** ;
 - **D** vient de **B** ;
 - **B** vient de **E** ;
 La chaîne de poids minimal de E à S est donc : **E-B-C-S**.
 Son poids total est égal à 6 (1+3+1+1).

ALGORITHME DE DIJKSTRA

- **Initialisation :** on affecte 0 au sommet de départ et ∞ aux autres sommets et on sélectionne le sommet de départ.
- **À chaque étape :**
 - Pour chaque arête sortant du dernier sommet sélectionné et se terminant par un sommet non encore sélectionné, on ajoute le coefficient du sommet sélectionné au poids de l'arête.
 - Si le résultat est inférieur au coefficient actuel du sommet auquel aboutit l'arête, on affecte à ce sommet ce résultat comme nouveau coefficient (en précisant de quel sommet il provient).
 - On sélectionne alors le sommet dont le coefficient est le plus bas parmi les sommets non encore sélectionnés.
- On répète le processus jusqu'à ce que tous les sommets soient sélectionnés.

► Exercice n°83

Déterminer la chaîne de poids minimal entre les sommets D et A dans le graphe ci-dessous (compléter au fur et à mesure les étapes dessous le graphe) :

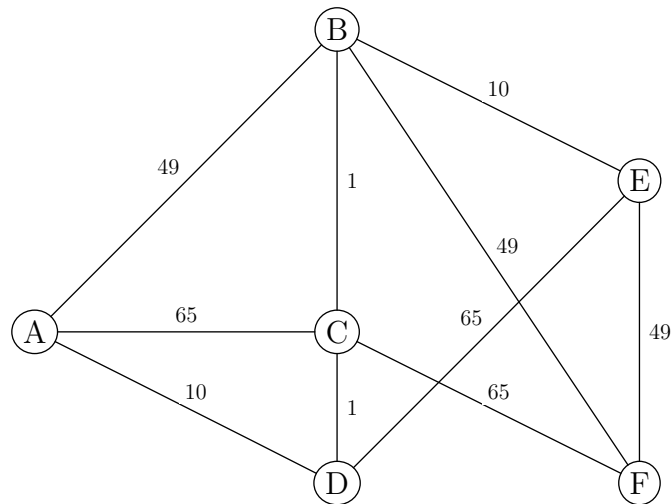


- Étape 1 : sélection de D
- Étape 2 :
- Étape 3 :
- Étape 4 :
- Étape 5 :
- Étape 6 :
- Étape 7 :
- Chaîne de poids minimal entre D et A :

► **Exercice n°84**

Pour acheminer des paquets de données, les algorithmes de routage peuvent prendre en compte la bande passante de chaque liaison entre les routeurs. On attribue alors un *coût* à chaque liaison inversement proportionnel à la bande passante : ainsi plus le *coût* est faible, plus la liaison est rapide (un coût de 1 correspond à une liaison en fibre optique).

Dans le graphe ci-dessous, les sommets représentent des routeurs et le poids de chaque arête indique le *coût* de la liaison. Déterminer la chaîne qui correspond à la liaison la plus rapide entre les routeurs A et E (compléter au fur et à mesure les étapes dessous le graphe) :

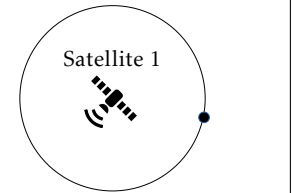


- Étape 1 : sélection de A
- Étape 2 :
- Étape 3 :
- Étape 4 :
- Étape 5 :
- Étape 6 :
- Liaison la plus rapide entre A et E :

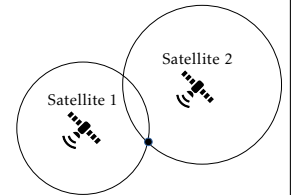
Info sur la géolocalisation par satellite

Principe pour déterminer les coordonnées précises d'un appareil via un système de géolocalisation par satellite (GPS ,Galileo ,..) :

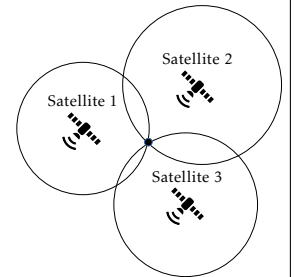
L'appareil envoie un signal vers des satellites. Grâce à une mesure très précise du temps mis entre la réception et l'émission du signal, un premier satellite peut déterminer à quelle distance précise de lui se trouve l'appareil et donc sur quelle sphère centrée en lui se trouve l'appareil. Mais cela ne suffit pas à déterminer où sur la sphère se trouve l'appareil. (ci-contre : vision simplifiée de la sphère - le point représente l'appareil)



Un deuxième satellite capte aussi le signal et détermine sur quelle sphère centrée en lui se trouve l'appareil. L'appareil doit donc se trouver à l'intersection des deux sphères.



Un troisième satellite captant aussi le signal permet finalement de déterminer les coordonnées précises de l'appareil à l'intersection des trois sphères.



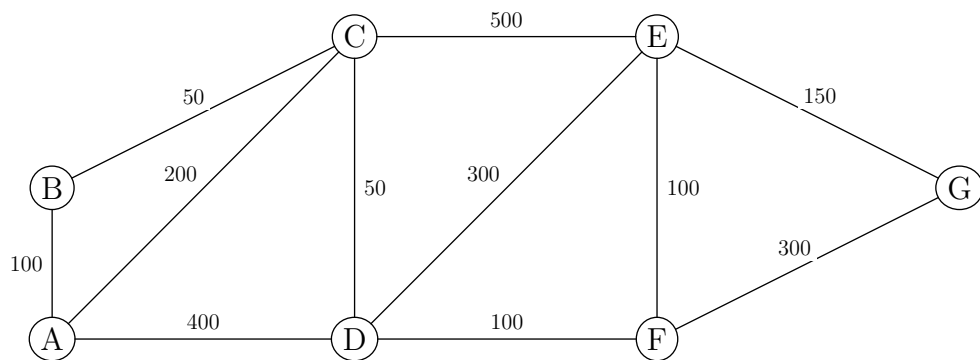
Remarques :

- Il faut une mesure très précise du temps pour que cela fonctionne. C'est pour cela que les satellites embarquent des horloges atomiques ultra-précises.
- Il faut aussi que les trois satellites et l'appareil dont on veut la position soit parfaitement synchronisés. C'est pour cela que dans les faits, il faut un quatrième satellite pour synchroniser l'horloge de l'appareil avec celui des satellites.
- Ce procédé s'appelle la et permet aux systèmes de navigation de fournir de nombreux services.

► **Exercice n°85**

Le graphe ci-dessous représente les itinéraires possibles à un piéton souhaitant aller du point A au point G. Les arêtes indiquent la distance en mètres entre deux points. Le piéton demande au service de navigation de son téléphone le chemin le plus court pour aller de A à G.

Déterminer quelle va être la proposition du système de navigation (compléter au fur et à mesure les étapes dessous le graphe) :

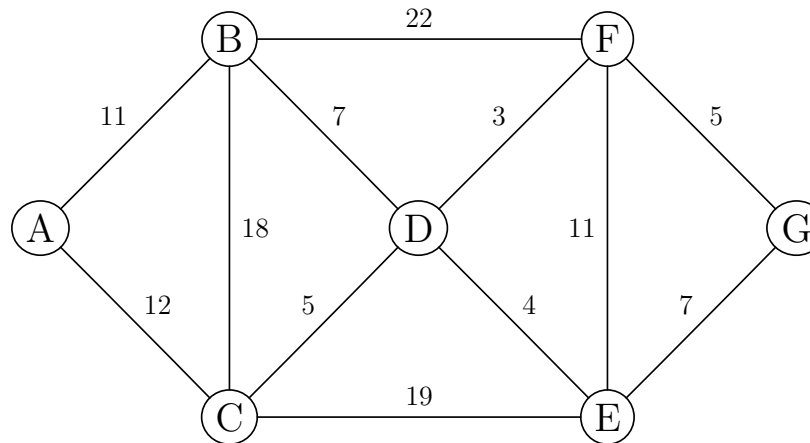


- Étape 1 : sélection de A
- Étape 2 :
- Étape 3 :
- Étape 4 :
- Étape 5 :
- Étape 6 :
- Étape 7 :
- Itinéraire le plus court :

► **Exercice n°86**

Dans un jeu vidéo, un joueur circule dans des catacombes infestées de monstres qu'il doit combattre.

On a représenté ci-dessous le graphe modélisant ces catacombes. Les sommets représentent les salles et les arêtes représentent les couloirs. Les nombres sur les arêtes correspondent au nombre de monstres présents dans chaque couloir.



1. Donner un chemin qui permette à un joueur en A d'y revenir après avoir parcouru tous les couloirs une et une seule fois.

.....

2. Un joueur situé en G souhaite parvenir en A en affrontant le minimum de monstres. Déterminer à l'aide de l'algorithme de Dijkstra un chemin qui réponde au problème.

- Étape 1 : sélection de G
- Étape 2 :
- Étape 3 :
- Étape 4 :
- Étape 5 :
- Étape 6 :
- Étape 7 :

Chemin avec le minimum de monstres :

3. À l'aide de l'algorithme du cours, proposer une coloration du plan des catacombes de telle façon que deux salles reliées par un couloir n'aient pas la même couleur :

Sommet							
Degré							
Couleur							

2. Les graphes orientés

Dans certains cas les relations symbolisées par les arêtes entre deux sommets d'un graphe ne peuvent avoir lieu que dans un sens. On ajoute alors un sens symbolisé par une flèche aux arêtes et le graphe est dit orienté dans ce cas là (les principales propriétés des graphes rencontrées jusque là restent valides).

► Exercice n°87

Dans certains réseaux sociaux, les relations ne sont pas centrées autour du concept réciproque d'« amis », mais sur le fait que des membres peuvent « suivre » d'autres membres sans que cela soit réciproque. Les graphes orientés sont alors tout à fait adaptés :

Cinq élèves (notés A, B, C, D et E) sont membres d'un réseau social où :

- A suit ce que publient B, C et E;
- B suit ce que publient A, C et D;
- C ne suit aucun autre élève;
- D suit ce que publient B et C;
- E suit ce que publie D.

1. Compléter le graphe orienté ci-dessous en ajoutant une arête fléchée quand l'élève de départ suit l'élève d'arrivée (un tel graphe est appelé *sociogramme* par certains).



2. Compléter la matrice d'adjacence du graphe ci-dessous (*attention à partir de la ligne pour arriver à la colonne et à bien regarder si le parcours de l'arête est possible pour mettre un 1*)

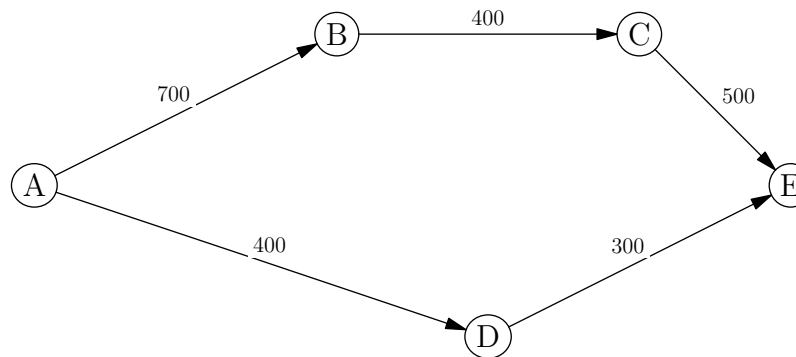
	A	B	C	D	E	
(...	A
	B
	C
	D
	E
)						

3. Comment peut-on déterminer l'élève qui est le plus suivi par les autres ?

.....

► Exercice n°88

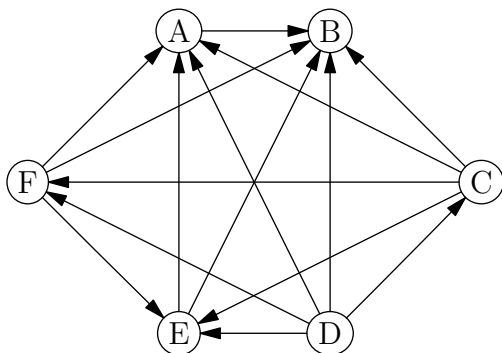
Le graphe orienté ci-dessous schématise les deux routes possibles par lesquelles doit passer un internaute depuis son poste de travail, symbolisé par le sommet A, pour joindre un site hébergé sur le serveur E. Le nombre indiqué sur chaque arête représente le nombre maximum de connexions simultanées que peut supporter le serveur d'arrivée.



Combien de connexions simultanées sont-elles possibles en tout pour le site hébergé sur le serveur E?

► **Exercice n°89**

Dans le graphe orienté ci-dessous :



- chaque sommet représente un joueur d'e-sport lors d'une phase éliminatoire;
- une arête indique que le joueur de départ a battu le joueur d'arrivée.

1. Compléter ci-dessous la matrice d'adjacence de ce graphe.

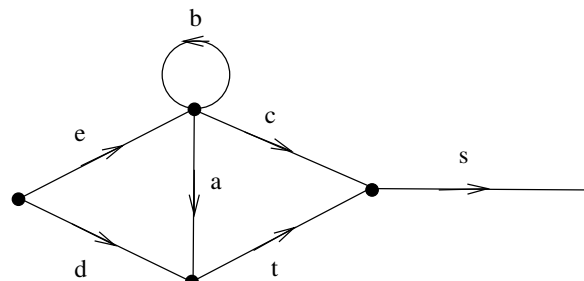
A	B	C	D	E	F	
...	A
...	B
...	C
...	D
...	E
...	F

- Que représente la somme des coefficients de chaque ligne de la matrice?
.....
- Que représente la somme des coefficients de chaque colonne de la matrice?
.....
- Une victoire rapporte 2 points et une défaite 0 point. Déterminer quel joueur a le meilleur à l'issue de cette phase éliminatoire.

► **Exercice n°90**

Dans de nombreux sites web nécessitant une inscription, il est souvent demander de prouver à travers un petit test si le visiteur n'est pas un « robot » (c'est à dire un programme informatique qui pourrait compromettre le site avec des milliers de fausses inscriptions).

Comme test, un site demande aux visiteurs de rentrer un mot qui ne peut être formé qu'en parcourant un graphe comme dans l'exemple ci-dessous :

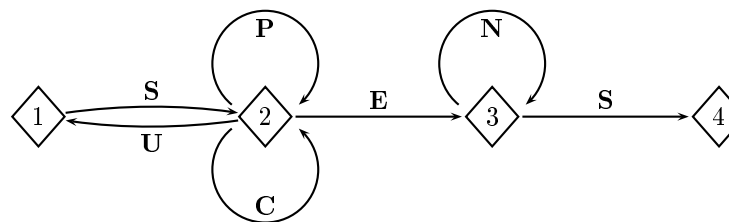


Avec cet exemple, les mots « ebc » , « ebacs » , « dts » , « ebbats » et « eats » seront-ils reconnus comme valides ?

.....

► **Exercice n°91**

Pour accéder à sa messagerie, Antoine a choisi un code qui doit être reconnu par le graphe étiqueté suivant, de sommets 1, 2, 3 et 4 :



Une succession des lettres constitue un code possible si ces lettres se succèdent sur un chemin du graphe orienté ci-dessus, en partant du sommet 1 et en sortant au sommet 4.

- Le code SUCCES est-il reconnu valide par le graphe?
- Le code SCENES est-il reconnu valide par le graphe?
- Le code SUSPENS est-il reconnu valide par le graphe?

4. Compléter la matrice d'adjacence M associée au graphe. On prendra les sommets dans l'ordre 1-2-3-4.

$$M = \begin{pmatrix} 0 & 1 & 0 & 0 \\ 1 & 2 & 1 & 0 \\ \dots & \dots & \dots & \dots \\ \dots & \dots & \dots & \dots \end{pmatrix}$$

5. On admet que $M^4 = \begin{pmatrix} 5 & 12 & 8 & 3 \\ 12 & 29 & 20 & 8 \\ 0 & 0 & 1 & 1 \\ 0 & 0 & 0 & 0 \end{pmatrix}$

En déduire le nombre de codes de 4 lettres reconnus par le graphe :

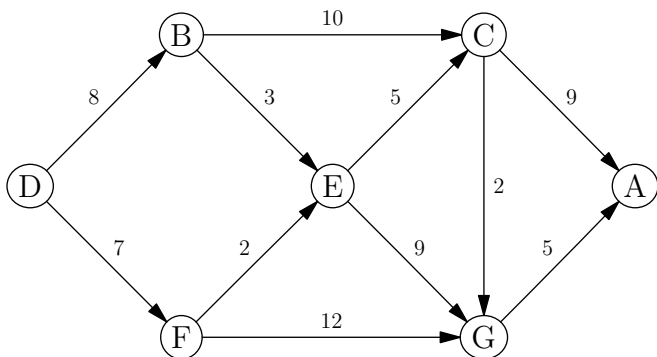
Quels sont ces codes ?

.....

► **Exercice n°92**

Le graphe ci-dessous représente un réseau de cours d'eau que les joueurs d'un jeu en ligne peuvent parcourir à l'aide d'une barque :

- Le sommet D représente la ligne de départ et le sommet A, la ligne d'arrivée.
- Une flèche indique le sens d'écoulement de l'eau ;
- Le nombre sur chaque arête indique le nombre d'épreuves à passer entre deux jonctions.



1. Compléter ci-dessous la matrice d'adjacence de ce graphe.

	A	B	C	D	E	F	G	
A	A
B	B
C	C
D	D
E	E
F	F
G	G

2. Citer tous les parcours permettant d'aller de D en A en ne parcourant que 3 cours d'eau.

.....

.....

3. Déterminer à l'aide de l'algorithme de Dijkstra le circuit qui permet d'aller de D en A en affrontant le moins d'épreuves possible :

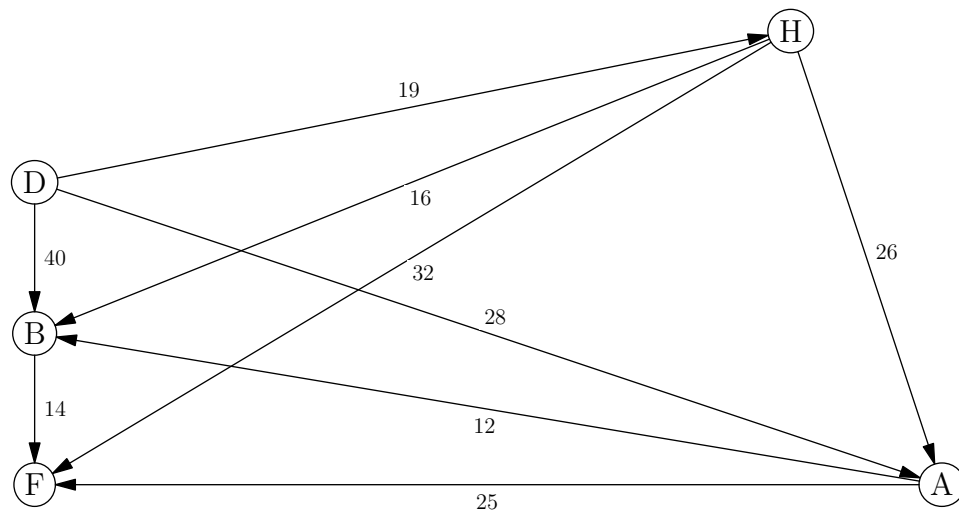
- Étape 1 : sélection de D
- Étape 2 :
- Étape 3 :
- Étape 4 :
- Étape 5 :
- Étape 6 :
- Étape 7 :

Circuit à emprunter :

► **Exercice n°93**

Un parcours sportif virtuel fourni par une application de fitness est représenté par le graphe orienté ci-dessous où :

- Le sommet D représente le départ ;
- Le sommet F représente la fin du parcours ;
- Les sommets B, H et A représentent des exercices de fitness à effectuer ;
- Les arêtes représentent des temps de course sur tapis roulant à effectuer entre deux sommets.



1. On note M la matrice d'adjacence de ce graphe où les sommets sont rangés dans

l'ordre alphabétique. On donne $M^3 = \begin{pmatrix} 0 & 0 & 0 & 0 & 0 \\ 0 & 0 & 0 & 0 & 0 \\ 0 & 1 & 0 & 3 & 0 \\ 0 & 0 & 0 & 0 & 0 \\ 0 & 0 & 0 & 1 & 0 \end{pmatrix}$

Combien de parcours de 3 arêtes sont-ils possibles de D à F?

Citer ses parcours :
.....

2. Un utilisateur souhaite courir le moins longtemps possible sur tapis roulant en allant de D à F. Déterminer, à l'aide de l'algorithme de Dijkstra, le trajet pour lequel le temps de course est minimal :

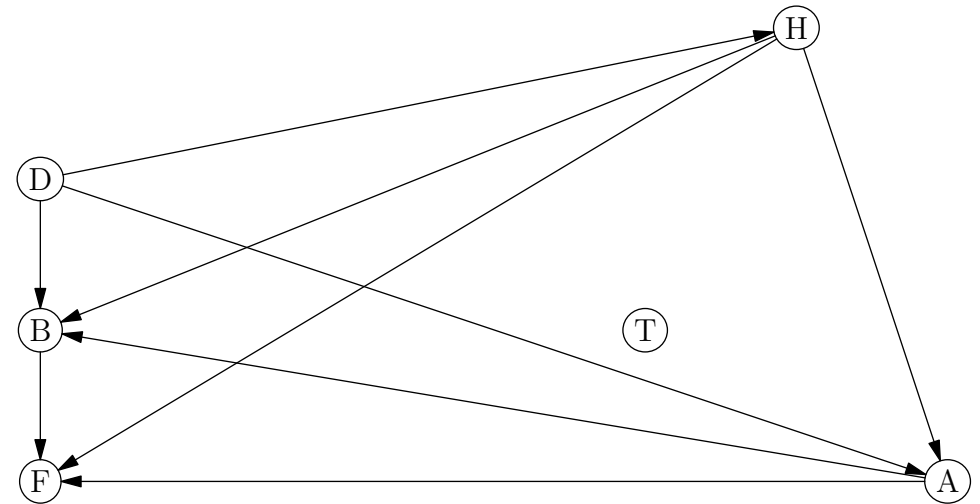
- Étape 1 : sélection de D
- Étape 2 :
- Étape 3 :
- Étape 4 :
- Étape 5 :

Trajet à effectuer :

3. Le concepteur de l'application souhaite ajouter un exercice noté T créant ainsi de nouveaux parcours possibles. La matrice d'adjacence N associée au graphe représentant les nouveaux parcours, dans lequel les sommets sont classés dans l'ordre alphabétique, est

$$N = \begin{pmatrix} 0 & 1 & 0 & 1 & 0 & 1 \\ 0 & 0 & 0 & 1 & 0 & 0 \\ 1 & 1 & 0 & 0 & 1 & 0 \\ 0 & 0 & 0 & 0 & 0 & 0 \\ 1 & 1 & 0 & 1 & 0 & 1 \\ 0 & 0 & 0 & 1 & 0 & 0 \end{pmatrix}$$

Compléter le graphe ci-dessous , en ajoutant les arêtes nécessaires au graphe orienté pour qu'il corresponde à la matrice N .



1. Les moteurs de recherche

1) Principe

Les moteurs de recherche mis au point pour permettre de rechercher des données dans la masse grandissante des ressources disponibles sur le Web.

Les techniques mises en œuvre par les moteurs de recherche :

- Des logiciels robots appelés parcourent automatiquement les sites Web en suivant tous les liens qui y figurent et inspectent leurs contenus.
- Les mots-clés et les métadonnées des pages visitées sont stockés dans des bases de données où ils sont associés à l'adresse des pages Web. Cette étape est appelée
- Un algorithme, propre à chaque moteur de recherche, classe alors les pages associées à un mot-clé selon leur pertinence.

Du côté de l'internaute :

- Lors d'une recherche, les mots-clés envoyés par l'internaute sont comparés à ceux stockés dans les bases de données du moteur de recherche.
- Les pages Web associées par le moteur de recherche à ces mots-clés sont alors classées selon leur et renvoyées sous la forme d'une liste de liens.
- La plupart des moteurs de recherche ajoutent au début de la liste des résultats des liens dits « » qui sont définis lors de ventes aux enchères de certains mots-clés à des entreprises commerciales. Ce référencement payant est appelé (« »).

Du côté des auteurs de sites Web, il existe des techniques pour faciliter le référencement des sites par les moteurs de recherche. Ces techniques sont appelés

(« »).

► Exercice n°94

Citer quatre moteurs de recherche. Réponse :

► Exercice n°95

Ci-dessous figure un extrait du code source d'une page d'un site Web.

```
<meta name="description" content="Vos articles à petits prix : culture, high-tech, mode, jouets, sport, maison et bien plus !">
<meta name="keywords" content="livres, achats en ligne, librairie, magazine, abonnement, musique, Cds, DVD, vidéo, électronique, vêtements, accessoires, chaussures, bijoux, montres, produits de bureau, sports en plein air, articles de sport,...">
```

À quel type de sites Web cela peut-il correspondre ?

► Exercice n°96

Le premier résultat de la recherche sur « mairie » sur deux moteurs de recherche différents figure ci-dessous. Comment expliquer la différence ?

Réponse :

2) Détermination du classement des résultats

Pour classer les résultats trouvés selon leur pertinence, les moteurs de recherche se basent sur deux types de critère :

- Les critères dits « » basés sur le contenu des pages (présence des mots-clés dans le texte, les métadonnées, la description des images ou dans l'adresse même de la page)
- Les critères dits « » basés notamment sur la fréquentation, le sérieux, le nombre et la qualité des liens qui figurent sur les sites.

L'algorithme « » créé par Google a permis de créer un système de notation des pages en se basant à l'origine sur la méthode dite du « » qui attribue à une page une note comprise entre 0 et 1

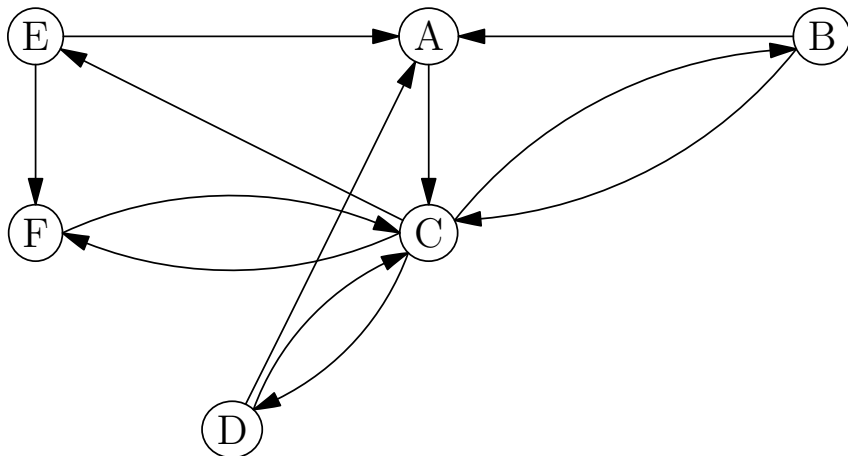
selon le principe suivant :

Après avoir établi la liste de tous les sites traitant la requête, un robot en choisit un au hasard. Puis il regarde les liens hypertextes du site sur lequel il se trouve vers les autres sites dans la liste. Il en choisit alors un au hasard et répète le processus sans s'arrêter en comptant pour chacun des sites combien de fois il l'a visité. Plus un site est visité de cette façon, plus sa note est grande.

Le début de l'exercice suivant montre comment on peut simuler le fonctionnement de ce principe.

► Exercice n°97

Dans le graphe orienté ci-dessous, les sommets représentent les pages répondant à une requête de recherche et une arête représente un hyperlien entre la page de départ et la page d'arrivée.



1. Compléter les phrases suivantes :

- La page A contient un lien vers la(les) page(s)
- La page B contient un lien vers la(les) page(s)
- La page C contient un lien vers la(les) page(s)
- La page D contient un lien vers la(les) page(s)
- La page E contient un lien vers la(les) page(s)
- La page F contient un lien vers la(les) page(s)

2. À l'aide d'un dé ou du script python ci-après, choisir une page de départ au hasard, puis suivre au hasard 20 fois un lien possible et compléter le tableau suivant :

Page de départ :

Pages	A	B	C	D	E	F
Nombre de fois où la page est visitée
Fréquence (en divisant par 20)

Dernière page visitée :

Page la mieux notée (qui figurera en tête de classement) :

Script python

```

from random import choice
hyperLiens = { "A":["C"] , "B":["A", "C"], "C":["B", "D", "E", "F"]
, "D":["A", "C"], "E":["A", "F"], "F": ["C"] }
nomsPages=[n for n in hyperLiens.keys()]

def parcours(nbEtapes,pause):
    nbVisites = {n:0 for n in hyperLiens}
    page=choice(nomsPages)
    print("Page de départ :",page)
    for i in range(nbEtapes):
        page=choice(hyperLiens[page])
        nbVisites[page] += 1
        if pause:
            print("On passe à la page : " , page)
            input()
    pageRank={n:nbVisites[n]/nbEtapes for n in nbVisites}
    return pageRank

print(parcours(20, True))
  
```

3. Compléter la matrice d'adjacence M du graphe :

$$M = \begin{pmatrix} & A & B & C & D & E & F \\ \begin{matrix} 0 & 0 & \dots & 0 & 0 & 0 \\ 1 & 0 & \dots & 0 & 0 & 0 \\ \dots & \dots & \dots & \dots & \dots & \dots \\ 1 & 0 & \dots & 0 & 0 & 0 \\ 1 & 0 & \dots & 0 & 0 & 1 \\ 0 & 0 & \dots & 0 & 0 & 0 \end{matrix} & \begin{matrix} A \\ B \\ C \\ D \\ E \\ F \end{matrix} \end{pmatrix}$$

4. On donne ci-dessous M^{20} . En déduire le nombre de possibilités qu'il y avait lors du parcours du surfeur aléatoire à la question 2 pour aller de la première page à la dernière page de la simulation effectuée.

Réponse :

$$M^{20} = \begin{pmatrix} 809568 & 592291 & 1300644 & 592291 & 592291 & 862147 \\ 1177875 & 862147 & 1892935 & 862147 & 862147 & 1254772 \\ 1776873 & 1300644 & 2856297 & 1300644 & 1300644 & 1892935 \\ 1177875 & 862147 & 1892935 & 862147 & 862147 & 1254772 \\ 736614 & 539712 & 1184582 & 539712 & 539712 & 785250 \\ 809568 & 592291 & 1300644 & 592291 & 592291 & 862147 \end{pmatrix}$$

5. On donne ci-dessous M^4 . En déduire le nombre de possibilités pour aller de la page E et de finir sur la page C en cliquant sur 4 liens et donner l'ensemble de ses possibilités.

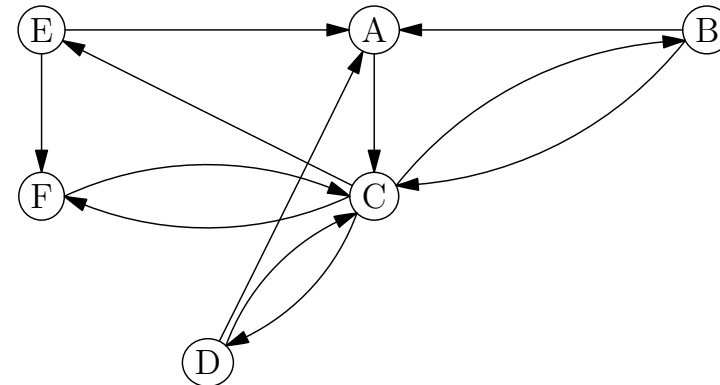
Réponse :

$$M^4 = \begin{pmatrix} 0 & 3 & 4 & 3 & 3 & 3 \\ 3 & 3 & 7 & 3 & 3 & 4 \\ 9 & 4 & 9 & 4 & 4 & 7 \\ 3 & 3 & 7 & 3 & 3 & 4 \\ 6 & 0 & 6 & 0 & 0 & 2 \\ 0 & 3 & 4 & 3 & 3 & 3 \end{pmatrix}$$

2. Parcours Eulériens

► Exercice n°98

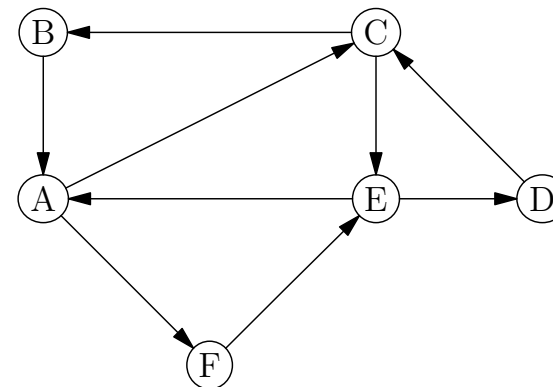
1. On reprend le graphe de l'exercice précédent où les sommets représentent des pages web et une arête représente un hyperlien entre la page de départ et la page d'arrivée.



Est-il possible de partir d'une page et d'y revenir en cliquant une fois (et une fois seulement) sur chaque lien disponible? Si oui, donner un exemple d'un tel parcours (note : un tel parcours est appelé)

Réponse :

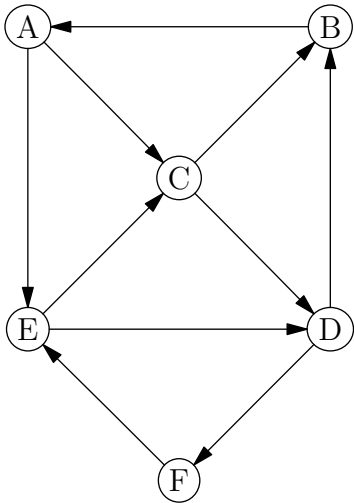
2. Répondre à la même question avec la configuration des pages suivantes :



Réponse :

► **Exercice n°99**

On considère le graphe ci-dessous où les sommets représentent des pages web et une arête représente un hyperlien entre la page de départ et la page d'arrivée.



Est-il possible de partir d'une page et d'arriver à une autre en cliquant une fois (et une fois seulement) sur chaque lien disponible? Si oui, donner un exemple d'un tel parcours (note : un tel parcours est appelé)

Réponse :

3. Numération hexadécimale

Si le système binaire est à la base de l'informatique, il n'est pas toujours pratique et lisible pour les humains. C'est pour cela, qu'en informatique, on utilise aussi le système hexadécimal qui permet de représenter de façon plus courte les nombres.

- Le système décimal classique nécessite 10 chiffres : 0,1,2,3,4,5,6,7,8,9
- Le système binaire nécessite chiffres : ...
- Le système hexadécimal nécessite chiffres :

1) Conversion binaire - hexadécimal

Comme un groupe de 4 bits permet de représenter $2^4 = \dots\dots$ chiffres, pour passer du binaire à l'hexadécimal, il suffit d'utiliser la table suivante :

Code binaire	0000	0001	0010	0011	0100	0101	0110	0111
Chiffre hexadécimal

Code binaire	1000	1001	1010	1011	1100	1101	1110	1111
Chiffre hexadécimal

► **Exercice n°100**

- a) Convertir en hexadécimal le nombre binaire 10100100. Réponse :
 - b) Convertir en hexadécimal le nombre binaire 1101100. Réponse :
 - c) Convertir en hexadécimal le nombre binaire 1111100110. Réponse :
- a) Convertir en binaire le nombre hexadécimal F3. Réponse :
 - b) Convertir en binaire le nombre hexadécimal 123. Réponse :
 - c) Convertir en binaire le nombre hexadécimal 8A4. Réponse :

2) Conversion hexadécimal - décimal

Le principe est le même qu'avec la conversion décimale-binaire sauf qu'à la place de puissances de 2, on utilise des puissances de 16.

Ainsi :

- Le nombre hexadécimal BF correspond au nombre décimal car $\boxed{11} \times 16 + \boxed{15} = \dots\dots$
- Le nombre hexadécimal 8A3 correspond au nombre décimal car $\boxed{8} \times 16^2 + \boxed{10} \times 16 + \boxed{3} = \dots\dots$

► **Exercice n°101**

1. Donner l'écriture en système décimal du nombre hexadécimal 321 .

Réponse :

2. Donner l'écriture en système décimal du nombre hexadécimal E0A.

Réponse :

3. Quel est le plus grand nombre, en système décimal, que l'on peut obtenir à partir d'un nombre hexadécimal formé de 2 chiffres ?

Réponse :

4. Donner l'écriture en système hexadécimal du nombre décimal 156 .

Réponse :

3) Le codage des couleurs dans les pages Web

Une couleur dans le code html (ou css) d'une page web peut-être définie sous deux formes différentes :

- la forme `rgb(a, b, c)` où *a*, *b* et *c* sont des nombres, allant de 0 à 255, représentant l'intensité de la nuance de rouge, vert et bleu.

Par exemple,

- `rgb(255,0,0)` correspond à la couleur rouge
- `rgb(0,0,255)` correspond à la couleur
- `rgb(255,255,255)` correspond à la couleur
- `rgb(0,0,0)` correspond à la couleur
- `rgb(255,255,0)` correspond à la couleur

- la notation hexadécimale `#xxyyzz` où *xx*, *yy* et *zz* représentent les intensités des nuances de rouge, vert et bleu en hexadécimal.

Par exemple,

- `#FF0000` correspond à `rgb(255,0,0)`
- `#00FF00` correspond à `rgb(...,...,...)` et donc à la couleur
- `#FFFFFF` correspond à `rgb(...,...,...)` et donc à la couleur

► **Exercice n°102**

1. Convertir en notation rgb le code de couleur html #A04C9D :

Réponse :

.....

.....

2. Convertir en notation rgb le code de couleur html #5080DE :

Réponse :

.....

.....

3. Convertir en notation hexadécimale le code de couleur html `rgb(127,10,0)` :

Réponse :

.....

.....

4. Convertir en notation hexadécimale le code de couleur html `rgb(248,32,32)` :

Réponse :

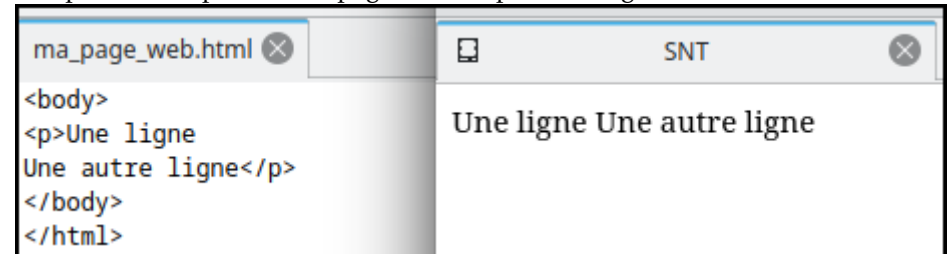
.....

.....

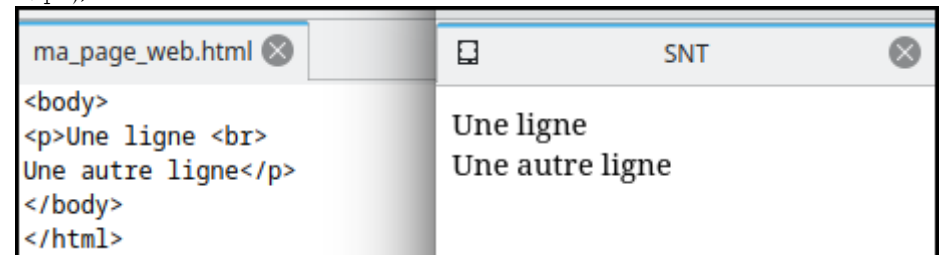
4. Compléments sur le HTML

1) Retour à la ligne en html

Effectuer un retour à la ligne dans le code d'une page html ne suffit pas pour qu'il soit pris en compte dans la page affichée par le navigateur :

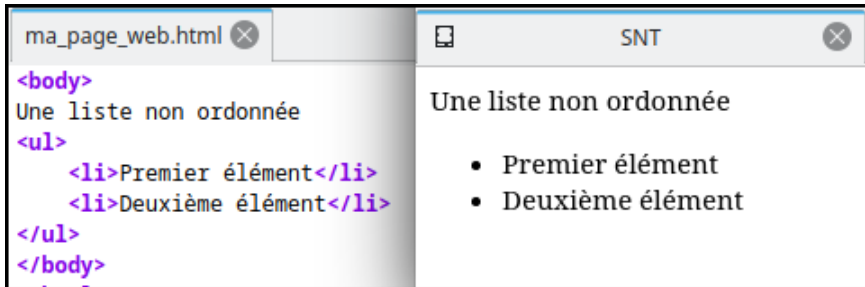


Pour qu'un retour à la ligne soit affiché dans un paragraphe (entre les balises `<p>` et `</p>`), il faut utiliser la commande

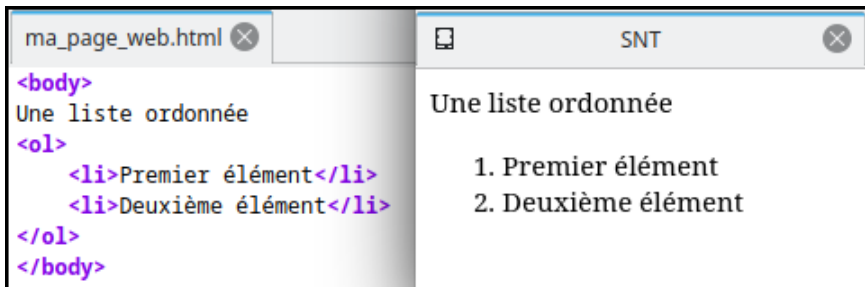


2) Listes en html

- Pour afficher une **liste non ordonnée**, il faut l'introduire dans le code avec les balises Chaque élément de la liste doit alors être encadrée par les balises



- Pour afficher une **liste ordonnée**, il faut l'introduire dans le code avec les balises Chaque élément de la liste doit alors être encadrée par les balises



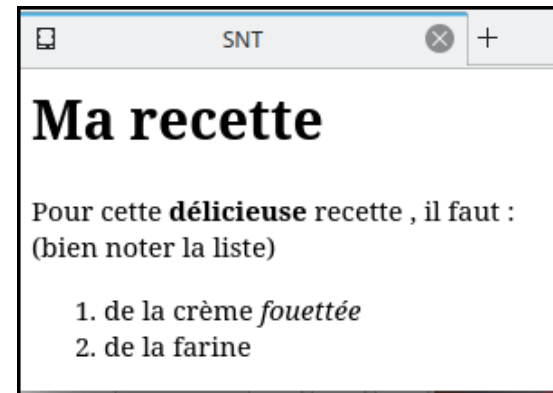
► Exercice n°103

Compléter le code source ci-dessous, pour que le résultat affiché dans un navigateur soit conforme à la copie d'écran ci-contre :

```
<body>
Ma recette
Pour cette délicieuse recette , il faut :
( bien noter la liste )

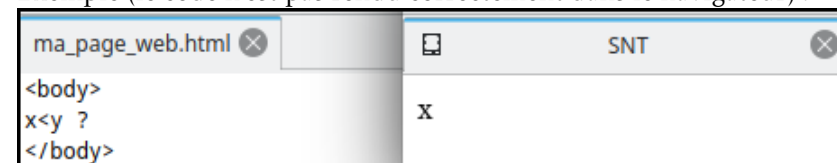
de la crème fouettée
de la farine

</body>
```



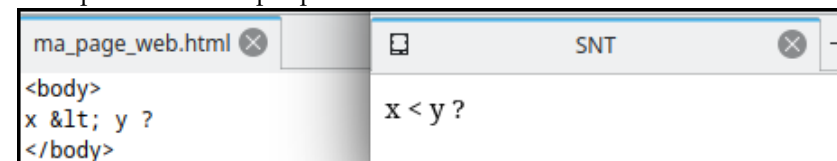
3) Caractères spéciaux

Comme les caractères < et > sont utilisés pour les balises html, on ne peut pas les afficher dans une page web en les incluant directement dans le code html de la page. Exemple (le code n'est pas rendu correctement dans le navigateur) :



La solution pour afficher les caractères < et > dans une page web est de les remplacer dans le code html par et

En reprenant l'exemple précédent :



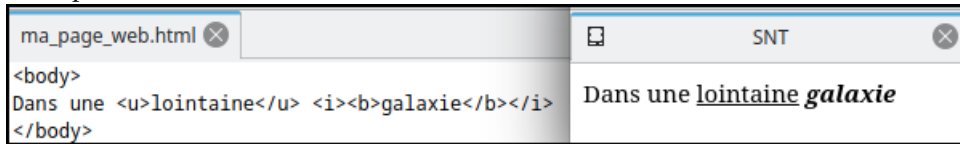
4) Complément sur les styles de texte en html

Nous avons déjà vu les balises (pour mettre en gras) et <i></i> pour mettre du texte en gras et en italique.

Il existe aussi la balise pour souligner du texte et la balise pour du texte barré.

Il est de plus possible de mixer ces effets de texte en imbriquant les balises.

Exemple :



► Exercice n°104

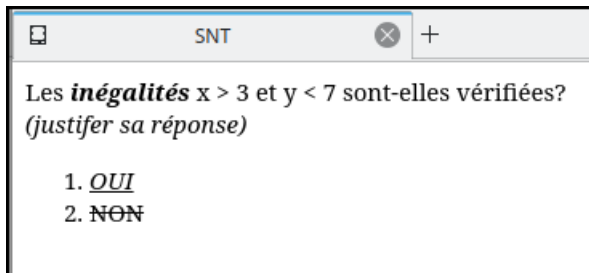
Compléter le code source ci-dessous, pour que le résultat affiché dans un navigateur soit conforme à la copie d'écran :

```
<body>

    Les inégalités          sont-elles vérifiées?
    (justifier sa réponse)

    OUI
    NON

</body>
```



► Exercice n°105

Pour chaque question, indiquer la seule affirmation exacte parmi celles proposées :

1. Quelle balise faut-il utiliser pour un titre principal?

- A : <head></head>
- B : <h1></h1>
- C : <title></title>

2. Quel est le code valable pour créer un lien vers <https://monsite.com>?

- A : lien
- B : lien
- C : lien

3. Quelles balises faut-il utiliser pour créer une liste ordonnée?

- A : et
- B : et
- C : et

4. HTML est un acronyme pour :

- A : HyperText Markup Language
- B : HyperText Markup Link
- C : HyperText Make Link

5. La notation hexadécimale du code de couleur html `rgb(56,206,10)` est :

- A : #38CEAA
- B : #36DEOA
- C : #38CE0A

6. La conversion en notation `rgb()` du code de couleur hexadécimal #B0FE23 est :

- A : `rgb(176,254,35)`
- B : `rgb(B0,FE,23)`
- C : `rgb(192,255,37)`

7. Le code valable pour insérer une image est :

- A :
- B :
- C :

8. Quel code faut-il utiliser pour afficher un mot en italique et souligné?

- A : <i><u>mot</u></i>
- B : <u>mot</u>
- C : <s><i>mot</i></s>

9. Quel code faut-il utiliser pour que le navigateur affiche < hello >?

- A : < hello >
- B : > hello <
- C : < hello >

10. Le code d'une page web au format html doit-être enregistré avec l'extension

- A : .html
- B : .web
- C : .css

11. Laquelle de ces balises insérera un saut de ligne?

- A : <newline>
- B :

- C : <line>

12. Quel code permettra-t'il au navigateur d'afficher blabla?

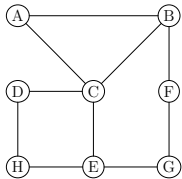
- A : <head><p>blabla</p></head>
- B : <body><p>blabla</p></body>
- C : <htm><p>blabla</p></htm>

5. Exemple de table de routage

Dans un réseau de routeurs, la table de routage indique, pour chaque routeur, comment envoyer des données à un autre routeur.

► Exercice n°106

On considère le réseau de routeurs et sa table de routage ci-dessous :



Routeur A		Routeur B		Routeur C		Routeur D	
Pour	Passer par	Pour	Passer par	Pour	Passer par	Pour	Passer par
B	B	A	A	A	A	A	C
C	C	C	C	B	B	B	C
D	C	D	C	D	D	C	C
E	C	E	C	E	E	E	H
F	B	F	F	F	B	F	C
G	C	G	F	G	E	G	H
H	C	H	C	H	E	H	H

Routeur E		Routeur F		Routeur G		Routeur H	
Pour	Passer par	Pour	Passer par	Pour	Passer par	Pour	Passer par
A	C	A	B	A	F	A	D
B	C	B	B	B	F	B	D
C	H	C	G	C	E	C	D
D	H	D	B	D	E	D	D
F	G	E	G	E	E	E	E
G	G	G	G	F	F	F	E
H	H	H	G	H	E	G	E

1. Quel parcours doivent suivre des données pour aller du routeur E au routeur G ?
Réponse :
2. Quel parcours doivent suivre des données pour aller du routeur E au routeur F ?
Réponse :
3. Quel parcours doivent suivre des données pour aller du routeur A au routeur G ?
Réponse :
4. Quel parcours doivent suivre des données pour aller du routeur F au routeur C ?
Réponse :

6. Un peu de cryptographie

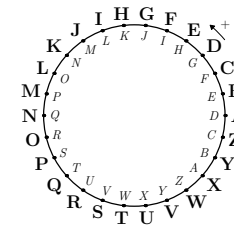
1) Vocabulaire de base

- L'action de transformer un texte compréhensible par tous en un autre incompréhensible (sauf pour le destinataire autorisé) s'appelle
- L'action inverse permettant au destinataire autorisé de reconstituer le texte original s'appelle
- L'action consistant par une personne non autorisée à retrouver le texte original s'appelle

2) Le chiffre de César

Une des premières méthodes pour chiffrer a consisté à remplacer les caractères du texte par d'autres dans le même alphabet (.....

Le principe général de la méthode utilisée par Jules César consiste à remplacer chaque lettre par la lettre située à un certain rang fixe plus loin dans l'alphabet. Pour un décalage de 3 rangs (utilisé historiquement par Jules César), la situation peut se représenter selon le schéma circulaire suivant (à l'extérieur se trouve la lettre d'origine et à l'intérieur la lettre de substitution) :



► Exercice n°107

DWWDTXHDPLGL est le texte chiffré par la méthode de César avec un décalage de 3 rangs. Quel était le texte original ?

Réponse :

► Exercice n°108

1. Pour un alphabet ne comportant que les lettres en majuscule de A à Z, combien de décalage sont possibles avec la méthode de chiffrement de César ?

Réponse :

2. YLUMVYAZCPLUKYVUAKLTHPU est un message chiffré par la méthode de César avec un décalage inconnu. Quel était le texte original ?

Réponse :

► Codage en python possible pour le (dé)chiffrement de César :

```

Script python
def chiffrer(message_en_clair,cle):
    message_chiffre=""
    for i in range(len(message_en_clair)):
        message_chiffre+=chr((ord(message_en_clair[i])-65+cle)%26+65)
    return message_chiffre

def dechiffrer(message_chiffre,cle):
    message_dechiffre=""
    for i in range(len(message_chiffre)):
        message_dechiffre+=chr((ord(message_chiffre[i])-65-cle)%26+65)
    return message_dechiffre

```

3) Le chiffre de Vigenère

La méthode de chiffrement de Vigenère est aussi un chiffrement par substitution mais avec un décalage non fixe.

Principe :

- Le chiffre de Vigenère utilise un mot clé que l'on répète (en dessous du texte à chiffrer) autant de fois que nécessaire afin d'avoir la même longueur que le message à chiffrer. Exemple avec comme message LEMESSAGEACRYPTER et comme clef MACLEF :
LEMESSAGEACRYPTER
MACLEFMACLEFMACLE
- La lettre du mot clé figurant dans la deuxième ligne indique le décalage à apporter à la lettre du message située au dessus. Exemple :
— Si la lettre de la clef est un A, on ne décale pas la lettre correspondante du message ;
— Si la lettre de la clef est un B, on décale d'un rang dans l'alphabet la lettre correspondante du message : ainsi un A dans le message devient un B, un B devient un C, etc...
— Si la lettre de la clef est un C, on décale de 2 rangs dans l'alphabet la lettre correspondante du message : ainsi un A dans le message devient un C, un B devient un D, etc...
— etc...
- Avec notre exemple : la première lettre du message est un L ; la lettre correspondante de la clef est un M qui représente un décalage de 12. La première lettre du message crypté est donc un X (12 lettres plus loin que L dans l'alphabet).

► Exercice n°109

On reprend l'exemple précédent :

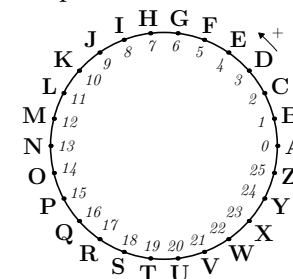
LEMESSAGEACRYPTER
MACLEFMACLEFMACLE

Les 10 premières lettres du message crypté sont XEOPWXMGGGL.

Donner les sept dernières lettres (correspondantes à CRYPTER) :

Réponse :

On pourra s'aider de l'alphabet en cercle ci-dessous :



► Exercice n°110

Pour le déchiffrement dans le procédé de Vigenère, on applique le même principe que pour le chiffrement sauf que le décalage pour le déchiffrement est égal à 26 moins le décalage pour le chiffrement, ce qui revient à tourner dans le sens contraire sur le cercle de l'exercice précédent.

Ci-dessous figure un message crypté avec toujours comme clef MACLEF :

DDXLQNP I
MACLEFMA

Déchiffrer le message. Réponse :

► Codage en python possible pour le (dé)chiffrement de Vigenère :

```

Script python
def chiffrer(message_en_clair,cle):
    message_chiffre=""
    for i in range(len(message_en_clair)):
        decalage=ord(cle[i%len(cle)])-65
        message_chiffre+=chr((ord(message_en_clair[i])-65+decalage)%26+65)
    return message_chiffre

def dechiffrer(message_chiffre,cle):
    message_dechiffre=""
    for i in range(len(message_chiffre)):
        decalage=26-(ord(cle[i%len(cle)])-65)
        message_dechiffre+=chr((ord(message_chiffre[i])-65+decalage)%26+65)
    return message_dechiffre

```

7. Graphes probabilistes

► **Exemple :** Dans un jeu vidéo, une suite d'énigmes est proposée au joueur. Ces énigmes sont classées en deux catégories : les énigmes de catégorie A sont les énigmes faciles ; les énigmes de catégorie B sont les énigmes difficiles.

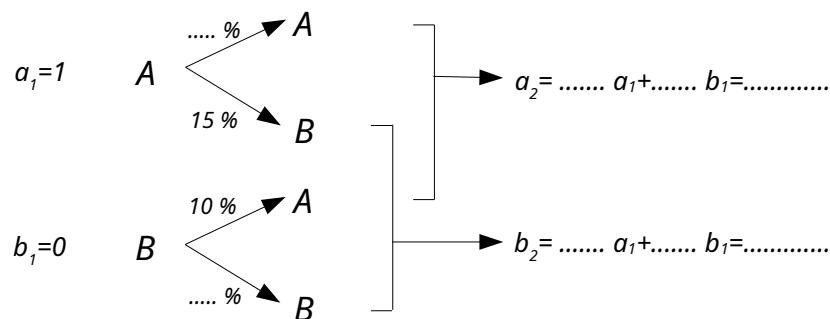
Le choix des énigmes successives est aléatoire et vérifie les conditions suivantes :

- la première énigme est facile ;
- si une énigme est facile, il y a 15% de chances que la suivante soit difficile ;
- si une énigme est difficile, il y a 10% de chances que la suivante soit facile.

Pour tout entier $n \geq 1$, on note :

- a_n la probabilité que l'énigme numéro n soit facile (de catégorie A) ;
- b_n la probabilité que l'énigme numéro n soit difficile (de catégorie B) ;
- P_n la matrice ligne, appelée état probabiliste pour l'énigme numéro n , définie par $P_n = (a_n \quad b_n)$.

1. Compléter le schéma ci-dessous et indiquer la valeur de P_2 :



$$P_1 = (1 \ 0)$$

$$P_2 = (\dots \dots)$$

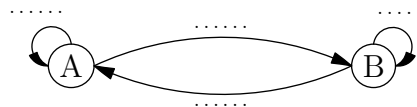
2. En déduire les coefficients à inclure dans la matrice ci-dessous pour que le calcul soit correct :

$$(a_2 \ b_2) = (a_1 \ b_1) \begin{pmatrix} \dots & \dots \\ \dots & \dots \end{pmatrix}.$$

3. Le mécanisme étant le même d'une énigme sur l'autre, pour avoir l'état probabiliste pour l'énigme numéro 3, il suffit de remultiplier par la même matrice. Compléter le calcul ci-dessous :

$$(a_3 \ b_3) = (a_2 \ b_2) \begin{pmatrix} \dots & \dots \\ \dots & \dots \end{pmatrix} = (\dots \dots) \begin{pmatrix} \dots & \dots \\ \dots & \dots \end{pmatrix} = (\dots \dots)$$

4. Dans le graphe ci-dessous, les sommets représentent les catégories A (faciles) et B (difficile) des énigmes. Indiquer sur les arêtes les probabilités de passer de la catégorie du sommet de départ à celle du sommet d'arrivée.



Note : un tel graphe est appelé

5. Compléter la matrice M ci-dessous en insérant les probabilités de passer de la catégorie de la ligne à celle de la colonne :

$$M = \begin{matrix} & \begin{matrix} A & B \end{matrix} \\ \begin{matrix} A \\ B \end{matrix} & \begin{bmatrix} \dots & \dots \\ \dots & \dots \end{bmatrix} \end{matrix} \begin{matrix} A \\ B \end{matrix}$$

Que retrouve-t-on?

Remarques :

- cette matrice est appelée
- On a donc $P_2 = P_1 M$, $P_3 = P_2 M = \dots$

6. Si la matrice de transition M n'admet aucun coefficient nul, la probabilité a_n se rapproche de plus en plus d'une valeur a telle que $(a \ 1-a) = (a \ 1-a)M$. On peut donc savoir vers quelles valeurs les probabilités vont se stabiliser au bout de plusieurs étapes et la matrice $P = (a \ 1-a)$ est appelée

Déterminer ci-dessous la valeur de a vers laquelle tend la probabilité a_n que l'énigme soit facile :

$$(a \ 1-a) = (a \ 1-a) \begin{pmatrix} \dots & \dots \\ \dots & \dots \end{pmatrix} \Rightarrow a = \dots$$

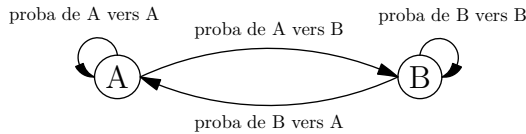
Une revue spécialisée dans les jeux vidéo indique qu'en évoluant dans le jeu, la part des énigmes difficiles devient majoritaire. La revue a-t-elle raison?

Vocabulaire

- On appelle **graphe probabiliste**, tout graphe orienté pondéré tel que la somme des poids des arêtes issues de chaque sommet soit égale à 1.
- La **matrice de transition** M d'un graphe probabiliste à n sommets est une matrice carrée de n lignes et de n colonnes où le terme situé à la $i^{\text{ème}}$ ligne et à la $j^{\text{ème}}$ colonne est égal au poids de l'arête orientée allant du sommet i au sommet j si elle existe et à 0 si elle n'existe pas. (*ne pas confondre avec la matrice associée*)

Cas des graphes probabilistes à 2 sommets

• Étant donné une entité ne connaissant que deux états possibles A et B et pouvant passer aléatoirement d'un état à l'autre selon des probabilités connues. On peut modéliser la situation avec un graphe probabiliste où les deux sommets représentent les deux états possibles et où le poids d'une arête représente la probabilité de passage d'un état à un autre :



• Si on note

- M la matrice de transition du graphe probabiliste ;
- a_n la probabilité d'être à l'état A à l'étape numéro n ;
- b_n la probabilité d'être à l'état B à l'étape numéro n ;
- P_n la matrice ligne, appelée état probabiliste à l'étape numéro n , définie par $P_n = (a_n \quad b_n)$.

On a $P_2 = P_1 M$, $P_3 = P_2 M$, etc.

• Si la matrice de transition M n'admet aucun coefficient nul, la probabilité a_n se rapproche de plus en plus d'une valeur a telle que $(a \quad 1-a) = (a \quad 1-a)M$. La matrice $P = (a \quad 1-a)$ est alors appelée l'état stable associé à la situation.

► Exercice n°111

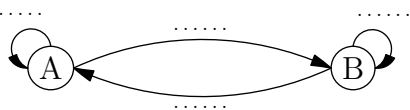
Une étude statistique d'une société de commerce en ligne indique que :

- Si un client effectue une commande une semaine, il y a 50% de chances qu'il en refasse une semaine suivante ;
- Si un client n'effectue pas de commande une semaine, il y a 60% de chances qu'il n'en fasse pas non plus la semaine suivante.

Pour tout entier $n \geq 1$, on note :

- a_n la probabilité qu'un client effectue une commande la semaine numéro n (état A) ;
- b_n la probabilité qu'un client n'effectue pas de commande la semaine numéro n (état B) ;
- $P_n = (a_n \quad b_n)$, l'état probabiliste pour la semaine numéro n .

1. Compléter le graphe probabiliste ci-dessous correspondant à la situation :



2. Indiquer ci-dessous la matrice de transition du graphe :

$$M = \begin{pmatrix} \dots & \dots \\ \dots & \dots \end{pmatrix}$$

3. On suppose qu'un client passe une commande la semaine numéro 1 : on a donc $P_1 = (1 \ 0)$.

Calculer ci-dessous P_2 et P_3 :

$$P_2 = P_1 M = (1 \ 0) \begin{pmatrix} \dots & \dots \\ \dots & \dots \end{pmatrix} = (\dots \ \dots)$$

$$P_3 = P_2 M = (\dots \ \dots) \begin{pmatrix} \dots & \dots \\ \dots & \dots \end{pmatrix} = (\dots \ \dots)$$

4. Déterminer ci-dessous l'état stable $P = (a \quad 1-a)$ associé à la situation :

$$(a \quad 1-a) = (a \quad 1-a) \begin{pmatrix} \dots & \dots \\ \dots & \dots \end{pmatrix} \Rightarrow a = \dots$$

.....

► Exercice n°112

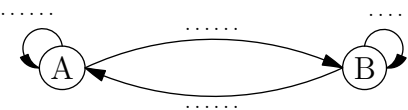
Une étude de qualité sur des serveurs indique que :

- Si un serveur à un taux de satisfaction des requêtes de 100% un jour, il y a 20% de chances que ce taux ne soit pas de 100% le lendemain ;
- Si un serveur n'a pas satisfait à 100% des requêtes un jour, il y a 40% de chances qu'il y satisfasse le lendemain.

Pour tout entier $n \geq 1$, on note :

- a_n la probabilité que le serveur réponde à 100% des requêtes le jour numéro n (état A) ;
- b_n la probabilité que le serveur ne réponde pas à 100% des requêtes le jour numéro n (état B) ;
- $P_n = (a_n \quad b_n)$, l'état probabiliste pour le jour numéro n .

1. Compléter le graphe probabiliste ci-dessous correspondant à la situation :



2. Indiquer ci-dessous la matrice de transition du graphe :

$$M = \begin{pmatrix} \dots & \dots \\ \dots & \dots \end{pmatrix}$$

3. On suppose qu'un serveur n'a pas satisfait à 100% des requêtes le jour numéro 1 : on a donc $P_1 = (0 \ 1)$.

Calculer ci-dessous P_2 et P_3 :

$$P_2 = P_1 M = (0 \ 1) \begin{pmatrix} \dots & \dots \\ \dots & \dots \end{pmatrix} = (\dots)$$

$$P_3 = P_2 M = (\dots) \begin{pmatrix} \dots & \dots \\ \dots & \dots \end{pmatrix} = (\dots)$$

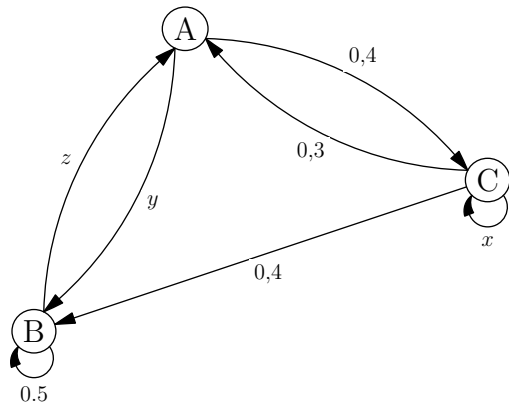
4. Déterminer ci-dessous l'état stable $P = (a \ 1 - a)$ associé à la situation :

$$(a \ 1 - a) = (a \ 1 - a) \begin{pmatrix} \dots & \dots \\ \dots & \dots \end{pmatrix} \Rightarrow a = \dots$$

.....

► **Exercice n°113**

1. Déterminer les valeurs de x , y et z pour que le graphe ci-dessous soit un graphe probabiliste.



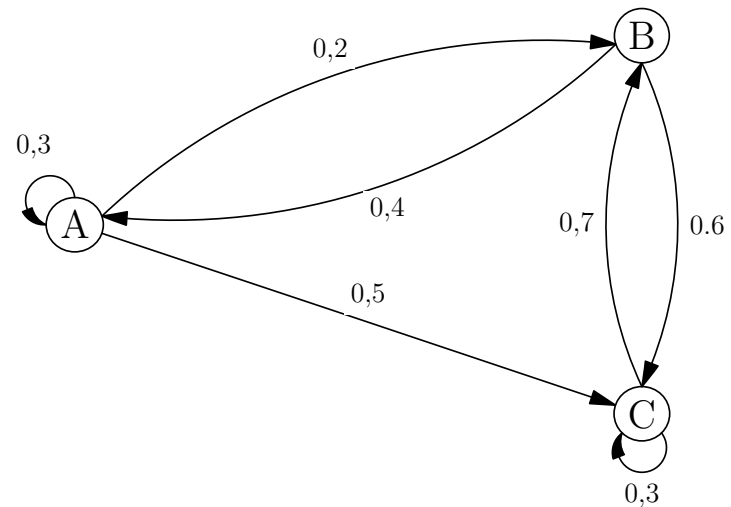
.....

2. Déterminer la matrice de transition du graphe.

$$M = \begin{pmatrix} \dots & \dots & \dots \\ \dots & \dots & \dots \\ \dots & \dots & \dots \end{pmatrix}$$

► **Exercice n°114**

On considère le graphe ci-dessous :



1. Justifier qu'il s'agit d'un graphe probabiliste :

Somme des poids des arêtes issues de A :

Somme des poids des arêtes issues de B :

Somme des poids des arêtes issues de C :

2. Déterminer la matrice de transition du graphe.

$$M = \begin{pmatrix} \dots & \dots & \dots \\ \dots & \dots & \dots \\ \dots & \dots & \dots \end{pmatrix}$$

3. On suppose que l'état probabiliste initial est $P_1 = (1 \ 0 \ 0)$. Calculer les états probabilistes P_2 et P_3 .

$$P_2 = P_1 M = (1 \ 0 \ 0) \begin{pmatrix} \dots & \dots & \dots \\ \dots & \dots & \dots \\ \dots & \dots & \dots \end{pmatrix} = (\dots)$$

$$P_3 = P_2 M = (\dots) \begin{pmatrix} \dots & \dots & \dots \\ \dots & \dots & \dots \\ \dots & \dots & \dots \end{pmatrix} = (\dots)$$

► **Exercice n°115**

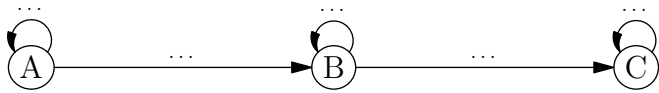
Une société d'autoroute étudie l'évolution de l'état de ses automates de péage en l'absence de maintenance. Un automate peut se trouver dans l'un des états suivants :

- fonctionnel (état A);
- en sursis (état B) s'il fonctionne encore, mais montre des signes de faiblesse;
- défaillant (état C) s'il ne fonctionne plus.

La société a observé que d'un jour sur l'autre :

- concernant les automates fonctionnels, 90 % le restent et 10 % deviennent en sursis;
- concernant les automates en sursis, 80 % le restent et 20 % deviennent défaillants.

1. Compléter le graphe probabiliste ci-dessous correspondant à la situation :



2. Indiquer ci-dessous la matrice de transition du graphe :

$$M = \begin{pmatrix} \dots & \dots & \dots \\ \dots & \dots & \dots \\ \dots & \dots & \dots \end{pmatrix}$$

3. la société observe qu'au début de l'expérience tous ses automates sont fonctionnels : on a donc $P_1 = (1 \ 0 \ 0)$. Calculer les états probabilistes P_2 et P_3 .

$$P_2 = P_1 M = (1 \ 0 \ 0) \begin{pmatrix} \dots & \dots & \dots \\ \dots & \dots & \dots \\ \dots & \dots & \dots \end{pmatrix} = (\dots \dots \dots)$$

$$P_3 = P_2 M = (\dots \dots \dots) \begin{pmatrix} \dots & \dots & \dots \\ \dots & \dots & \dots \\ \dots & \dots & \dots \end{pmatrix} = (\dots \dots \dots)$$

4. Soit $P = (0 \ 0 \ 1)$. Calculer PM ci-dessous :

$$PM = (0 \ 0 \ 1) \begin{pmatrix} \dots & \dots & \dots \\ \dots & \dots & \dots \\ \dots & \dots & \dots \end{pmatrix} = (\dots \dots \dots)$$

Que peut-on en conclure (on admettra que P est l'unique état stable) :

Réponse :

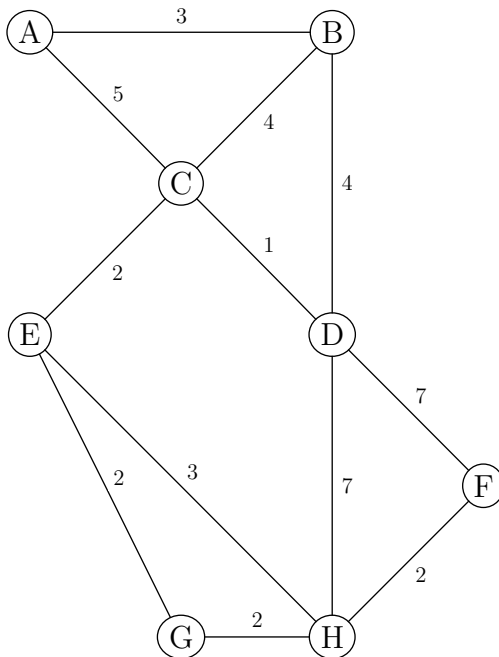
8. Les métiers du numérique

Famille de métiers	Intitulé des métiers
	Développeur Ingénieur étude et développement Architecte logiciel
	Administrateur de base de données Data analyst Data scientist
	Technicien Cloud et réseaux Ingénieur Cloud et réseaux Architecte Cloud et réseaux / Urbaniste
	Technicien de maintenance, support et services aux utilisateurs en informatique
	Web designer Designer d'expérience et d'interface Ergonome Directeur artistique Showrunner / story architect / Transmedia producer
	Manager de projet / d'équipe Responsable de la stratégie / de la prospective Chargé de relations avec l'écosystème Coach agile, product owner Business analyst Directeur des systèmes d'information Responsable sécurité des système d'information
	Community manager Social Media Manager Marketeur digital Chargé de référencement Analyste de trafic
	Responsable cybersécurité Consultant/expert métier Expert en protection des données Expert en propriété intellectuelle

(Source : groupe de travail VPPEC numérique 2017)

► **Exercice n°116**

On considère le graphe ci-dessous :



1. À l'aide du tableau ci-dessous, appliquer l'algorithme de coloration vu en cours :

Sommet									
Degré									
Couleur									

2. À l'aide de l'algorithme de Dijkstra, détermine la plus courte chaîne allant de A à F :

- Étape 1 : sélection de A

- Étape 2 :

- Étape 3 :

- Étape 4 :

- Étape 5 :

- Étape 6 :

- Étape 7 :

- Étape 8 :

- Plus courte chaîne :

3. On appelle M la matrice associée au graphe (les sommets étant pris dans l'ordre alphabétique). On donne la matrice M^3 :

$$M^3 = \begin{pmatrix} 2 & 5 & 6 & 2 & 1 & 2 & 1 & 3 \\ 5 & 4 & 6 & 7 & 3 & 2 & 2 & 3 \\ 6 & 6 & 4 & 9 & 7 & 3 & 2 & 3 \\ 2 & 7 & 9 & 4 & 3 & 5 & 3 & 8 \\ 1 & 3 & 7 & 3 & 2 & 3 & 4 & 7 \\ 2 & 2 & 3 & 5 & 3 & 2 & 2 & 5 \\ 1 & 2 & 2 & 3 & 4 & 2 & 2 & 5 \\ 3 & 3 & 3 & 8 & 7 & 5 & 5 & 4 \end{pmatrix}$$

Combien existe-t-il de chemins de longueur 3 reliant B à H?

Préciser ces chemins :

► **Exercice n°117**

Indiquer ce que va afficher chacun des scripts python suivants :

- Script 1 : ; Script 2 :
- Script 3 : ; Script 4 :

Script 1	Script 2
<pre>nombre=0 for i in range(1,11): nombre=nombre+1 print(nombre)</pre>	<pre>nombre=0 for i in range(1,11): if i>5: nombre=nombre+1 print(nombre)</pre>
Script 3	Script 4
<pre>nombre=0 for i in range(1,11): if nombre>5: nombre=nombre+1 print(nombre)</pre>	<pre>nombre=0 for i in range(1,11): if nombre<5: nombre=nombre+1 print(nombre)</pre>

► **Exercice n°118**

Indiquer ce que va afficher chacun des scripts python suivants :

- Script 1 : ; Script 2 :
- Script 3 : ; Script 4 :

Script 1	Script 2
<pre>for i in range(1,5): print(2*i)</pre>	<pre>for i in range(1,6): print(i*i)</pre>
Script 3	Script 4
<pre>n=1 for i in range(1,4): n=n+2 print(n)</pre>	<pre>n=1 for i in range(1,4): n=n+2 print(n)</pre>

► **Exercice n°119**

Indiquer ce que va afficher chacun des scripts python suivants :

- Script 1 : ; Script 2 :
- Script 3 : ; Script 4 :

Script 1	Script 2
<pre>n=43 while n>=10: n=n-10 print(n)</pre>	<pre>n=43 while n>=10: n=n-10 print(n)</pre>
Script 3	Script 4
<pre>n=1 while n<20: n=n*4 print(n)</pre>	<pre>n=1 while n<20: print(n) n=n*4</pre>

► **Exercice n°120**

- Le format EXIF est ?

A : un format de fichiers images
B : un format de fichiers sons
C : un format pour les méta-données de fichiers images
D : un format pour les méta-données de fichiers sons
- CSS représente ?

A : un protocole sécurisé d'accès à internet
B : un format de fichiers textes permettant de traiter les données structurées
C : un format servant à définir le style des pages web
- Quelles sont les technologies ci-dessous qui ne sont pas filaires ?

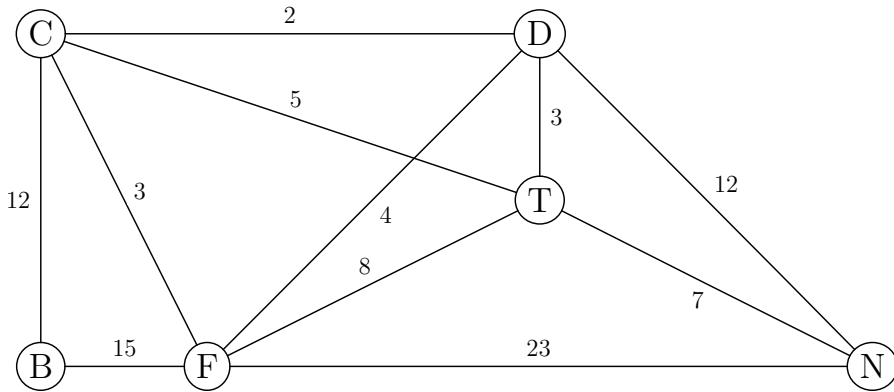
A : Wi-Fi
B : fibre optique
C : Bluetooth
D : 5G
- L'adresse IP correspond à ?

A : une adresse de géolocalisation
B : un identifiant réseau attribué à une machine quand elle se connecte
C : un identifiant physique fixe propre à chaque carte ou interface réseau
- Internet représente ?

A : une infrastructure qui relie les réseaux informatiques
B : un langage utilisé pour créer des pages web
C : la même chose que le web

► **Exercice n°121**

On considère le graphe ci-dessous :



1. Donner une chaîne passant par tous les sommets et empruntant une fois et une fois seulement chaque arête.

.....

2. À l'aide du tableau ci-dessous, appliquer l'algorithme de coloration vu en cours :

Sommet						
Degré						
Couleur						

3. À de l'algorithme de Dijkstra, détermine la plus courte chaîne allant de B à N :

- Étape 1 : sélection de B
- Étape 2 :
- Étape 3 :
- Étape 4 :
- Étape 5 :
- Étape 6 :
- Plus courte chaîne :

► **Exercice n°122**

Compléter le script python suivant pour qu'il indique si les entiers a, b et c entrés sont rangés dans l'ordre croissant ou non.

```

Script python
a=int(input("a=?"))
b=int(input("b=?"))
c=int(input("c=?"))
if ..... :
    print("dans l'ordre croissant")
else :
    print("pas dans l'ordre croissant")
    
```

► **Exercice n°123**

Compléter le script python suivant pour qu'il indique lequel des entiers a, b et c entrés (et supposés différents) est le plus grand.

```

Script python
a=int(input("a=?"))
b=int(input("b=?"))
c=int(input("c=?"))
if a>b and a>c:
    print("a est le plus grand")
else:
    if ..... :
        print("b est le plus grand")
    else:
        if ..... :
            print("c est le plus grand")
    
```

► **Exercice n°124**

On considère le script python ci-dessous :

```

Script python
a=int(input("a=?"))
b=int(input("b=?"))
tmp=b
b=a
a=tmp
print("a=",a)
print("b=",b)
    
```

1. Compléter le tableau suivant si on entre 1 comme valeur pour a et 5 comme valeur pour b :

Valeurs de a, b et tmp	a=1	b=5	tmp
après exécution de la 3 ^e ligne			
après exécution de la 4 ^e ligne			
après exécution de la 5 ^e ligne			

2. Compléter le tableau suivant si on entre 5 comme valeur pour a et 1 comme valeur pour b :

Valeurs de a, b et tmp	a=5	b=1	tmp
après exécution de la 3 ^e ligne			
après exécution de la 4 ^e ligne			
après exécution de la 5 ^e ligne			

3. Que fait ce script?

► **Exercice n°125**

On considère le script python ci-dessous dans lequel on a défini une fonction qui échange la valeur de 2 variables selon le principe vu à l'exercice précédent :

```

Script python
def echange(nombre1, nombre2):
    tmp=nombre2
    nombre2=nombre1
    nombre1=tmp
    return (nombre1, nombre2)

a=int(input("a=?"))
b=int(input("b=?"))
c=int(input("c=?"))
if a>b:
    (a,b)=echange(a,b)
if a>c:
    (a,c)=echange(a,c)
if b>c:
    (b,c)=echange(b,c)
print("a=",a)
print("b=",b)
print("c=",c)

```

1. Compléter le tableau suivant si on entre 3 comme valeur pour a, 2 comme valeur pour b et 1 comme valeur pour c :

Valeurs de a, b et c	a=3	b=2	c=1
après le bloc if a>b:			
après le bloc if a>c:			
après le bloc if b>c:			

2. Compléter le tableau suivant si on entre 2 comme valeur pour a, 3 comme valeur pour b et 1 comme valeur pour c :

Valeurs de a, b et c	a=2	b=3	c=1
après le bloc if a>b:			
après le bloc if a>c:			
après le bloc if b>c:			

3. Compléter le tableau suivant si on entre 1 comme valeur pour a, 3 comme valeur pour b et 2 comme valeur pour c :

Valeurs de a, b et c	a=1	b=3	c=2
après le bloc if a>b:			
après le bloc if a>c:			
après le bloc if b>c:			

4. Que fait ce script?

► **Exercice n°126**

1. Le mode « navigation privée » permet?

A : de rester anonyme sur internet
B : de surfer sur le web sans stocker les cookies et l'historique de navigation
C : de masquer son adresse IP

2. Quels protocoles permettent de lire des mails?

A : http
B : pop
C : imap
D : ftp

3. Les principaux réseaux sociaux se financent grâce ?

A : à la publicité ciblée
B : à des abonnements
C : à des subventions et des dons

4. Quel est le nombre minimal de satellites nécessaire pour géolocaliser un téléphone portable?

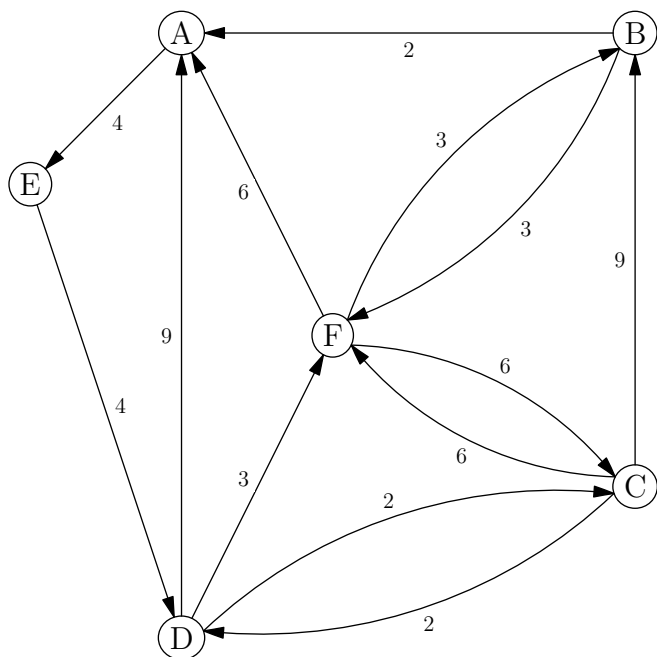
A : 1
B : 2
C : 3

5. Si un téléphone n'est pas connecté à internet

A : sa géolocalisation est impossible
B : sa géolocalisation est possible

► **Exercice n°127**

On considère le graphe ci-dessous :



1. Donner M , la matrice associée au graphe (on convient de l'ordre suivant : A, B, C, D, E et F).

$$M = \begin{matrix} & \begin{matrix} A & B & C & D & E & F \end{matrix} \\ \begin{matrix} A \\ B \\ C \\ D \\ E \\ F \end{matrix} & \begin{bmatrix} \cdot & \cdot & \cdot & \cdot & \cdot & \cdot \\ \cdot & \cdot & \cdot & \cdot & \cdot & \cdot \\ \cdot & \cdot & \cdot & \cdot & \cdot & \cdot \\ \cdot & \cdot & \cdot & \cdot & \cdot & \cdot \\ \cdot & \cdot & \cdot & \cdot & \cdot & \cdot \\ \cdot & \cdot & \cdot & \cdot & \cdot & \cdot \end{bmatrix} \end{matrix}$$

2. On donne la première ligne de la matrice M^6 : $(8 \quad 6 \quad 6 \quad 3 \quad 4 \quad 6)$

a) Combien existe-t-il de chemins de longueur 6 reliant A à A?

Citer ces chemins :

.....

b) Parmi ces chemins, préciser les trois qui passent par tous les sommets du graphe.

c) Parmi ces trois chemins reliant A à A et qui passent par tous les sommets du graphe, préciser celui qui a le poids minimal.

3. À de l'algorithme de Dijkstra, détermine la plus courte chaîne allant de C à A :

- Étape 1 : sélection de C
- Étape 2 :
- Étape 3 :
- Étape 4 :
- Étape 5 :
- Étape 6 :
- Plus courte chaîne :

► **Exercice n°128**

On considère les scripts ci-dessous :

Script 1	Script 2
<pre>somme=0 for i in range(1,21): somme=somme+i print(somme)</pre>	<pre>produit=1 for i in range(.....): produit=..... print(produit)</pre>

1. Que va afficher le script 1 ?

A : 20
B : 21
C : le résultat de la somme $1 + 2 + 3 + \dots + 19 + 20$
D : le résultat de la somme $1 + 2 + 3 + \dots + 19 + 20 + 21$

2. Compléter le script 2 pour qu'il affiche le résultat du produit $1 \times 2 \times 3 \times \dots \times 19 \times 20$.

► **Exercice n°129**

Le PIB d'un pays émergent était de 700 milliards d'euros en 2020. Selon un modèle de prévision, il devrait augmenter de 10% par an dans les années futures. Compléter le script python ci-dessous pour qu'il affiche en quelle année le PIB devrait avoir doublé de valeur par rapport à 2020.

```

Script python
annee=2020
PIB=700
while ..... :
    PIB=.....
    annee=annee+1
print(annee)
    
```

► **Exercice n°130**

Soit f la fonction définie sur $[0; +\infty[$ par $f(x) = x + \sqrt{x}$. On cherche à créer un script qui permette de compléter automatiquement le tableau de valeurs suivant :

x	0	0,5	1	1,5	2	2,5	3	3,5	4	4,5	5
$f(x)$											

Pour cela, on utilise le principe suivant : pour chaque valeur de x , on calcule la valeur correspondante de $f(x)$ et on augmente la valeur de x de 0,5 **tant que** la fin du tableau n'est pas atteinte.

Compléter le script python ci-dessous pour qu'il réponde au problème :

```

Script python
from math import *
x=0
while x.....:
    print("f(",x,")=",x+sqrt(x))
    x=.....
    
```

► **Exercice n°131**

1. Sans puce GPS

- A : un téléphone ne peut pas être localisé
- B : un téléphone peut quand même être localisé

2. Galileo est

- A : le nom d'un scientifique célèbre
- B : un système de géolocalisation par satellites
- C : le nom d'un fabricant de satellites

3. Le « cloud » représente ?

- A : un système fournissant de l'espace de stockage sur de serveurs
- B : un réseau social
- C : la même chose que le web

4. Une métadonnée représente ?

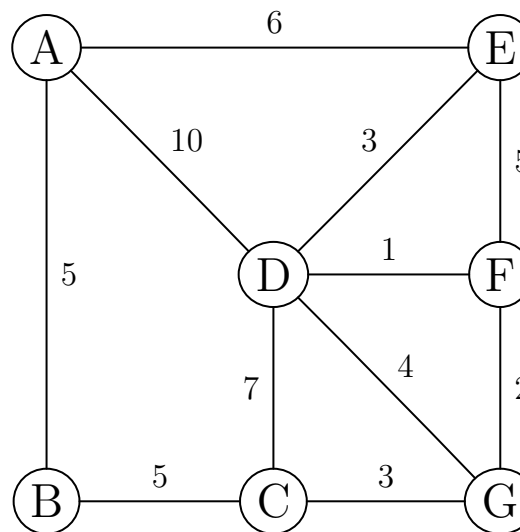
- A : un donnée très lourde
- B : des informations qui donnent des détails sur des données textes, images, sons...
- C : les données collectées par l'entreprise Meta

5. Un objet connecté représente ?

- A : un appareil branché sur une prise électrique
- B : un appareil relié à internet
- C : un appareil relié par une liaison bluetooth à un autre

► **Exercice n°132**

Dans le graphe ci-dessous, les sommets représentent les 7 zones d'un jeu vidéo et les nombres sur les arêtes représentent le nombre d'obstacles à franchir pour parvenir d'une zone à une autre.



1. Deux zones reliées entre elles par une arête doivent avoir un thème musical différent. Déterminer, à l'aide de l'algorithme de coloration du cours, une répartition possible des thèmes musicaux :

Sommet							
Degré							
Couleur							

2. À de l'algorithme de Dijkstra, détermine le parcours permettant d'aller de A à G avec un minimum d'obstacles à franchir :

- Étape 1 : sélection de A
- Étape 2 :
- Étape 3 :
- Étape 4 :
- Étape 5 :
- Étape 6 :
- Étape 7 :
- Parcours :

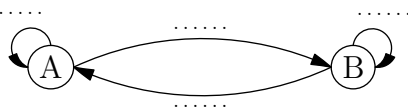
3. Une étude statistique de l'éditeur du jeu indique que :

- Si un joueur effectue une partie un jour, il y a 70% de chances qu'il en refasse une le jour suivant ;
- Si un client n'effectue pas de partie un jour, il y a 80% de chances qu'il n'en fasse pas une non plus le jour suivant.

Pour tout entier $n \geq 1$, on note :

- a_n la probabilité qu'un joueur effectue une partie le jour n (état A);
- b_n la probabilité qu'un client n'effectue pas de partie le jour numéro n (état B);
- $P_n = (a_n \quad b_n)$, l'état probabiliste pour le jour numéro n .

a) Compléter le graphe probabiliste ci-dessous correspondant à la situation :



b) Indiquer ci-dessous la matrice de transition du graphe :

$$M = \begin{pmatrix} \dots & \dots \\ \dots & \dots \end{pmatrix}$$

c) On suppose qu'un joueur effectue une partie le jour numéro 1 : on a donc $P_1 = (1 \ 0)$.

Calculer ci-dessous P_2 et P_3 :

$$P_2 = P_1 M = (1 \ 0) \begin{pmatrix} \dots & \dots \\ \dots & \dots \end{pmatrix} = (\dots \dots)$$

$$P_3 = P_2 M = (\dots \dots) \begin{pmatrix} \dots & \dots \\ \dots & \dots \end{pmatrix} = (\dots \dots)$$

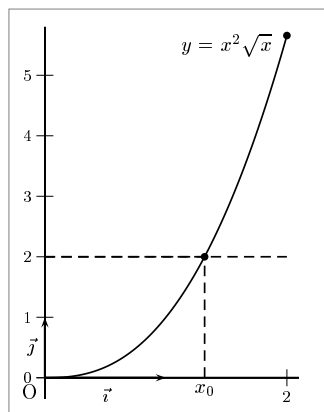
d) Déterminer ci-dessous l'état stable $P = (a \quad 1 - a)$ associé à la situation :

$$(a \quad 1 - a) = (a \quad 1 - a) \begin{pmatrix} \dots & \dots \\ \dots & \dots \end{pmatrix} \Rightarrow a = \dots \dots \dots$$

.....

► Exercice n°133

On considère la fonction f définie sur $[0; 2]$ par $f(x) = x^2\sqrt{x}$ dont la courbe est donnée ci-dessous :



On cherche à déterminer une valeur approchée du réel x_0 tel que $f(x_0) = 2$.

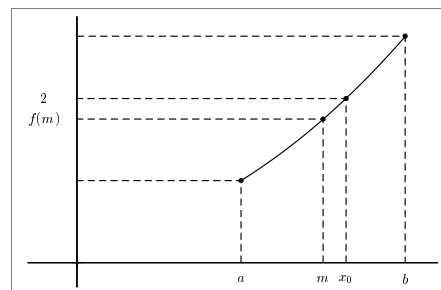
On admet que f est strictement croissante sur $[0; 2]$ et que sa courbe ne contient pas de « trous ».

Comme $f(0) = 0$ et $f(2) = 4\sqrt{2} > 2$, on sait que $x_0 \in [0; 2]$.

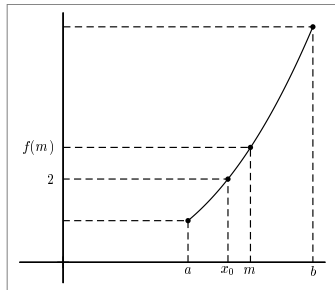
Pour déterminer une valeur approchée de x_0 , on utilise la méthode dite de la « dichotomie » dont le principe consiste à couper l'intervalle en deux et à regarder de quel côté se situe la solution par rapport au milieu de l'intervalle.

1. Étant donné un intervalle $[a; b]$ de milieu m et contenant x_0 (avec $a \geq 0$ et $b \leq 2$).

- Si $f(m) < 2$, dans quel intervalle se situe x_0 ?



- Si $f(m) > 2$, dans quel intervalle se situe x_0 ?



2. Compléter le tableau suivant :

Étape	Intervalle de départ $[a;b]$	milieu m	$f(m) < 2$?	Nouvel intervalle $[a;b]$
1	$a = 0 ; b = 2$	$m = 1$	OUI	$a = ; b =$
2	$a = ; b =$	$m =$		$a = ; b =$
3	$a = ; b =$	$m =$		$a = ; b =$
4	$a = ; b =$	$m =$		$a = ; b =$

3. On cherche à automatiser les calculs grâce à un algorithme. Compléter le script python ci-dessous pour qu'il réponde au problème.

```

Script python
from math import *
a=0
b=2
for etape in range(1,5) :
    m=(a+b)/2
    if (m*m*sqrt(m)<2):
        .....=m
    else :
        .....=m
print(a,"<x0<",b)

```

► Exercice n°134

1. Un octet représente ?

A : 2 bits
B : 8 bits
C : 16 bits

2. Un Gio représente ?

A : le même nombre d'octets qu'un Go
B : un nombre d'octets plus grand qu'un Go
C : un nombre d'octets plus petit qu'un Go

3. Toutes les images numériques sont-elles définies par des pixels ?

A : OUI
B : NON

4. L'encodage utf-8 permet-il de coder plus de caractères que l'ASCII ?

A : OUI
B : NON

5. Selon la réglementation européenne, un numéro de téléphone

A : est toujours une donnée personnelle
B : n'est plus une donnée personnelle si il est donné volontairement
C : n'est pas une donnée personnelle

6. Un routeur permet de connecter ?

A : une montre connectée à un smartphone
B : un smartphone à un ordinateur
C : un ordinateur à internet

► Exercice n°135

Un jeu consiste à lancer deux dés, un rouge et un noir. On gagne 2 euros si la somme des points est supérieure ou égale à 9, rien si la somme des points est inférieure ou égale à 4 et on perd 1 euro dans les autres cas.

On cherche à établir un algorithme simulant 100 000 participations à ce jeu et donnant le gain moyen obtenu. Compléter le script python ci-dessous pour qu'il réponde au problème :

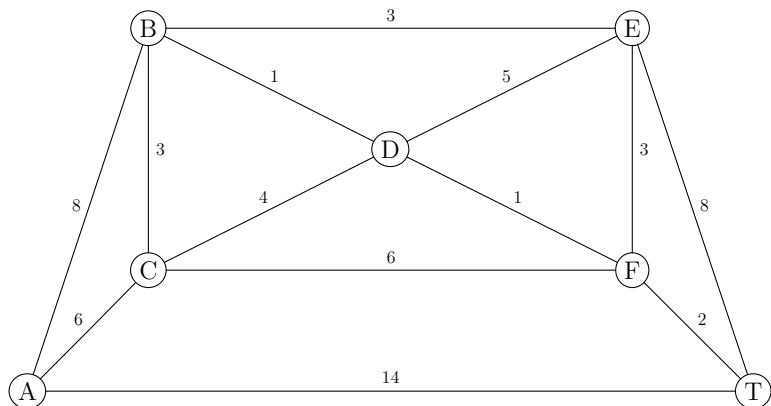
```

Script python
from random import *
gains=0
for i in range(1,100001) :
    somme_points=randint(1,6)+randint(1,6)
    if somme_points>=9 :
        gains=gains+.....
    if ..... :
        gains=gains-1;
print("gain moyen=",gains/100000)

```

► **Exercice n°136**

On considère la graphe suivant :



1. Déterminer un chemin permettant d'aller du sommet A au sommet T en passant une fois et une fois seulement par chacune des arêtes du graphe :

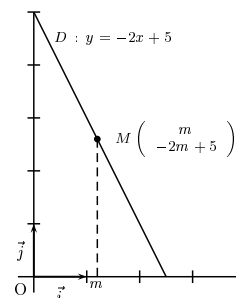
Réponse :

2. À de l'algorithme de Dijkstra, détermine la plus courte chaîne de A à T :

- Étape 1 : sélection de A
- Étape 2 :
- Étape 3 :
- Étape 4 :
- Étape 5 :
- Étape 6 :
- Étape 7 :
- Plus courte chaîne :

► **Exercice n°137**

Dans un repère orthonormé, on considère la droite D d'équation $y = -2x + 5$ et pour tout réel m compris entre 0 et 2.5, on note M le point de la droite D d'abscisse m .



1. Montrer que, pour tout m compris entre 0 et 2.5, la distance OM est égale à $\sqrt{5m^2 - 20m + 25}$.

.....

2. Quelle est la valeur maximale que peut prendre la distance OM quand m varie entre 0 et 2,5?

3. On cherche à déterminer avec un algorithme une valeur approchée de la distance minimale entre les points O et M quand m varie entre 0 et 2,5. Pour cela, on utilise la méthode dite du « balayage » :

Pour chaque valeur de m (en partant de 0) on calcule la distance OM correspondante, on regarde si le minimum a changé et on augmente la valeur de m de 0.01 tant que m n'a pas atteint 2.5.

Compléter le script python ci-dessous pour qu'il réponde au problème :

```

Script python
from math import *
m=0
min=5
while m<=.....:
    distance=sqrt(5*m*m-20*m+25)
    if distance<min:
        .....
    m=m+0.01
print(min)
    
```

► **Exercice n°138**

1. Un serveur DNS sert

A : à stocker de la musique
B : à stocker des mails
C : à convertir le nom d'un site web en adresse IP

2. Un réseau pair-à-pair (ou peer-to-peer) est

A : un réseau réservé aux membres d'une même profession
B : un réseau illégal
C : un réseau où les ordinateurs sont à la fois clients et serveurs

3. Quand un internaute effectue une recherche sur internet

A : des traces de la recherche sont conservées sur des serveurs et peuvent-être utilisées à des fins publicitaires
B : personne ne le sait en dehors de l'internaute

4. Publier la photo d'une personne sur internet

A : est toujours possible
B : nécessite le consentement de la personne
C : es toujours possible si on précise le nom de la personne

5. Quand on publie un message ou un commentaire sur un réseau social

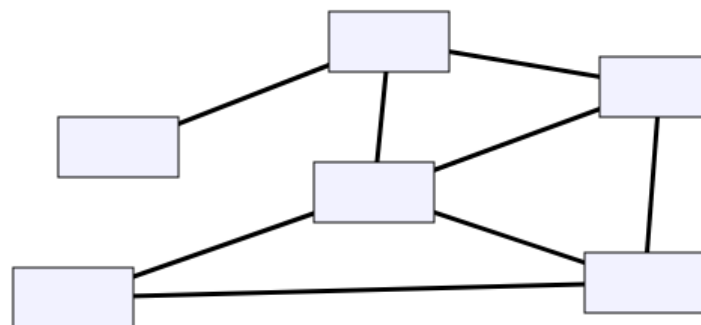
A : on peut toujours dire ce qu'on veut au nom de la liberté d'expression
B : on peut dire ce qu'on veut tant qu'on utilise pas son vrai nom
C : on ne peut pas tenir de propos injurieux, sexistes, homophobes ou racistes quelque soit le nom qu'on utilise

► **Exercice n°139**

On indique ci-dessous qui est ami avec qui dans un groupe de 6 personnes :

- Paul et Léa
- Paul et Marc
- Marc et Bob
- Paul et Bob
- Anna et Léa
- Bob et Julie
- Paul et Julie
- Julie et Léa

Insérer le nom des personnes dans le graphe ci-dessous de façon à qu'une arête relie deux amis :



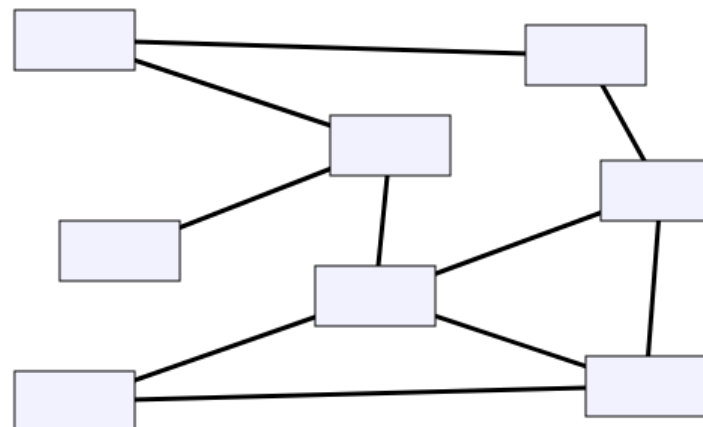
(d'après concours Castor)

► **Exercice n°140**

On indique ci-dessous qui est ami avec qui dans un groupe de 8 personnes :

- Paul et Léa
- Paul et Marc
- Marc et Bob
- Paul et Bob
- Théo et Léa
- Anna et Léa
- Bob et Julie
- Paul et Julie
- Yann et Théo
- Julie et Yann

Insérer le nom des personnes dans le graphe ci-dessous de façon à qu'une arête relie deux amis :



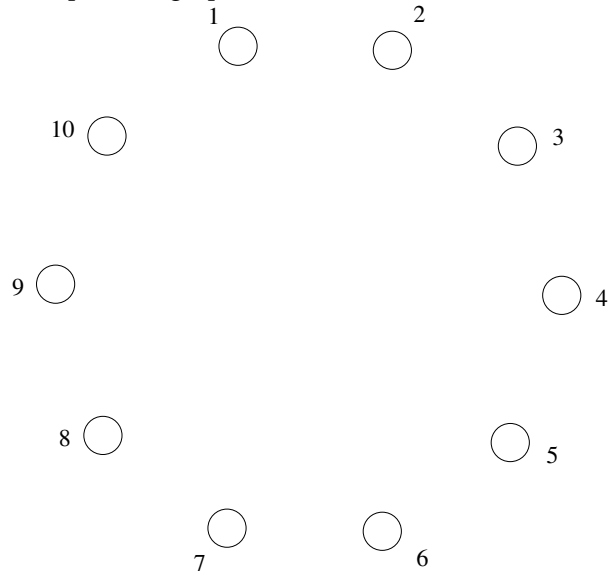
(d'après concours Castor)

► **Exercice n°141**

Les incompatibilités de fréquence entre 10 émetteurs de 4G d'une ville sont résumées dans le tableau suivant (un symbole ★ représente une incompatibilité) :

émetteur	1	2	3	4	5	6	7	8	9	10
1					★	★				★
2			★	★	★			★	★	★
3		★			★	★	★			
4		★			★	★			★	
5	★	★	★	★			★		★	
6	★		★	★			★		★	★
7			★		★	★		★		★
8		★					★			
9		★		★	★	★				★
10	★	★				★	★		★	

1. Compléter le graphe ci-dessous en traçant une arête pour chaque incompatibilité :



2. Expliquer pourquoi il faut au moins 4 fréquences différentes.

.....

3. Appliquer l'algorithme de coloration du cours et proposer une répartition des fréquences répondant au problème.

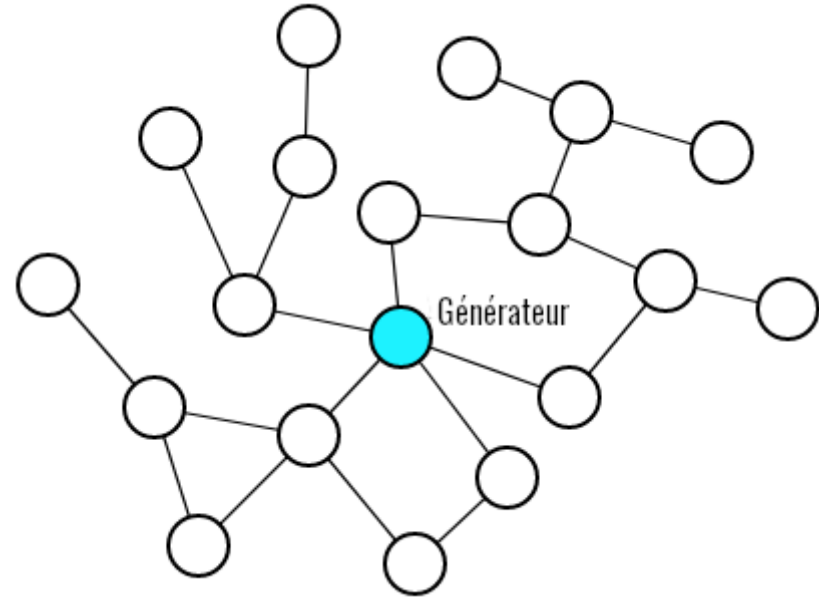
sommet										
degré										
couleur										

.....

► **Exercice n°142**

Les serveurs d'un datacenter sont alimentés par un générateur avec des lignes électriques selon le graphe ci-dessous.

Montrer qu'en ajoutant 3 nouvelles lignes électriques, on peut s'arranger pour que la coupure d'une ligne ne prive pas un serveur de courant.



(d'après concours Castor)

► **Exercice n°143**

Dans un jeu vidéo, trois armes (A,B,C) sont à distribuer à 3 joueurs qui ont indiqué leur arme favorite et leur deuxième choix si leur arme favorite n'est pas disponible. Répartir les trois armes en respectant les règles suivantes :

- le plus de joueurs possibles doivent se voir attribuer leur arme favorite;
- les autres joueurs doivent recevoir leur deuxième choix.

Joueur	Préférences	Arme attribuée
Joueur 1	choix 1 : A ; choix 2 : B	
Joueur 2	choix 1 : B ; choix 2 : C	
Joueur 3	choix 1 : B ; choix 2 : A	

(d'après concours Castor - couplage en théorie des graphes)

► **Exercice n°144**

Trois amies ANNA, BELLA et LENA ont chiffrées leur nom avec le même système de chiffrement où :

- chaque lettre est toujours chiffrée par une même succession de 0 et de 1 ;
- deux lettres sont séparées par le symbole / ;
- ANNA est chiffrée par 01/10/10/01 ;
- BELLA est chiffrée par 1000/0/0100/0100/01 .

Quel est le bon chiffrement de LENA parmi les propositions suivantes :

- Proposition 1 : 0100/0/10/01
- Proposition 2 : 1000/0/10/01
- Proposition 3 : 10/0/10/01
- Proposition 4 : 0100/0/01/10

Réponse :

(d'après concours Castor - encodage - alphabet Morse)

► **Exercice n°145**

Un algorithme élimine un chiffre dans une liste de chiffres si :

- le chiffre directement à sa gauche est plus petit que lui ;
- le chiffre directement à sa droite est plus grand que lui ;

Quel est le résultat de cet algorithme appliqué à la liste de chiffres :

2 8 3 4 5 3 5 6 4 8?

Réponse :

(d'après concours Castor - connecteur logique - tri à bulles)

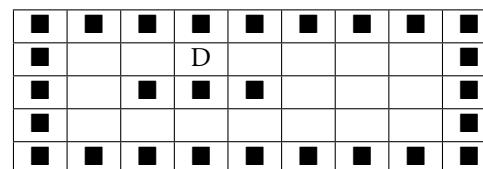
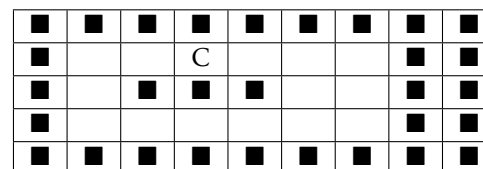
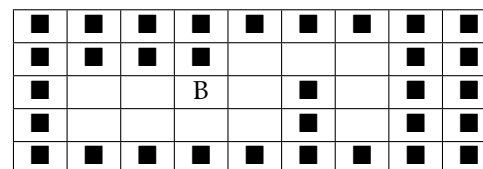
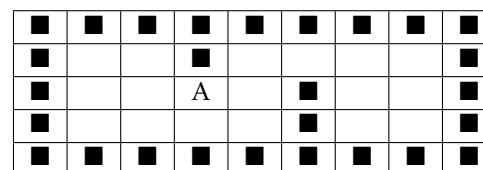
► **Exercice n°146**

Quatre joueurs A, B, C et D doivent passer sur chaque case de libre sachant que :

- ils ne peuvent passer d'une case libre qu'à une autre case libre directement à côté ;
- ils ne peuvent pas passer par une case non libre ;

Quels sont les joueurs pour lesquels c'est possible ?

Réponse :



(d'après concours Castor - chemin hamiltonien)

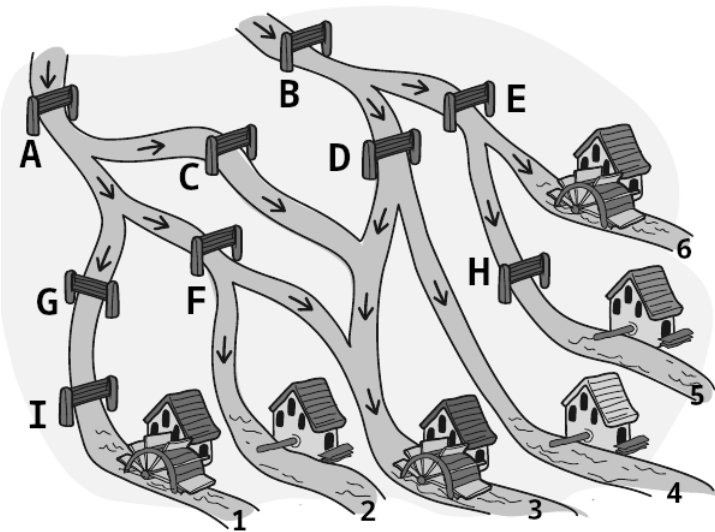
► **Exercice n°147**

Le meunier Max a six moulins. Il doit encore fixer la roue de trois d'entre eux. Pour cela, il doit empêcher l'eau d'arriver à ces moulins.

- L'eau doit par contre continuer de couler jusqu'aux autres moulins.
- L'eau ne peut couler que vers le bas.
- Un clapet fermé empêche l'eau de couler.

Quels clapets faut-il fermer ?

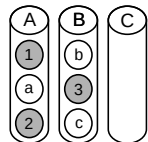
Réponse :



(d'après concours Castor - opérateurs booléens)

► **Exercice n°148**

On dispose de 6 balles de 2 couleurs différentes dans 2 cylindres A et B :



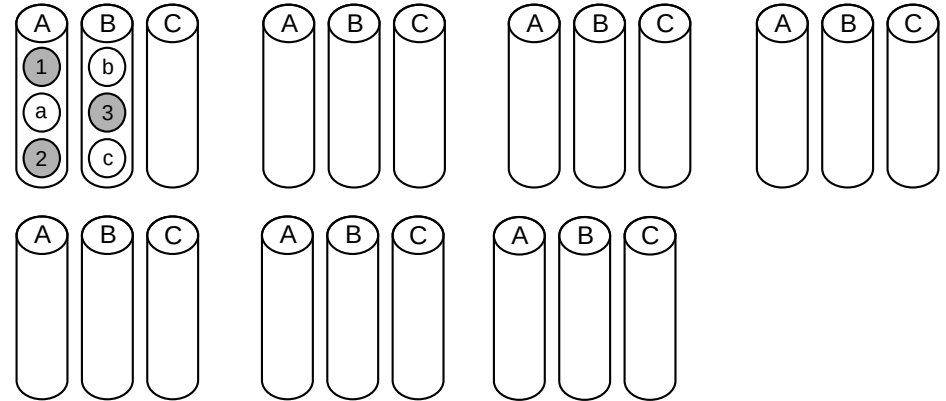
On cherche à trier les balles en s'aidant d'un troisième cylindre C de façon à ce que :

- à la fin, toutes les balles doivent se trouver dans deux cylindres ;
- toutes les balles qui se trouvent dans un verre doivent avoir la même couleur.

Pour cela on doit suivre les règles suivantes :

- Règle 1 : Seule la balle la plus haute d'un cylindre peut être déplacée dans un autre cylindre.
- Règle 2 : Une balle peut toujours être mise dans un cylindre vide.
- Règle 3 : Une balle peut être mise dans un cylindre non vide uniquement s'il y reste de la place et que la balle en dessous a la même couleur que la balle déplacée.

Montrer que cela est possible en 6 étapes :



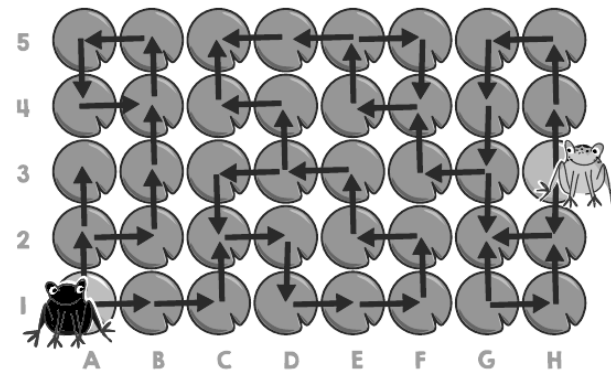
(d'après concours Castor - opérations sur les piles)

► **Exercice n°149**

Sur un étang couvert de nénuphars, deux grenouilles peuvent se déplacer en sautant de feuille en feuille, mais seulement en suivant le sens des flèches.

Sur quelle feuille les deux grenouilles peuvent-elles se rencontrer ?

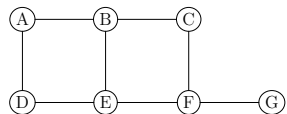
Réponse :



(d'après concours Castor - parcours en largeur et en profondeur)

► **Exercice n°150**

Dans le graphe ci-dessous, quel est le nombre minimal de sommets qu'il faut sélectionner pour que chaque arête du graphe commence OU finisse par un des sommets sélectionnés.



Réponse :

(d'après concours Castor - couverture d'un graphe par sommets)

► **Exercice n°151**

Dans un jeu, un joueur parcourt un ruban constitué de cases sur lesquelles peuvent figurer des balles.

- Si le joueur arrive sur une case avec une balle et a les mains libres, il la prend et la dépose sur la prochaine case libre.
- Si le joueur a déjà une balle en main en arrivant sur une case contenant une autre balle, il dépasse cette case et pose la balle sur la prochaine case vide.
- Un joueur ne peut avoir en main qu'une seule balle à la fois, et il n'y a la place que pour une balle sur chaque case.

Un joueur arrive devant le ruban ci-dessous :



Quelle sera la bonne configuration des balles sur le ruban après le passage du joueur ?

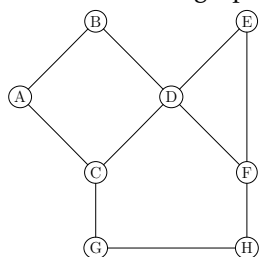
- A)
- B)
- C)
- D)
- E)

Réponse :

(d'après concours Castor - machine de Turing)

► **Exercice n°152**

On considère le graphe ci-dessous :



1. Quelle arête faut-il supprimer pour pouvoir colorer le graphe avec deux couleurs seulement? Réponse :
2. Proposer alors une répartition des deux couleurs nécessaires :
Sommets de couleur 1 : - Sommets de couleur 2 :

(d'après concours Castor - coloration de graphes)

► **Exercice n°153**

On considère les 8 nombres binaires de 3 bits : 000, 001, 010, 011, 100, 101, 110, 111 Réécrire la liste de ces 8 nombres de façon à ce que les nombres voisins ainsi que le premier et dernier nombre ne diffèrent qu'à une seule position.

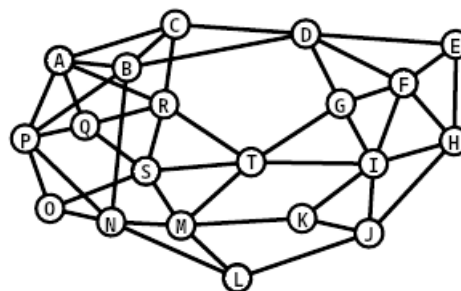
Réponse :
.....

(d'après concours Castor - code de Gray)

► **Exercice n°154**

Dans le graphe ci-dessous, déterminer les 4 sommets qu'il faudrait sélectionner pour que tous les autres sommets soient reliés par une arête à un de ces 4 sommets.

Réponse :



► **Exercice n°155**

Dans une méthode de chiffrement, chaque lettre est remplacée par un symbole selon la table incomplète suivante :

	I		△	⋈
	C	D	E	F
∩	H	I	L	M
⊠	O	Q	S	T
∇	V	W	Y	

On considère ce texte chiffré avec cette méthode :



Parmi les 4 messages ci-dessous, déterminer le message original qui a produit le texte chiffré. Réponse :

1. INFORMATIQUE MALINE
2. ELECTRONIQUE MALINE
3. INFORMATION SECRETE
4. INFORMEZ EXACTEMENT

(d'après concours Castor - chiffrement)

► **Exercice n°156**

Cinq élèves nommés Milo, Alice, Lilian, Liam et Mia disposent d'un cadenas à 3 chiffres où chaque chiffre correspond aux trois premières lettres de leur prénom et représente toujours la même lettre. Un des cinq élèves a oublié son code et le code des 4 autres cadenas sont (dans le désordre) 153, 735, 535 et 531.

Compléter le tableau suivant en attribuant à chaque élève le code de son cadenas :

Élève	Milo	Alice	Lilian	Liam	Mia
Code					

(d'après concours Castor - chiffrement)

► **Exercice n°157**

Notre patrimoine génétique est enregistré sous forme de séquences d'ADN. Une séquence d'ADN est essentiellement une suite de bases dont quatre formes existent : A, C, D et T. On considère les trois sortes de mutations suivantes :

Mutation	Description	Exemple
Substitution	Une base est remplacée par une autre	ATGGT → ATAGT
Délétion	Une base est perdue sans être remplacée	ATGGT → ATGT
Insertion	Une base est ajoutée dans une séquence	ATGGT → ACTGGT

Il y a exactement une des séquences suivantes qui ne peut pas être générée par trois mutations de la séquence GTATCG. Laquelle est-ce? Réponse :

1. GCAATG
2. ATTATCCG
3. GAATGC
4. GGTA AAC

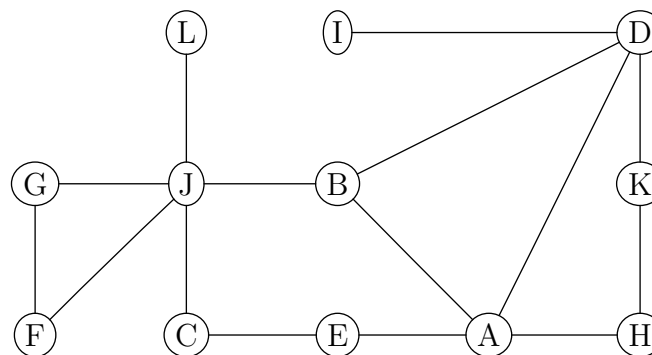
(d'après concours Castor - distance de Levenshtein)

► **Exercice n°158**

Dans le graphe ci-dessous, les sommets représentent des amis sur un réseau social et une arête indique que les amis reliés se transmettent toute nouvelle information dont ils disposent.

Déterminer l'ami à partir duquel une nouvelle atteint tous les autres amis le plus vite possible, c'est-à-dire en le moins d'étapes possible.

Réponse :



(d'après concours Castor - broadcast)

► **Exercice n°159**

Deux amis, Tom et Eva, veulent se voir le plus vite possible. Ils peuvent passer d'une case à la case voisine de droite, de gauche, du haut ou du bas.

- La traversée d'une case à une autre prend 1 minute à pied ;
- S'ils arrivent sur une case avec un skate (S), ils peuvent l'utiliser et, dès lors, avancer de 2 cases en 1 minute ;
- S'ils arrivent sur une case avec une trottinette (t), ils peuvent l'utiliser et, dès lors, avancer de 5 cases en 1 minute.

Les changements de direction sont toujours possibles, mais ils ne peuvent pas traverser les étendues d'eau ≈.

									(S)
	≈	≈							Tom
(t)		≈		(t)					
						≈			
	Eva				≈	≈	≈		
	(S)						≈		

De combien de minutes au minimum les deux amis ont-ils besoin pour se retrouver sur la même case ?

(d'après concours Castor - parcours en largeur)

► **Exercice n°160**

Notation pour cet exercice : si on appelle X une certaine liste de chiffres, on note alors $X[i]$ le chiffre de X situé à la i^e position.

Ainsi si $X = 53241$, on a $X[1] = 5$; $X[2] = 3$; $X[3] = 2$; $X[4] = 4$ et $X[5] = 1$.

On considère les listes de chiffres $A = 32415$; $B = 54132$ et $C = 25431$.

Déterminer la valeur de $A[B[C[3]]]$.

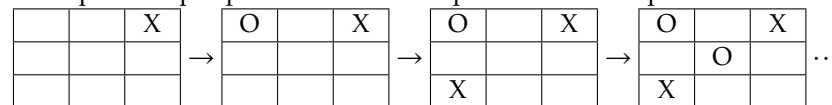
(d'après concours Castor - structure de données)

► **Exercice n°161**

Le morpion est un jeu pour deux personnes. Les deux joueurs remplissent une grille de 3×3 cases à tour de rôle : un joueur dessine des X et l'autre des O dans les cases. Le premier joueur qui place ses trois symboles dans trois cases alignées dans une colonne, une ligne ou une diagonale a gagné et le jeu est terminé.

Si personne n'a gagné et que toutes les cases sont remplies, c'est un match nul.

Exemple d'étapes possibles dans une partie avec les 4 premiers tours et le dernier :



O		X
	O	O
X	X	X

Une seule des grilles ci-dessous peut indiquer l'étape finale d'un jeu de morpion. Laquelle ?

- A)

X	O	X
O	X	O
O	O	X

 B)

X	O	X
O	X	
O	X	X

 C)

X	X	O
	O	X
O	O	X

 D)

X	O	X
O	X	O
O	X	

(d'après concours Castor - Interprète informatique)

► **Exercice n°162**

La combinaison d'un coffre est composée de 3 symboles et on connaît les 5 indications suivantes :

1		L'un des symboles fait partie de la clé et se trouve à la bonne position.
2		Aucun des symboles ne fait partie de la clé
3		Deux des symboles font partie de la clé, mais ils se trouvent les deux à de fausses positions.
4		L'un des symboles fait partie de la clé mais se trouve à la fausse position.
5		L'un des symboles fait partie de la clé mais se trouve à la fausse position.

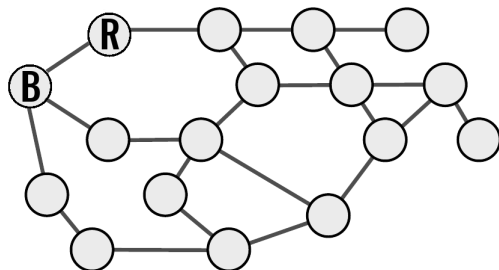
Laquelle des 4 combinaisons ci-dessous ouvre le coffre ?

- A)
 B)
 C)
 D)

(d'après concours Castor - Heuristique)

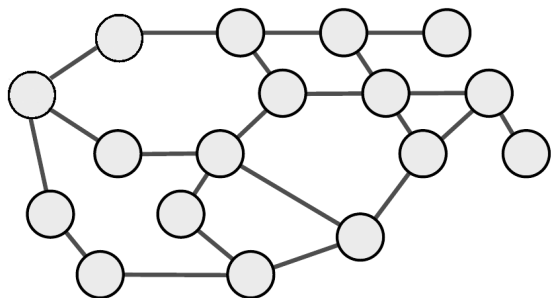
► **Exercice n°163**

- Deux nœuds d'un réseau informatique, schématisé par le graphe ci-dessous, ont été infectés par des virus informatiques : l'un avec le virus Bleu (noté B), l'autre avec le virus Rouge (noté R).



- Tous les matins, chaque virus infecte tous les nœuds qui sont directement reliés aux nœuds qu'il a déjà infectés.
- Lorsqu'un nœud est infecté par les deux virus, il se désactive au bout de quelques heures à cause de la surcharge et les virus ne peuvent plus se propager depuis les nœuds désactivés les jours suivants.

Déterminer ci-dessous l'état du réseau au bout de 5 jours : on notera X, les nœuds désactivés après avoir été infecté par les deux virus.

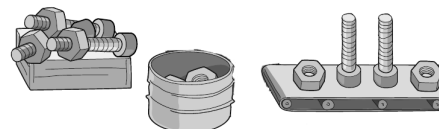


(d'après concours Castor - Réseau informatique)

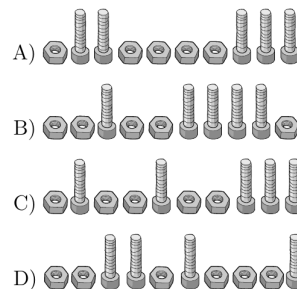
► **Exercice n°164**

Sur une chaîne de montage, on doit assembler des écrous et des boulons selon les modalités ci-dessous :

- on prend la prochaine pièce qui arrive sur la chaîne de montage ;
- si c'est un écrou, on le met dans le seau à écrous ;
- si c'est un boulon et qu'il y a au moins un écrou dans le seau, on prend un écrou dans le seau et on le visse sur le boulon et on range le tout dans une caisse.



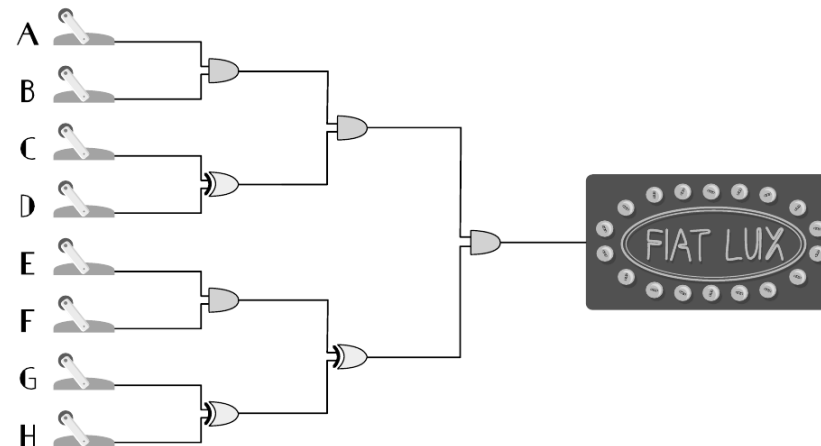
Parmi les 4 séquences suivantes, quelle est la seule qui peut être réalisée sans erreurs selon les modalités décrites ci-dessus ?





(d'après concours Castor - Automate à pile)

► **Exercice n°165**

Huit interrupteurs (de A à H) sont reliés à un panneau lumineux selon le schéma ci-dessous :

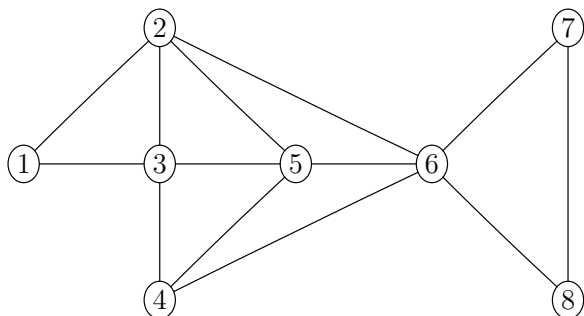


Sachant qu'avec le composant , le courant ne sort que si **les deux** fils entrants sont alimentés et qu'avec le composant , le courant ne sort que si **l'un des deux** fils entrants seulement est alimenté, déterminer quels interrupteurs doivent être actionnés pour que le panneau soit allumé.

(d'après concours Castor - Booléens)

► **Exercice n°166**

Dans le graphe ci-dessous, les sommets représentent des employés d'un service et une arête indique s'ils sont amis.



Sachant que :

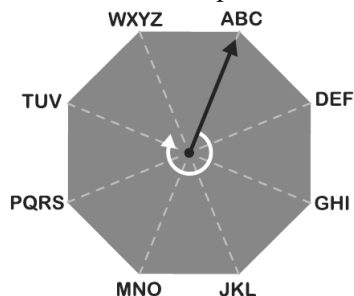
- Lili, Simon, et Pierre ont quatre amis chacun dans le service;
- Simon et Pierre sont les seuls amis de Nina dans le service.

Déterminer le numéro du sommet qui correspond à Lili.

(d'après concours Castor - Graphes)

► **Exercice n°167**

Des textes en clair peuvent être chiffrés grâce au disque suivant :



Au départ, l'aiguille pointe sur « ABC ». Chaque lettre est chiffrée individuellement. Pour cela, deux chiffres sont déterminés :

- Le premier chiffre indique de combien de positions l'aiguille doit être tournée dans le sens des aiguilles d'une montre pour qu'elle pointe le bloc contenant la lettre à chiffrer;
- Le deuxième chiffre indique la position de la lettre à chiffrer dans le bloc pointé.

Ainsi le mot « CHAT » est par exemple chiffré par la séquence : 03 – 22 – 61 – 61.

À quel mot correspond la séquence chiffrée 21-72-32-14?

(d'après concours Castor - Chiffrement)

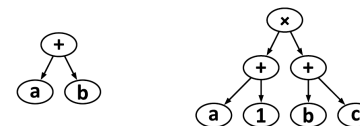
► **Exercice n°168**

Une expression mathématique est constituée de :

- d'un opérateur : + , - , × ou ÷
- et d'opérandes : des chiffres comme 1, 2, . . . , des lettres comme a, b, . . . , ou d'autres expressions comme (1 + 2).

La structure d'une expression mathématique peut être représentée par un arbre comme ci-dessous :

Arbre :



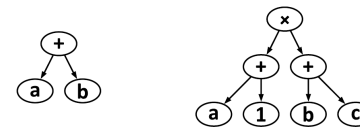
Expression mathématique :

$a + b$

$(a + 1) \times (b + c)$

Il existe une autre notation pour une expression mathématique où les parenthèses ne sont jamais nécessaires : la notation dite postfixée où on écrit chaque expression en commençant par les opérandes suivis des opérateurs. Avec les mêmes exemples cela donne :

Arbre :

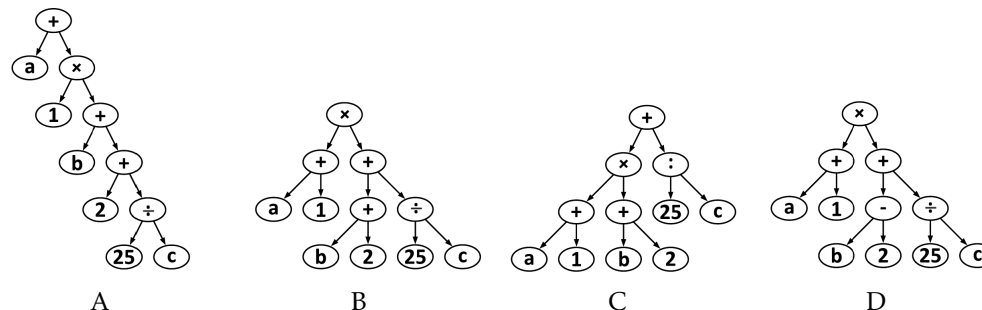


Expression postfixée :

$ab+$

$a1 + bc + x$

À quel arbre correspond l'expression en notation postfixée suivante : $a1 + b2 + x25c \div +$?



(d'après concours Castor - Notation polonaise inversée)

► **Exercice n°169**

Pour noter, sans l'écrire en clair, une combinaison de 5 chiffres (constitué des chiffres de 0 à 4), une personne utilise un système particulier pour la retrouver.

Exemple, pour retrouver le code

0	2	4	3	1
---	---	---	---	---

, la personne note la séquence suivante :

(0) 0; (3) 1; (0) 2; (1) 3; (0) 4

- (0) 0 signifie qu'il y a 0 chiffre plus grand que 0 à gauche de 0 dans la combinaison;
- (3) 1 signifie qu'il y a 3 chiffres plus grand que 1 à gauche de 1 dans la combinaison;
- (0) 2 signifie qu'il y a 0 chiffre plus grand que 2 à gauche de 2 dans la combinaison;
- (1) 3 signifie qu'il y a 1 chiffre plus grand que 3 à gauche de 3 dans la combinaison;
- (0) 4 signifie qu'il y a 0 chiffres plus grand que 4 à gauche de 4 dans la combinaison.

La séquence suivante permet de retrouver une combinaison de 8 chiffres (constitué des chiffres de 0 à 7) :

(3) 0; (2) 1; (4) 2; (4) 3; (1) 4; (1) 5; (1) 6; (0) 7

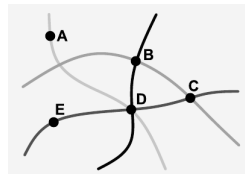
Retrouver la combinaison à laquelle ça correspond :

--	--	--	--	--	--	--	--

(d'après concours Castor - Permutation)

► **Exercice n°170**

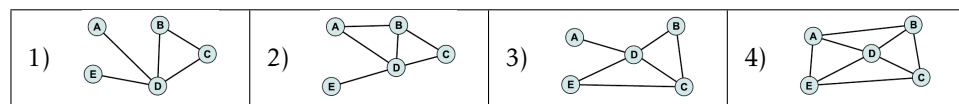
Le schéma ci-dessous représente 5 villes et 4 lignes de train.



On cherche à construire un graphe de telle façon que :

- Une ville soit représentée par un sommet;
- Une arête relie deux villes si elles sont situées sur la même ligne de train.

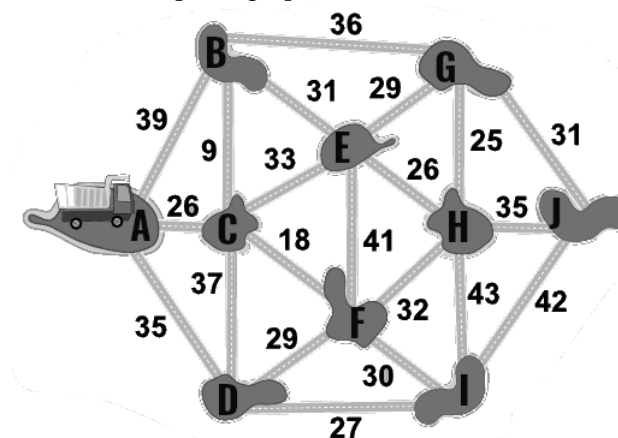
Déterminer le seul graphe ci-dessous qui réponde à la question :



(d'après concours Castor - Graphes)

► **Exercice n°171**

Dans un archipel, il y a dix îles (notées de A à J) qui sont reliées par des ponts comme l'indique le graphe ci-dessous :



Le nombre sur chaque arête indique le poids maximal en tonnes d'un camion pour qu'il puisse traverser le pont représenté par l'arête.

Un routier veut transporter le plus de tonnes de marchandise possible de A à J sans repasser par un pont qu'il aurait déjà emprunté. Quel parcours doit-il emprunter ?

(d'après concours Castor - Arbre couvrant de poids minimal)

► **Exercice n°172**

Une bouée météo automatique doit transmettre à intervalle régulier un des 4 nombres binaires suivants :

- 10000 pour « temps ensoleillé »
- 01010 pour « temps nuageux (sans pluie) »
- 00101 pour « temps pluvieux »
- 11111 pour « temps orageux »

Suite à une erreur de transmission, le code reçu est :




01110


En supposant qu'un seul des 5 bits a été mal transmis, retrouver à quel type de temps correspond le code envoyé.

(d'après concours Castor - Code correcteur)

► **Exercice n°173**

Dans un jeu, des messages sont chiffrés grâce à la table de chiffrement ci-dessous :

	I	II	III	IIII	○	◎	⊙	⊚
	A	B	C	D	E	F	G	H
	J	K	L	M	N	O	P	Q
	S	T	U	V	W	X	Y	Z


Ainsi par exemple la lettre H est chiffrée par le symbole 
 À quel message en clair, correspond le message chiffré ci-dessous ?



(d'après concours Castor - Chiffrement)

► **Exercice n°174**

Dans la figure ci-dessous, une tour est considérée comme bien rangée lorsque toutes les tours à sa gauche sont plus petites qu'elle et toutes les tours à sa droite sont plus grandes qu'elle.



Combien de tours sont-elles bien rangées ?

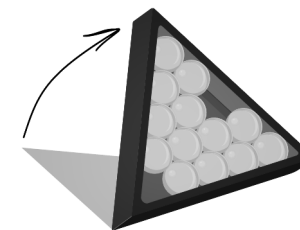
(d'après concours Castor - Tri rapide)

► **Exercice n°175**

Une boîte triangulaire peut contenir quinze boules de la même taille. Deux boules sont retirées de la boîte comme dans le dessin ci-dessous. La boîte est ensuite inclinée sur le côté.

Lorsque l'on incline la boîte, certaines boules peuvent devenir instables. Un boule est instable lorsque :

- la boule à gauche ou à droite en dessous d'elle a été retirée ;
- ou la boule à gauche ou à droite en dessous d'elle est instable.



Cocher sur la figure les boules instables.
 (d'après concours Castor - Récursivité)

► **Exercice n°176**

Le tableau ci-dessous indique des opérations possibles ou non avec les opérateurs * et + sur des nombres et des chaînes de caractère :

Opérations	Exemple
Nombre + Nombre → Nombre (additionner)	2 + 3 → 5
Nombre + Texte → Erreur	2 + "3" → erreur
Texte + Nombre → Erreur	"2" + 3 → erreur
Texte + Texte → Texte (texte bout à bout)	"2" + "3" → "23"
Nombre * Nombre → Nombre (multiplier)	2 * 3 → 6
Nombre * Texte → Texte (texte plusieurs fois bout à bout)	2 * "3" → "33"
Texte * Nombre → Texte (texte plusieurs fois bout à bout)	"2" * 3 → "222"
Texte * Texte → Erreur	"2" * "3" → erreur

Quelle série d'opérations a-t'elle permis de générer ce texte :


"...>(((°>.....>(((°>.....>(((°>.....>(((°>...."

- A) : $(3 * " . "+" > < "+" 3 * " (" + " ° > "+" 3 * " . ") * " 2 " * 2$
- B) : $(3 * " . "+" > < "+" 3 * " (" + " ° > ") * 2 * 2 + 3 * " . "$
- C) : $(3 * " . "+" > < "+" 3 * " (" + " ° > "+" 3 * " . ") * 2 * 2$
- D) : $(3 * " . "+" > < "+" 3 * " (" + " ° > "+" 3 * " . ") * 2 * 2$

(d'après concours Castor - Surcharge d'opérateurs)

► **Exercice n°177**

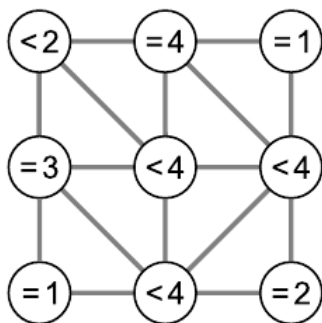
Colorer le motif ci-dessous avec seulement 3 couleurs de façon à ce que deux surfaces voisines (ayant une ligne en commun) soient de couleurs différentes :



(d'après concours Castor - Coloration)

► **Exercice n°178**

Dans le graphe ci-dessous, chaque cercle indique le nombre de cercles voisins (reliés directement par une arête) qui doit-être colorié (par une même couleur). Colorier les cercles qui doivent l'être pour respecter toutes les conditions :

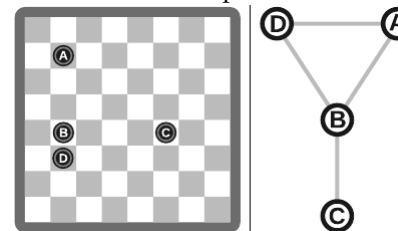


(d'après concours Castor - Sommets adjacents)

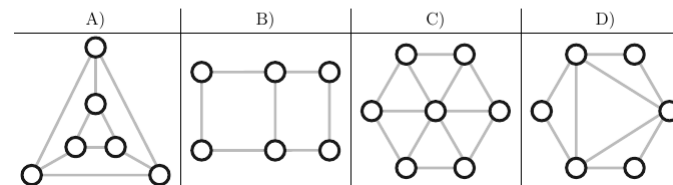
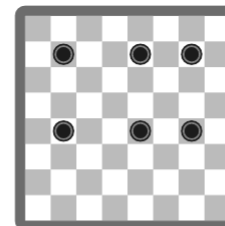
► **Exercice n°179**

À chaque grille où sont positionnés des jetons on fait correspondre un graphe dont les sommets représentent les pions et la présence d'une arête entre deux sommets indique que les pions correspondants sont situés sur une même ligne ou sur une même colonne.

Exemple :



Quel est le seul graphe qui peut correspondre à la grille ci-dessous ?



(d'après concours Castor - Graphes)

► **Exercice n°180**

Quand on télécharge plusieurs fichiers volumineux en même temps, la capacité de connexion est divisée par le nombre de fichiers à télécharger. Par exemple, quand on télécharge 10 fichiers en même temps, chaque fichier ne disposera que d'un dixième de la capacité de connexion. Lorsqu'un utilisateur télécharge 4 fichiers en même temps, le temps restant est calculé en fonction de la vitesse de transmission actuelle :



Combien de minutes l'utilisateur doit-il attendre jusqu'à ce que les 4 fichiers soient téléchargés ?

(d'après concours Castor)