

Complément sur le produit scalaire

©Pascal Brachet (CC BY NC SA)


<https://www.xm1math.net>

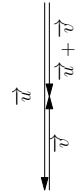
1. Produit scalaire et vecteurs colinéaires

Propriété(s)

- Si \vec{u} et \vec{v} sont deux vecteurs non nuls, **colinéaires et de même sens** alors $\vec{u} \cdot \vec{v} = \|\vec{u}\| \times \|\vec{v}\|$.
- Si \vec{u} et \vec{v} sont deux vecteurs non nuls, **colinéaires et de sens contraire** alors $\vec{u} \cdot \vec{v} = -\|\vec{u}\| \times \|\vec{v}\|$.

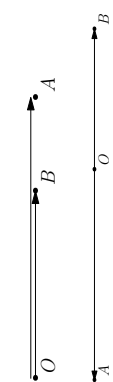
Démonstration : on rappelle que $\vec{u} \cdot \vec{v} = \frac{1}{2} (\|\vec{u} + \vec{v}\|^2 - \|\vec{u}\|^2 - \|\vec{v}\|^2)$

- Si \vec{u} et \vec{v} sont colinéaires et de même sens alors $\|\vec{u} + \vec{v}\| = \|\vec{u}\| + \|\vec{v}\|$ et donc,
$$\vec{u} \cdot \vec{v} = \frac{1}{2} [(\|\vec{u}\| + \|\vec{v}\|)^2 - \|\vec{u}\|^2 - \|\vec{v}\|^2] = \frac{1}{2} [2 \times \|\vec{u}\| \times \|\vec{v}\|] = \|\vec{u}\| \times \|\vec{v}\|$$


- S'ils sont colinéaires et de sens contraire alors $\|\vec{u} + \vec{v}\| = \|\vec{u}\| - \|\vec{v}\|$ ou $\|\vec{v}\| - \|\vec{u}\|$
et, $\vec{u} \cdot \vec{v} = \frac{1}{2} [(\|\vec{u}\| - \|\vec{v}\|)^2 - \|\vec{u}\|^2 - \|\vec{v}\|^2] = \frac{1}{2} [-2 \times \|\vec{u}\| \times \|\vec{v}\|] = -\|\vec{u}\| \times \|\vec{v}\|$ 

Conséquence

Étant donné O , A et B , trois points **alignés** et distincts :

- Si \vec{OA} et \vec{OB} sont de **même sens** alors $\vec{OA} \cdot \vec{OB} = OA \times OB$
(« produit scalaire = produit des distances »).
 - Si \vec{OA} et \vec{OB} sont de **sens contraire** alors
 $\vec{OA} \cdot \vec{OB} = -OA \times OB$
(« produit scalaire = - produit des distances »).
- 

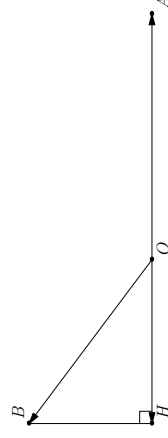
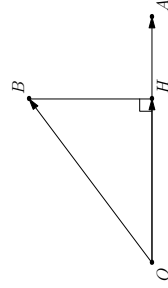
2. Produit scalaire et projection orthogonale

Propriété(s)

Étant donné un point O , A et B 2 points distincts de O et H le projeté orthogonal de B sur (OA) :

• Si \vec{OA} et \vec{OH} sont de **même sens** alors

$\vec{OA} \cdot \vec{OB} = \vec{OA} \cdot \vec{OH} = OA \times OH$



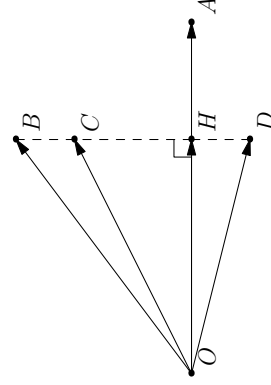
Démonstration : $\vec{OA} \cdot \vec{OB} = \vec{OA} \cdot (\vec{OH} + \vec{HB}) = \vec{OA} \cdot \vec{OH} + \vec{OA} \cdot \vec{HB}$. Or, $\vec{OA} \perp \vec{HB}$, donc $\vec{OA} \cdot \vec{HB} = 0$.

On a donc, $\vec{OA} \cdot \vec{OB} = \vec{OA} \cdot \vec{OH}$ et on est ramené au cas de 2 vecteurs colinéaires.

Conséquence

Dans la configuration ci-contre, on a :

$$\vec{OA} \cdot \vec{OB} = \vec{OA} \cdot \vec{OC} = \vec{OA} \cdot \vec{OD} = \vec{OA} \cdot \vec{OH}$$

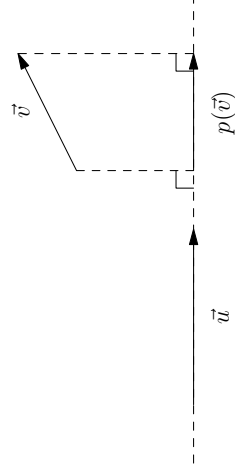


xmlmath.net

2. Produit scalaire et projection orthogonale

Généralisation

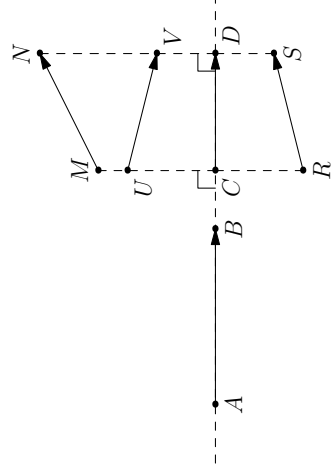
Étant \vec{u} et \vec{v} deux vecteurs non nuls. Si on note $p(\vec{v})$ la projection orthogonale de \vec{v} sur une droite portant \vec{u} , alors on a $\vec{u} \cdot \vec{v} = \vec{u} \cdot p(\vec{v})$



Conséquence

Dans la configuration ci-contre, on a :

$$\vec{AB} \cdot \vec{MN} = \vec{AB} \cdot \vec{UV} = \vec{AB} \cdot \vec{RS} = \vec{AB} \cdot \vec{CD}$$



xmlmath.net

2. Produit scalaire et projection orthogonale

Exemple(s)

Dans la figure ci-contre :

- $ABCD$ un carré de centre O et de coté 4 ;
- I est le milieu de $[AB]$;

1. Détermination de la valeur de $\overrightarrow{AB} \cdot \overrightarrow{AI}$:
 \overrightarrow{AB} et \overrightarrow{AI} sont colinéaires de même sens, donc $\overrightarrow{AB} \cdot \overrightarrow{AI} = AB \times AI = 4 \times 2 = 8$

2. Détermination de la valeur de $\overrightarrow{AB} \cdot \overrightarrow{AO}$:
 \overrightarrow{AO} se projette orthogonalement en \overrightarrow{AI} sur (AB) , donc $\overrightarrow{AB} \cdot \overrightarrow{AO} = \overrightarrow{AB} \cdot \overrightarrow{AI} = 8$

3. Détermination de la valeur de \overrightarrow{AB}^2 :
 $\overrightarrow{AB}^2 = AB^2 = 16$

4. Détermination de la valeur de $\overrightarrow{AB} \cdot \overrightarrow{AC}$:
 \overrightarrow{AC} se projette orthogonalement en \overrightarrow{AB} sur (AB) , donc $\overrightarrow{AB} \cdot \overrightarrow{AC} = \overrightarrow{AB} \cdot \overrightarrow{AB} = 16$

5. Détermination de la valeur de $\overrightarrow{AB} \cdot \overrightarrow{OD}$:
 \overrightarrow{OD} se projette orthogonalement en \overrightarrow{IA} sur (AB) , donc $\overrightarrow{AB} \cdot \overrightarrow{OD} = \overrightarrow{AB} \cdot \overrightarrow{IA}$
 Or, \overrightarrow{AB} et \overrightarrow{IA} sont colinéaires de sens contraire, donc

$$\overrightarrow{AB} \cdot \overrightarrow{IA} = -AB \times IA = -4 \times 2 = -8$$

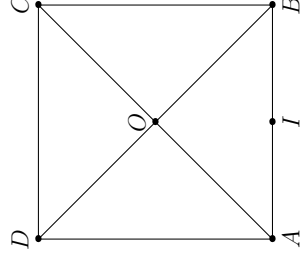
On a donc finalement $\overrightarrow{AB} \cdot \overrightarrow{OD} = -8$

6. Détermination de la valeur de $\overrightarrow{BI} \cdot \overrightarrow{CA}$:

\overrightarrow{CA} se projette orthogonalement en \overrightarrow{BA} sur (BI) , donc $\overrightarrow{BI} \cdot \overrightarrow{CA} = \overrightarrow{BI} \cdot \overrightarrow{BA}$

Or, \overrightarrow{BI} et \overrightarrow{BA} sont colinéaires de même sens, donc $\overrightarrow{BI} \cdot \overrightarrow{BA} = BI \times BA = 2 \times 4 = 8$

On a donc finalement $\overrightarrow{BI} \cdot \overrightarrow{CA} = 8$



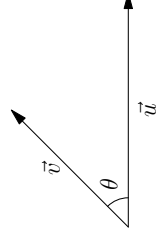
xmlmath.net

3. Produit scalaire, distances et angles

a) Autre définition du produit scalaire

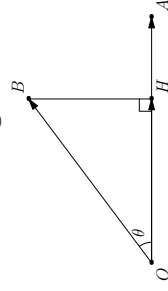
Propriété(s)

Si \vec{u} et \vec{v} sont deux vecteurs non nuls et si θ est une mesure de l'angle géométrique entre \vec{u} et \vec{v} alors on a $\vec{u} \cdot \vec{v} = \|\vec{u}\| \times \|\vec{v}\| \times \cos \theta$



Démonstration : Étant donné un point O , A et B les points tels que $\vec{u} = \overrightarrow{OA}$ et $\vec{v} = \overrightarrow{OB}$ et H le projeté orthogonal de B sur (OA) . On a $\vec{u} \cdot \vec{v} = \overrightarrow{OA} \cdot \overrightarrow{OH}$

- Si θ est aigu :



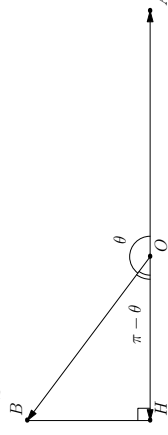
$$\text{On a } \overrightarrow{OA} \cdot \overrightarrow{OH} = OA \times OH.$$

$$\text{Or, } \cos \theta = \frac{OH}{OB} \text{ et donc } OH = OB \times \cos \theta.$$

On a donc,

$$\vec{u} \cdot \vec{v} = OA \times OB \times \cos \theta = \|\vec{u}\| \times \|\vec{v}\| \times \cos \theta$$

- Si θ est obtus :



$$\text{On a } \overrightarrow{OA} \cdot \overrightarrow{OH} = -OA \times OH.$$

$$\text{Or, } \cos(\pi - \theta) = \frac{OH}{OB} \text{ et donc}$$

$$OH = OB \times \cos(\pi - \theta) = -OB \times \cos \theta \text{ car}$$

$$\cos(\pi - \theta) = -\cos \theta$$

On a donc,

$$\vec{u} \cdot \vec{v} = -OA \times (-OB \times \cos \theta) = \|\vec{u}\| \times \|\vec{v}\| \times \cos \theta$$

xmlmath.net

3. Produit scalaire, distances et angles

Exemple(s)

1. Calculer $\vec{u} \cdot \vec{v}$ dans les cas suivants :

a) $\|\vec{u}\| = 1$, $\|\vec{v}\| = 2$, $\theta = \frac{\pi}{6}$. Réponse : $\vec{u} \cdot \vec{v} = 1 \times 2 \times \cos\left(\frac{\pi}{6}\right) = 1 \times 2 \times \frac{\sqrt{3}}{2} = \sqrt{3}$

b) $\|\vec{u}\| = 6$, $\|\vec{v}\| = \sqrt{2}$, $\theta = \frac{3\pi}{4}$. Réponse : $\vec{u} \cdot \vec{v} = 6 \times \sqrt{2} \times \cos\left(\frac{3\pi}{4}\right) = 6 \times 2 \times \left(-\frac{\sqrt{2}}{2}\right) = -6$

2. Déterminer le cosinus de l'angle géométrique entre \vec{u} et \vec{v} avec $\vec{u} \left(\begin{smallmatrix} 1 \\ \sqrt{3} \end{smallmatrix} \right)$ et $\vec{v} \left(\begin{smallmatrix} 3 \\ \sqrt{3} \end{smallmatrix} \right)$.

Réponse : $\vec{u} \cdot \vec{v} = \|\vec{u}\| \times \|\vec{v}\| \times \cos \theta = \frac{\vec{u} \cdot \vec{v}}{\|\vec{u}\| \times \|\vec{v}\|} = \frac{1 \times 3 + \sqrt{3} \times \sqrt{3}}{\sqrt{1^2 + (\sqrt{3})^2} \times \sqrt{3^2 + (\sqrt{3})^2}}$

$$= \frac{6}{2 \times 2\sqrt{3}} = \frac{3}{2\sqrt{3}} = \frac{\sqrt{3} \times \sqrt{3}}{2\sqrt{3}} = \frac{\sqrt{3}}{2}.$$

(donc la mesure principale de l'angle orienté (\vec{u}, \vec{v}) est $\frac{\pi}{6}$ ou $-\frac{\pi}{6}$).

3. Déterminer une mesure de l'angle géométrique \widehat{BAC} avec $A \left(\begin{smallmatrix} 1 \\ 1 \end{smallmatrix} \right)$, $B \left(\begin{smallmatrix} 3 \\ 2 \end{smallmatrix} \right)$ et $C \left(\begin{smallmatrix} 2 \\ 4 \end{smallmatrix} \right)$.

On a $\overrightarrow{AB} \left(\begin{smallmatrix} 2 \\ 1 \end{smallmatrix} \right)$, $\overrightarrow{AC} \left(\begin{smallmatrix} 1 \\ 3 \end{smallmatrix} \right)$ et $\cos \widehat{BAC} = \frac{\overrightarrow{AB} \cdot \overrightarrow{AC}}{AB \times AC} = \frac{2 \times 1 + 1 \times 3}{\sqrt{2^2 + 1^2} \times \sqrt{1^2 + 3^2}} = \frac{5}{\sqrt{5} \times \sqrt{10}}$

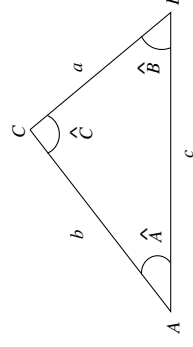
$$= \frac{\sqrt{5} \times \sqrt{5}}{\sqrt{5} \times \sqrt{2} \times \sqrt{5}} = \frac{1}{\sqrt{2}} = \frac{\sqrt{2}}{2}. \text{ On peut en déduire qu'une mesure de l'angle géométrique } \widehat{BAC} \text{ est } \frac{\pi}{4}.$$

3. Produit scalaire, distances et angles

b) Théorème d'Al-Kashi

Théorème

Dans un triangle quelconque ABC et avec les notations de la figure ci-contre, on a : $a^2 = b^2 + c^2 - 2bc \cos \hat{A}$.



Démonstration :

$$a^2 = BC^2 = \overrightarrow{BC}^2 = (\overrightarrow{BA} + \overrightarrow{AC})^2 = (\overrightarrow{AC} - \overrightarrow{AB})^2 = \overrightarrow{AC}^2 - 2\overrightarrow{AC} \cdot \overrightarrow{AB} + \overrightarrow{AB}^2.$$

Or, $\overrightarrow{AC}^2 = AC^2$, $\overrightarrow{AB}^2 = AB^2 = c^2$ et $\overrightarrow{AC} \cdot \overrightarrow{AB} = AC \times AB \times \cos \hat{A} = bc \cos \hat{A}$

Au final, on a bien $a^2 = b^2 + c^2 - 2bc \cos \hat{A}$.

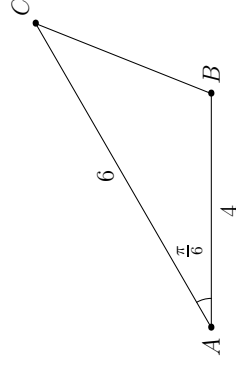
Exemple(s)

1. Dans la configuration ci-contre, déterminer la distance BC .

Réponse :

$$BC^2 = 6^2 + 4^2 - 2 \times 6 \times 4 \times \cos\left(\frac{\pi}{6}\right) = 36 + 16 - 48 \times \frac{\sqrt{3}}{2} = 52 - 24\sqrt{3}.$$

On en déduit que $BC = \sqrt{52 - 24\sqrt{3}}$



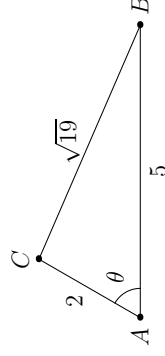
3. Produit scalaire, distances et angles

Exemple(s)

2. Dans la configuration ci-contre, déterminer une mesure de θ .

Réponse : On a $(\sqrt{19})^2 = 2^2 + 5^2 - 2 \times 2 \times 5 \times \cos \theta$
 $\Leftrightarrow 19 = 4 + 25 - 20 \cos \theta \Leftrightarrow -10 = -20 \cos \theta \Leftrightarrow \cos \theta = \frac{1}{2}$.

On en déduit que l'angle géométrique θ mesure $\frac{\pi}{3}$.



Fin du chapitre